

Adiyaman İl Milli Eğitim Müdürlüğü

Ders: Sosyal Bilgiler

Sınıf: 6

Ünite: 3



Adiyaman

2021

Bu Çalışma İl Milli Eğitim Müdürlüğü'nün Koordinasyonunda

Gölbaşı Belören Ortaokulu,

Tut Abuzer Yıldırım AİHL ve

Kahta Gazi Ortaokulu

Katkılarıyla hazırlanmıştır.

DERS: SOSYAL BİLGİLER

SINIF: 6

ÜNİTE NO: 3

ÜNİTE ADI: YERYÜZÜNDE YAŞAM

DÜNYANIN NERESİNDEYİZ?

Paralel: Ekvatora paralel birer derecelik açılarla çizilen doğudan batıya uzanan hayali çizgilere paralel denir.

Paralellerin Özellikleri:

- Başlangıç paraleli ekvatorudur (0 derece).
- Ekvator en büyük paralel dairesidir.
- Kutup noktalarına eşit uzaklıktadır.
- Ekvator'un kuzeyinde 90 ve güneyinde 90 olmak üzere toplam 180 paralel vardır.
- İki paralel arasındaki uzaklık eşittir ve 111 kilometredir.
- Paralellerin boyları dünyanın şekline göre Ekvatordan kutuplara doğru kısalır, kutuplarda nokta halini alır.

Meridyen: Bir kutup noktasından başlayarak diğer kutup noktasında sona eren, ekvator ve paralel dairelerini dik kesen yaylara meridyen denir.

Meridyenlerin Özellikleri:

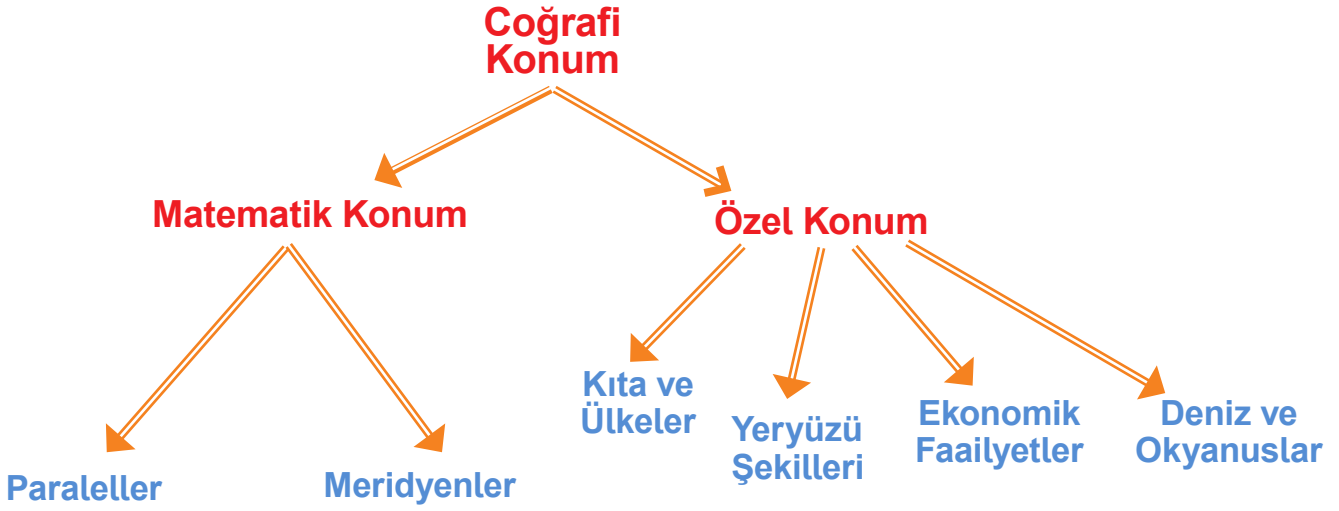
- Başlangıç meridyeni İngiltere'nin başkenti Londra'daki Greenwich (Grinich) gözleminden geçen meridyen kabul edilir ve 0 derece ile gösterilir.
- Başlangıç meridyeninin 180 doğusunda 180 batısında toplam 360 meridyen yayı vardır.
- Meridyenlerin uzunlukları birbirine eşittir ve yarım daire şeklindedir.
- İki meridyen arası mesafe ekvatorda 111 kilometredir, kutuplara doğru azalır.
- İki meridyen arasında 4 dakikalık zaman farkı vardır.
- Aynı meridyen üzerindeki tüm noktalarının yerel saatleri aynı olur.

Coğrafi Konum: Herhangi bir yerin dünya üzerindeki bulunduğu yere coğrafi konum denir.

Coğrafi Konum Çeşitleri:

1- Matematik (mutlak) Konum: Bir yerin ekvator ve başlangıç meridyenine olan uzaklığına matematik konum denir.

2- Özel (göreceli) Konum: Bir yerin denizlere, okyanuslara, kıtalara, komşu ülkelere, yeryüzü şekillerine ve ekonomik faaliyet bölgelerine göre konumuna özel konum denir.



Türkiye'nin Coğrafi (Matematik) Konumunun Sonuçları:

- Türkiye 36- 42 derece kuzey paralelleri (KP); 26- 45 derece doğu meridyenleri (DM) arasında yer alır.
- Ekvator'un kuzeyinde, kuzey yarımkürededir.
- Başlangıç meridyeninin doğusunda yer alır.
- Orta kuşakta yer alır, dört mevsim belirgin yaşanır.
- Kuzeyi ile güneyi arasında 6 paralel; doğusu ile batısı arasında 19 meridyen farkı vardır.

Jeopolitik konum: Bir yerin matematik(mutlak) ve Özel (göreceli) konumunun ülkeler arasındaki siyasi ilişkilere yansımalarıdır.

Türkiye'nin Jeopolitik Konumunun Sonuçları:

- Balkanlar, Kafkaslar ve Ortadoğu üçgeninin merkezinde yer almaktadır.
- Üç tarafı denizlerle çevrilidir.
- Asya ile Avrupa kıtaları arasında köprü konumundadır.
- Zengin doğal kaynaklara sahiptir.
- İstanbul ve Çanakkale boğazlarına sahiptir.
- Avrupa ülkeleriyle Ortadoğu'daki zengin petrol ülkeleri arasında bulunur.
- Yükseklik fazladır, batıdan doğuya gidildikçe yükseklik artar, sıcaklık düşer.

Kıta: Etrafı deniz ve okyanuslarla çevrili büyük kara parçalarına kıta denir.

Kıtaların Adları (Büyükten Küçüğe):

1- Asya 2- Afrika 3- Kuzey Amerika 4- Güney Amerika
5- Antarktika 6- Avrupa 7- Avustralya (Okyanusya)

Okyanus: Kıtalar tarafından birbirinden ayrılan büyük su kütlelerine okyanus denir.

Okyanusların Adları (Büyükten Küçüğe):

1- Büyük Okyanus 2- Atlas Okyanusu 3- Hint Okyanusu

ÜLKEMİZİN COĞRAFI ÖZELLİKLERİ

Yüzey Şekilleri İle İlgili Kavramlar:

Dağ: Çevresine göre yüksekte kalan, tabandan zirveye doğru yamaçları eğimli yeryüzü şekillerine dağ denir.

Akarsu: Yeryüzünde belirli bir eğim boyunca sürekli veya zaman zaman akan sulara denir.

Körfez: Denizin, karanın içine doğru sokulduğu büyük girintilere körfez denir.

Yarımada: Üç tarafı sularla çevrili, bir tarafı karayla bağlantılı yeryüzü şekline yarımada denir.

Burun: Kara parçalarının denizin içine doğru uzanmış bölümleridir.

Boğaz: İki denizi birbirine bağlayan dar su geçitleridir. İstanbul ve Çanakkale Boğazları

Doruk: Dağların en yüksek yerlerine doruk denir.

Plato (Yayla): Akarsular tarafından yarılmış yüksek ve geniş düzlüklere plato (yayla) denir.

Vadi: Akarsuların yataklarını derinleştirerek oluşturduğu "U" veya "V" şeklindeki uzun oluklara vadi denir.

Ova: Çevresine göre alçakta olan geniş düzlüklere ova denir.

Deniz: Okyanusların karaların içlerine doğru girmiş kollarına deniz denir.

Göl: Karalar üzerindeki dört tarafı kapalı çukurlardaki su birikintilerine göl denir.

Ada: Dört tarafı sularla çevrili kara parçasına ada denir.

Karadeniz ve Akdeniz Bölgesi'nde dağlar kıyıya paralel; Ege Bölgesi'nde kıyıya dik uzanır.

Yükseltisi en az olan bölge Marmara; En fazla olan bölge Doğu Anadolu'dur.

İklim Tiplerinin Dağılımını Etkileyen Faktörler:

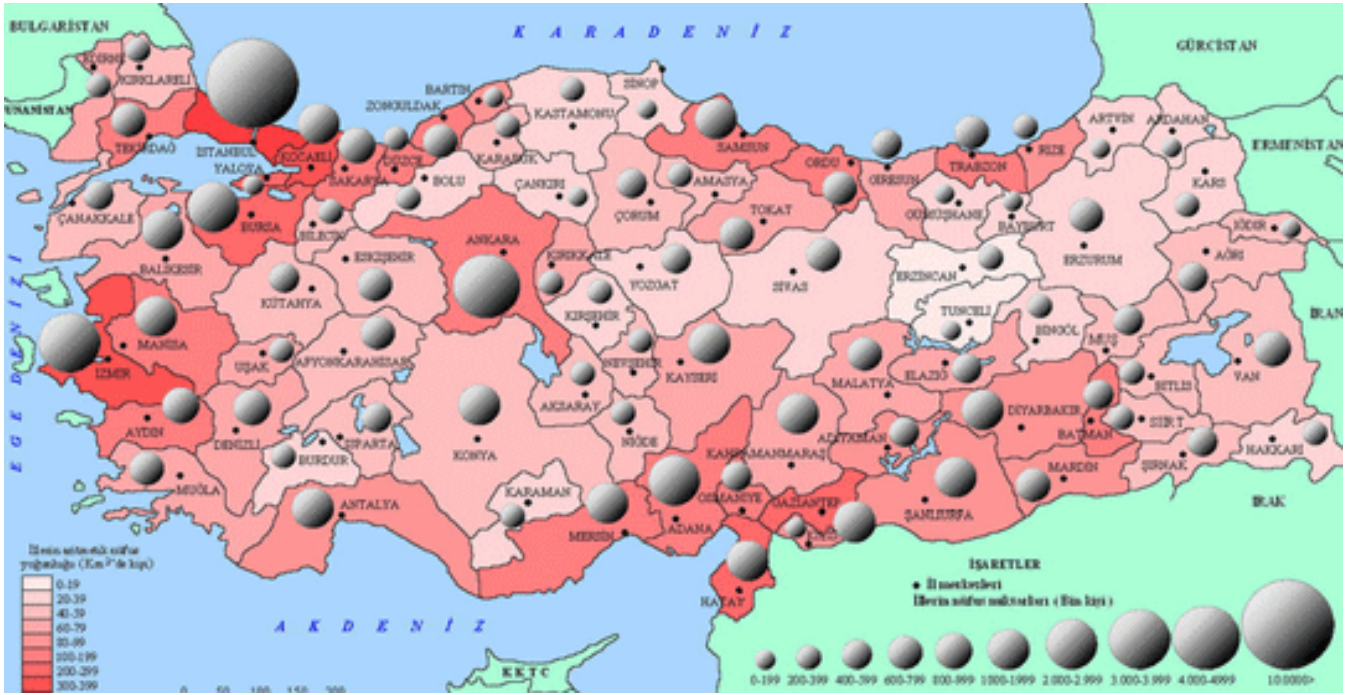
- 1- Ekvatora Olan Uzaklık:** Ekvatordan uzaklaştıkça sıcaklık azalır. Türkiye ekvatora kutuplardan daha yakın olduğu için Türkiye ılıman iklim kuşağındadır. Ülkemizin güneyi ekvatora yakın olduğu için daha sıcaktır.
- 2- Dağların Uzanışı:** Dağların kıyıya paralel yada dik olması iklimi etkiler. Karadeniz ve Akdeniz'de dağlar kıyıya paralel uzandığı için deniz iklimi iç bölgelere ulaşamaz. Ege Bölgesi'nde dağlar denize dik uzandığı için deniz iklimi iç kesimlere ulaşır.
- 3- Karasallık:** Karalar erken ısınır, erken soğur; denizler geç ısınır, geç soğur. Bu durum kıyılarda ikliminin ılık olmasını sağlar.
- 4- Yükselti:** Türkiye yüksek bir ülkedir, ortalama yükseltisi 1132 metredir. Her 200 metrede sıcaklık 1 derece düşer.
- 5- Bakı:** Dağların güneş ışınlarına göre durumuna bakı denir. Ülkemizde dağların güney yamaçları kuzey yamaçlarından daha çok ısınır.
- 6- Rüzgarlar:** Rüzgarlar geldikleri yerin sıcaklığını taşırlar, sıcak yerlerden gelen rüzgarlar sıcaklığı artırırken; soğuk yerlerden gelen rüzgarlar sıcaklığı azaltır. Ülkemizde güneyden esen rüzgarlar sıcaklığı yükseltirken, kuzeyden esen rüzgarlar sıcaklığı düşürür.

Türkiye'deki İklim Tipleri ve Özellikleri

İklim Adı	Özellikleri	Görüldüğü Bölgeler	Ev Tipleri
Karadeniz İklimi	<ul style="list-style-type: none"> • Her mevsim yağışlıdır. • En fazla yağış sonbahar, en az yağışı ilkbaharda alır. • Yıllık yağış miktarı 2000-2500 mm'dir. • Yaz ve kış sıcaklık farkı en az olan iklim tipidir. • Nem oranı fazla olduğu için mevsimler arasında sıcaklık farkı azdır. • Bitki örtüsü ormandır. 	Karadeniz Bölgesi, Marmara'nın Kuzey Kesimleri	Evler genellikle ahşaptan yapılır.
Akdeniz İklimi	<ul style="list-style-type: none"> • Yazlar sıcak ve kurak, kışlar ılık ve yağışlı geçer. • Yaz mevsiminin uzun sürmesi turizmin gelişmesini sağlamıştır. • Bitki örtüsü maki'dir. • Kışların ılık geçmesi seracılık faaliyetlerini yaygınlaştırmıştır. 	Akdeniz Bölgesi, Ege Bölgesi, Marmara Denizi Çevresi	Evler genellikle taştan yapılır.
Karasal İklim	<ul style="list-style-type: none"> • Yazlar sıcak ve kurak, kışlar soğuk ve kar yağışlı geçer. • En fazla yağışı ilkbahar mevsiminde alır. • Bitki örtüsü bozkır'dır. • Yıllık yağış miktarı azdır. • Yaz ile kış arası sıcaklık farkı fazladır. 	İç Anadolu, Güney Doğu Anadolu ve Doğu Anadolu Bölgeleri	Evler genellikle kerpiçten yapılır.

ÜLKEMİZİN BEŞERİ COĞRAFYASI

Beşeri Coğrafya: İnsanların yeryüzünde yaptıkları değişimleri inceleyen bilime, beşeri coğrafya denir. Beşeri coğrafya; tarım, sanayi, ulaşım, turizm, nüfus, yerleşme ve kentleşme gibi insan faaliyetlerini inceler.



Türkiye'de Nüfus Dağılışı Haritası



Türkiye Tarım Ürünleri Haritası

YURDUMUZDA HAYVANCILIK



Türkiye Hayvancılık Haritası

YURDUMUZUN MADEN VE ENERJİ KAYNAKLARI



Türkiye Maden ve Enerji Kaynakları Haritası

FARKLI İKLİMLER FARKLI YAŞAMLAR

Dünyadaki Bazı İklimler:

1- Çöl İklimi: Gündüz çok sıcak, gece çok soğuktur. Kum fırtınalarından korunmak için uzun elbise giyilir, çadırlarda ve göçebe yaşam vardır, su olmadığı için geçim kaynağı hayvancılıktır. En çok deve beslenir. Deve ulaşım ve taşımacılıkta kullanılır.

2- Kutup İklimi: Kutuplarda görülür, yaz-kış çok soğuktur. Yıllık ortalama sıcaklık -30 0C ile -35 0C arasında seyrederek. Soğuktan korunmak için kalın elbiseler giyilir, buzdan evler yapılır, ulaşım aracı olarak köpeklerin çektiği kızaklar ve kar motosikletleri kullanılır, geçim kaynağı avcılık ve balıkçılıktır. Bu bölgedeki insanlar kışın buzdan ve balina kemiklerinden yaptıkları İgloo denilen kubbeli, geleneksel evlerde yazın ise çadırlarda yaşarlar. Kanada'nın kuzeyi, Alaska, Grönland ve Sibirya'nın doğusunda yaşayan yerli halka Eskimo denir.

3- Ekvator İklimi: Ekvator çevresinde görülür, yaz-kış çok sıcaktır. Kış ayları yaşanmaz, bütün ihtiyaçlar yağmur ormanlarındaki doğal ortamdan sağlanır. Yaz-kış düzenli bol yağış vardır. Orman ürünleri ve balıkçılık geçim kaynağıdır. Brezilya ve Singapur gibi ülkelerde görülür.


4- Muson İklimi: Ekvator ile dönenceler arasında görülür, yazlar bol yağışlı, kışlar kuraktır. En önemli geçim kaynağı tarım ve özellikle çeltik tarımıdır, sel baskınları çok yaşanır. Güneydoğu Asya'ya Muson Asya'sı da denir. İklim Hindistan, Bangladeş, Japonya, Çin gibi ülkelerde görülür. Muson ikliminde yağışların fazla olması pirinç üretimini kolaylaştırır. Mobilya ve gemi yapımında teak adı verilen ağaçlardan faydalanırlar. Konutlarını ahşaptan yaparak çatılarında saz ve kamış kullanmışlardır.

5- Akdeniz İklimi: Akdeniz iklimi dünyamızın 300 ile 400 enlemleri arasında yer alır. Akdeniz iklimi Mısır, Libya hariç Akdeniz çevresindeki ülkelerde, ABD, Şili, Avustralya, Güney Afrika Cumhuriyeti'nde görülür. Yazları sıcak ve kurak, kışları ise ılık ve yağışlı geçer. Yağışlar genellikle yağmur şeklindedir. Yağışlar en fazla kış mevsiminde olur. Yıllık ortalama sıcaklık 15 °C – 20 °C arasındadır. Kışın sıcaklık 0 °C'nin altına nadiren düşer. Doğal bitki örtüsü kuraklığa dayanabilen bodur çalılardan oluşan makidir.

ETKİNLİK ÇALIŞMALARI

A) Aşağıdaki cümleleri okuyunuz. Cümlelerde verilen bilgiler doğru ise cümlenin başına "D" yanlış ise "Y" yazınız.

- () Dünyayı tam ortadan ikiye ayırdığı varsayılan hayali çizgiye Ekvator denir.
- () Ardışık iki meridyen arası zaman farkı 6 dakikadır.
- () Dünyanın Ekvator'dan şişkin, kutuplardan basık olan kendine özgü şekline Geoit denir.
- () Ekvator'dan başlayıp kuzey ve güney kutup noktalarına doğru Ekvator 'a yatay şekilde uzandığı varsayılan hayali çizgilere paralel denir.
- () Bir yerin kıtalara, okyanuslara, denizlere, boğazlara olan uzaklığına o yerin Mutlak konum denir.
- () Herhangi bir yerin kıtalara, denizlere, dağlara, boğazlara, komşu ülkelere, ulaşım yollarına, yer altı ve yer üstü kaynaklarına göre konumu o yerin özel Konumudur.
- () Ülkemizin Fiziki Haritasına bakıldığında yükseltinin batıdan doğuya doğru gidildikçe azaldığı görülmektedir.
- () Ormanlar bakımından en zengin bölgemiz Karadeniz Bölgesidir.
- () İklim, yer şekilleri, su kaynakları ve bitki örtüsü nüfusun dağılışını etkileyen beşeri etmenlerdir.
- () Ülkemiz nüfus yoğunluğu haritası incelendiğinde; bölgeler arasında, iç ve kıyı kesimleri arasında, batı ve doğu bölgeleri arasında nüfusun dengesiz dağıldığı görülür.
- () Ülkemiz 36-42 Kuzey Paralelleri-26-45 Doğu Meridyenleri arasında yer alır.
- () Ülkemizde Akdeniz, Karadeniz ve Karasal olmak üzere üç iklim türü görülür.
- () Ülkemizde batıdan doğuya doğru gidildikçe yükselti azalır.
- () Ülkemizin toprakları Asya, Avrupa ve Afrika Toprakları üzerinde yer alır.
- () Fiziki haritalarda yer şekillerinin daha belirgin gösterebilmek ve yer şekillerinin daha iyi anlaşılmasını sağlamak için yükselti basamaklarına göre renk verilir.



B) Aşağıdaki soruları cevaplayarak bulmacadaki uygun yerleri doldurunuz.

1.Yaz mevsimleri ılık ve yağışlı, kışları kuru ve soğuk geçen iklim

2.Ülkemizde nüfus yoğunluğunun en fazla olduğu bölge.

3. Sınırları belli bir alanda yaşayan insan sayısına verilen ad.

4.Yeryüzünü oluşturan büyük kara parçalarına verilen ad.

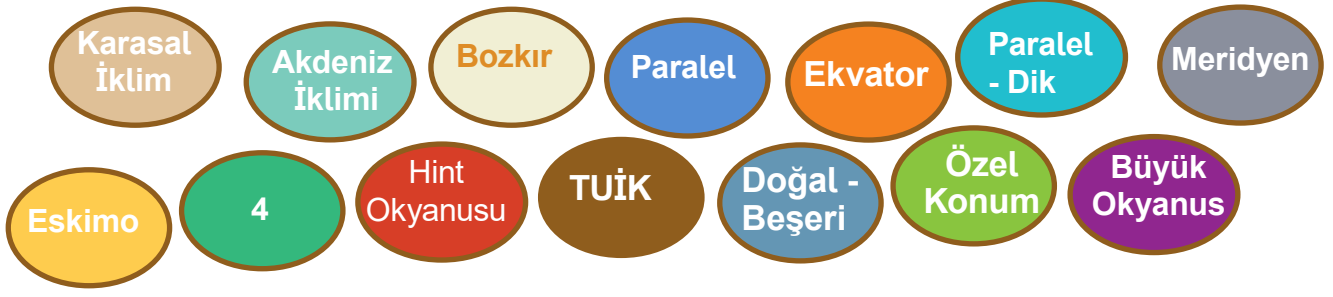
5.Ülkemizde nüfus bilgilerini güncel olarak kayıt altında tutan kurum.

6.Kıtalar arasındaki büyük çukurlarda kalan geniş ve derin su kütlelerine verilen ad.

7.Akdeniz bitki örtüsü

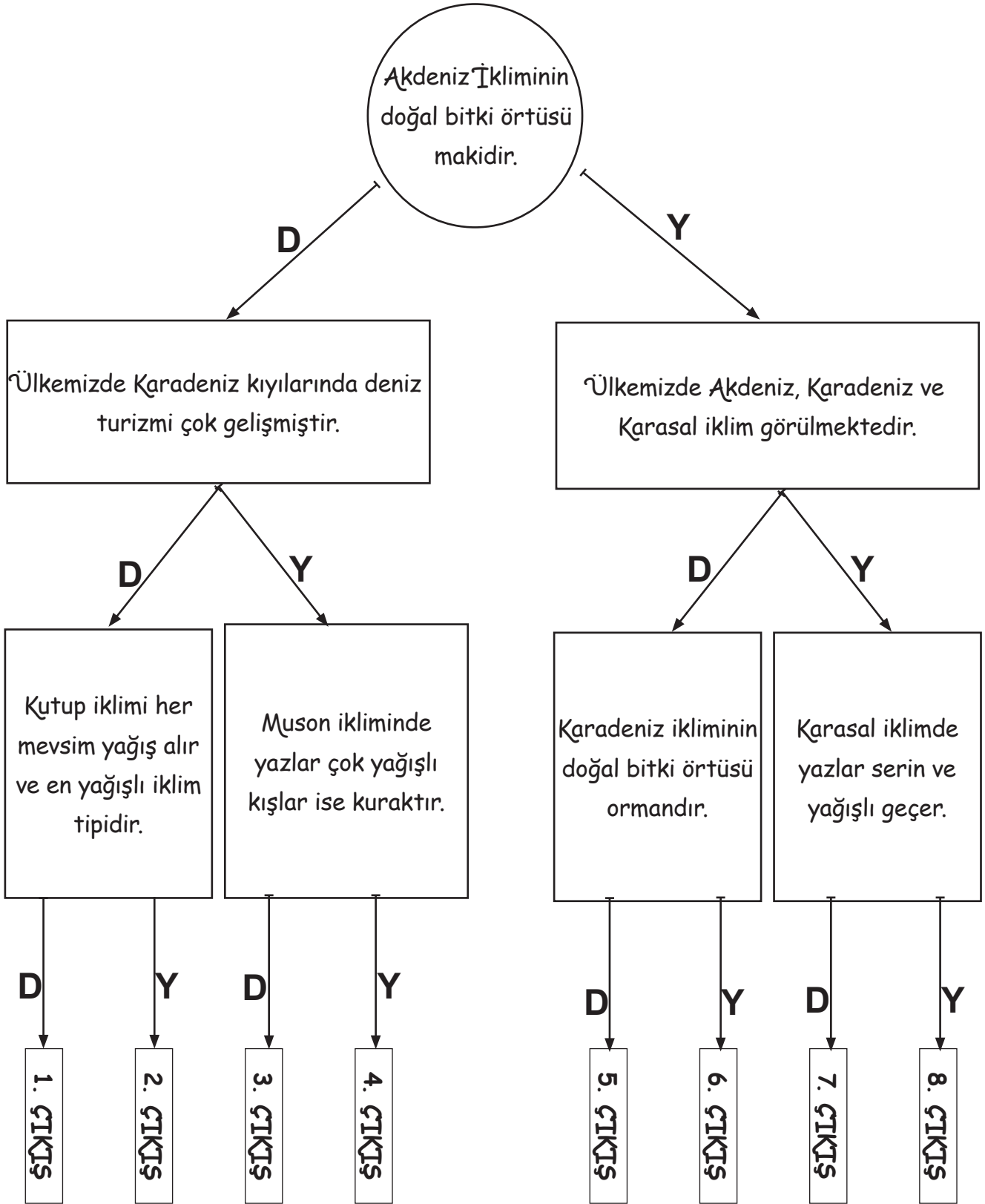
8.Dünyayı iki eşit parçaya böldüğü varsayılan hayali dairesel çizgi.

C) Aşağıda verilen kelimeleri uygun boşluklara doldurunuz?



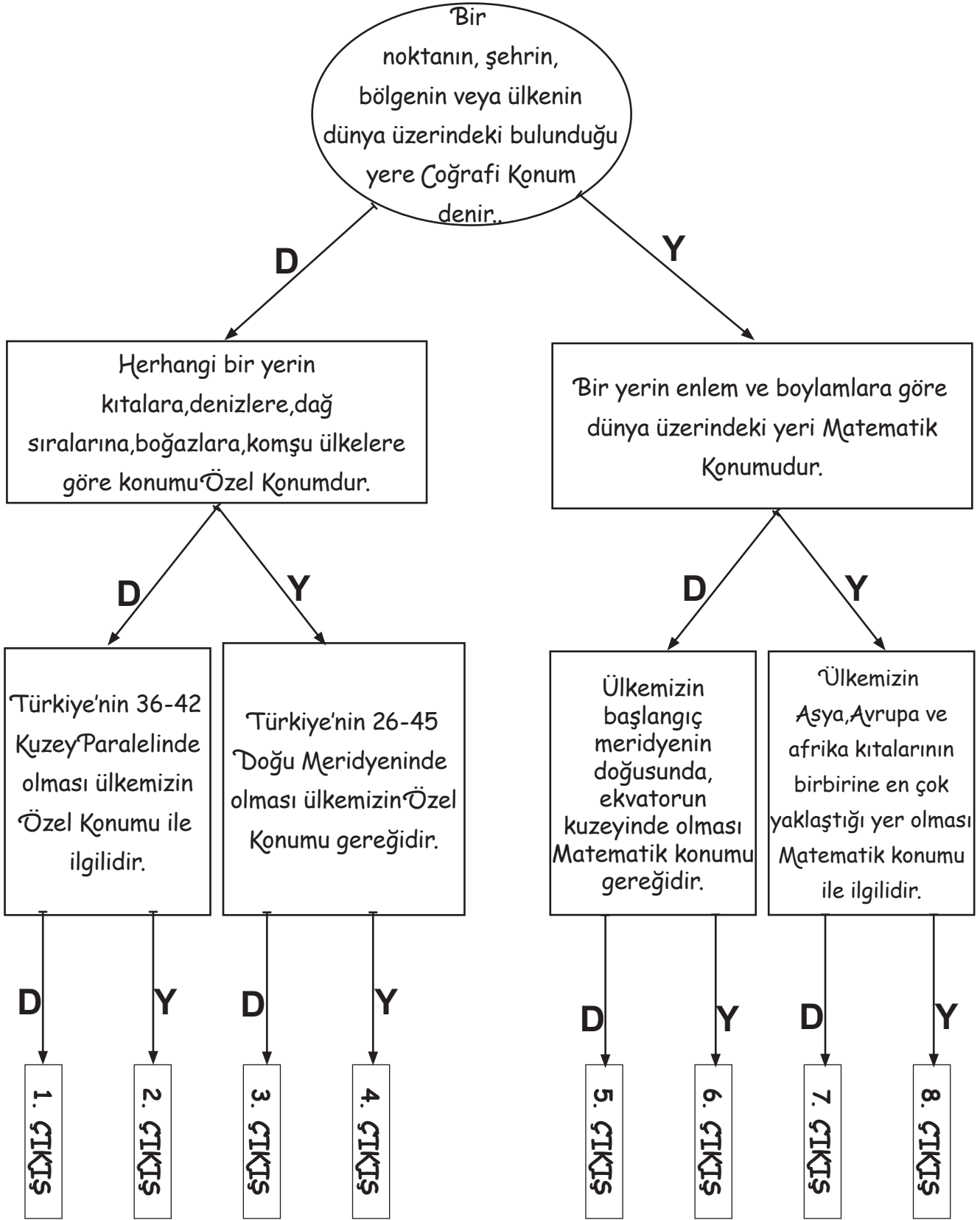
1. Bir kutup noktasından başlayarak Ekvator'u dik olarak kesip diğer kutup noktasına doğru uzandığı varsayılan hayali çizgilere..... denir.
2. Yazların sıcak ve kurak, kışların soğuk ve kar yağışlı geçtiği ülkemizin denize kıyısı olmayan iç kesimlerinde görülür.
3. Çevresinde Asya, Okyanusya, Kuzey Amerika ve Güney Amerika kıtaları bulunan su kütlesi.....dur.
4. Kuzey Kutbu'na yakın yerlerde İglo adı verilen yapılarda yaşayan insanlar olarak bilinir.
5. Yazların sıcak ve kurak, kışların ılık ve yağışlı geçtiği Ege, Akdeniz ve Marmara denizinin kıyı kesimlerinde görülür.
6. İki meridyen arasındaki zaman farkı.....dakikadır..
7. Karadeniz ve Akdeniz bölgesinde dağlar denizeEge bölgesinde iseuzanır.
8. Karasal iklimin bitki örtüsü ilkbahar yağışları ile yeşeren yaz kuraklığında ise kuruyandır.
9. Ülkemizde nüfus sayımıtarafından Adrese Dayalı Nüfus Kayıt Sistemi(ADNKS) ile bilgisayar üzerinden yapılmaktadır.
10. Ülkemizde nüfusun dağılışıvenedenlere bağlı olarak değişmektedir.
11. Kutuplardan eşit uzaklıktaki noktaları birleştiren ve dünyayı kuzey ve güney yarım küre olarak ikiye bölen hayali çizgiyedenir.
12. Dünya üzerindeki bir yerin kıtalara, boğazlara, komşu ülkelere, yeryüzü şekillerine, ekonomik faaliyet bölgelerine göre konumuna denir.

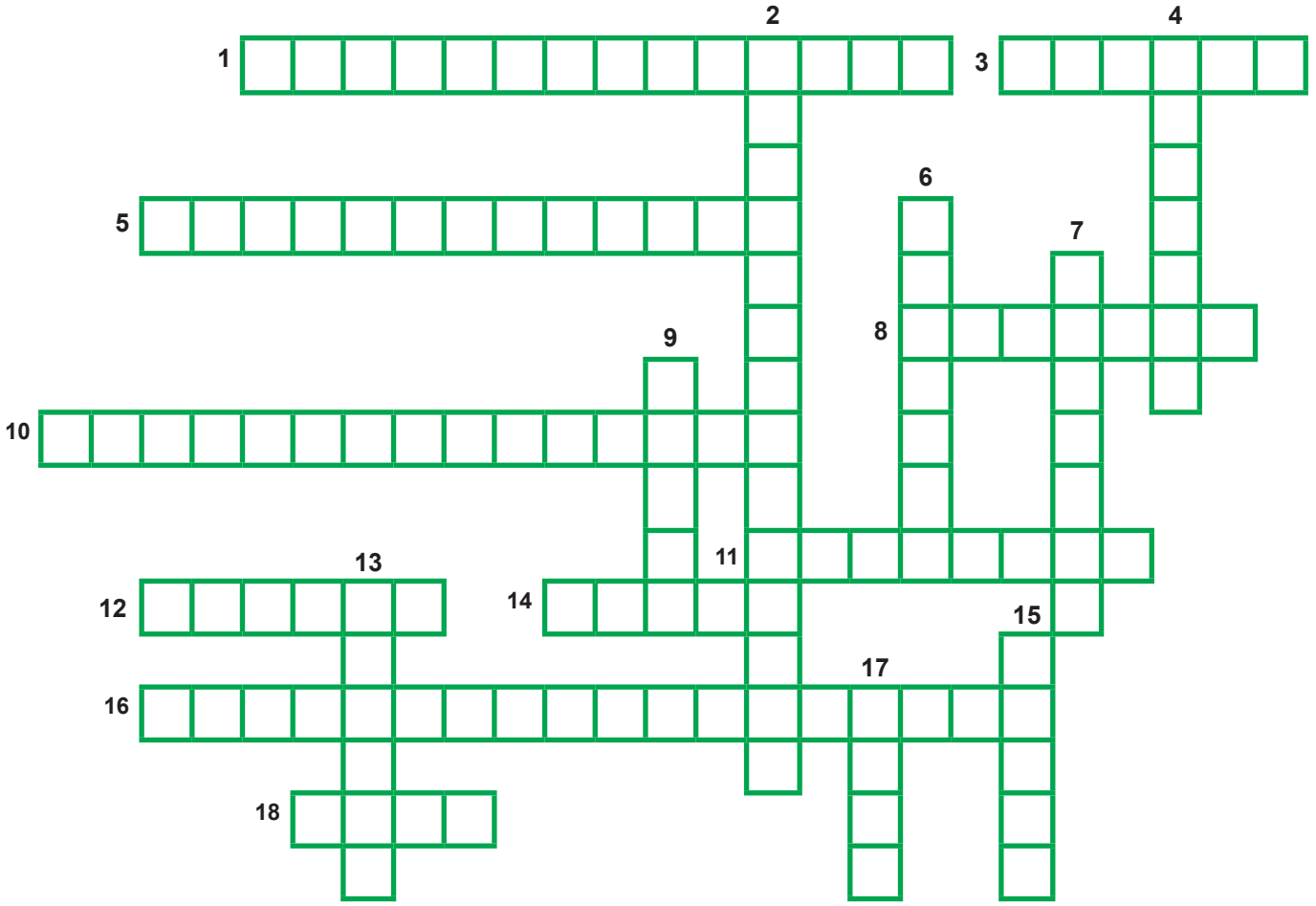
D) Aşağıda verilen şeklin ilk kutucuğundan başlayınız. İfadelerin doğru veya yanlış olduğuna karar vererek bulduğunuz çıkış numarasını şeklin altındaki boşluğa yazınız.



CEVAP:

E) Aşağıda verilen şeklin ilk kutucuğundan başlayınız. İfadelerin doğru veya yanlış olduğuna karar vererek bulduğunuz çıkış numarasını şeklin altındaki boşluğa yazınız.

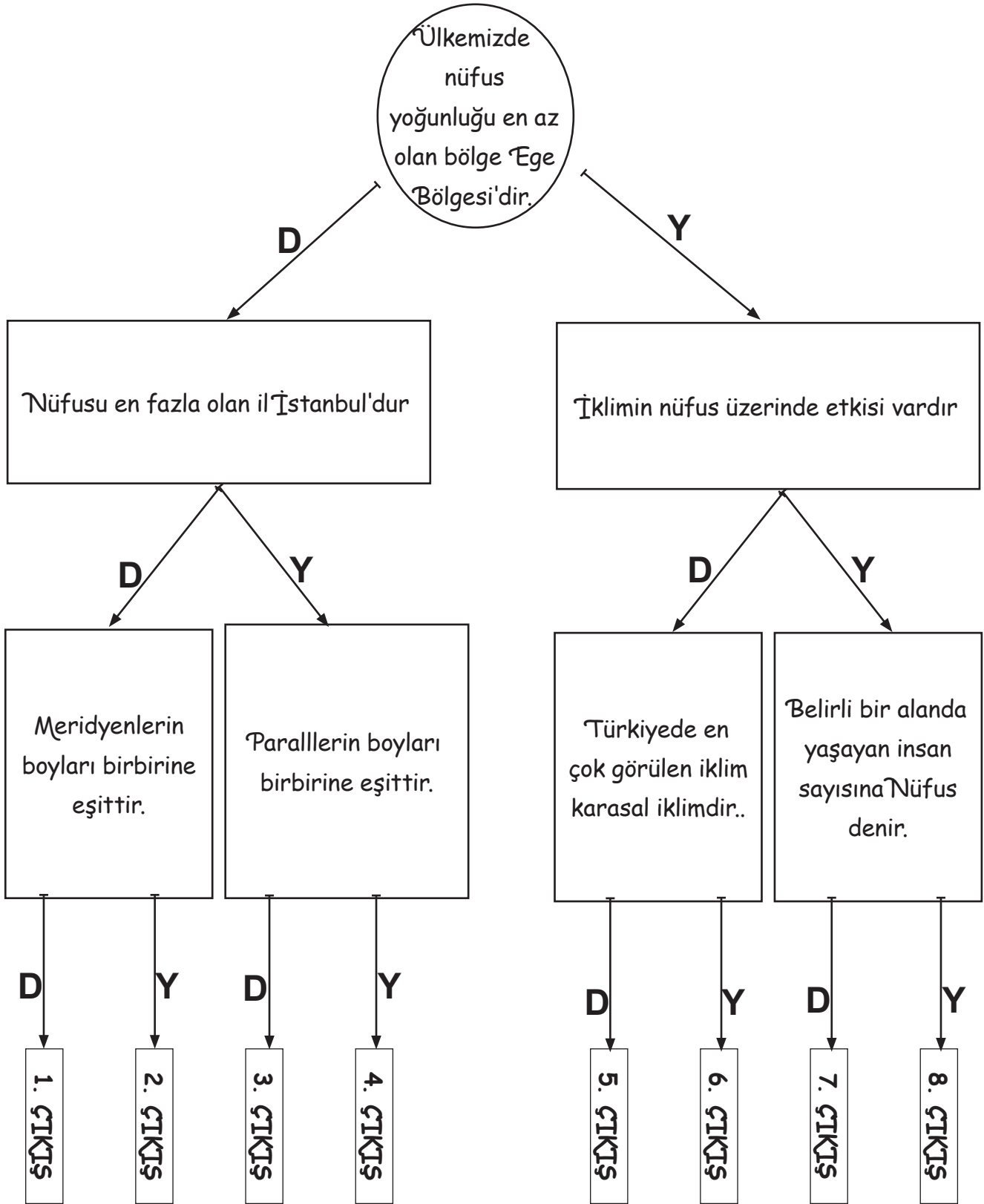




F) Aşağıdaki soruları cevaplayarak bulmacadaki uygun yerleri doldurunuz.

SOLDAN SAĞA	YUKARIDAN AŞAĞI
<p>1. Ekvatorun güneyine verilen ad?</p> <p>3. Yeryüzünün tamamını ya da bir bölümünü kağıt üzerine aktarabilmek için kullanılan küçültme oranına ne ad verilir?</p> <p>5. Başlangıç meridyeninin batısına verilen ad?</p> <p>8. En büyük paralel dairesine verilen ad?</p> <p>10. Başlangıç meridyenin doğusuna verilen ad?</p> <p>11. İki kutup noktasını birleştiren ve paralelleri dik olarak kesen yaylara ne ad verilir?</p> <p>12. Meridyenin diğer adı?</p> <p>14. Bir ölçek çeşidi?</p> <p>16. Sıfır(0) derece ile gösterilen meridyenin adı?</p> <p>18. 30 derece doğu meridyeni ile 40 derece doğu meridyeni arasında ne kadar zaman farkı vardır? (yazı ile)</p>	<p>2. Ekvatorun kuzeyine verilen ad?</p> <p>4. Sıfır(0) derece ile gösterilen ve dünyayı tam ortadan ikiye bölen en büyük paralel dairesi</p> <p>6. Doğuda yerel saat her zaman dahadir.</p> <p>7. Ekvatora birer derecelik açılarla çizilen, kutuplara doğru gidildikçe daralan çemberlere ne ad verilir?</p> <p>9. 42 derece doğu meridyeni üzerinde bulunan bir A kentinde yerel saat sekiz ise aynı meridyen üzerinde bulunan B kentinde yerel saat kaçtır?</p> <p>13. Küçük ölçekli haritalarda ayrıntı artar mı azalır mı?</p> <p>15. Paralel in diğer adı?</p> <p>17. İki meridyen arası kaç dakikadır? (yazı ile)</p>

Ğ) Aşağıda verilen şeklin ilk kutucuğundan başlayınız. İfadelerin doğru veya yanlış olduğuna karar vererek bulduğunuz çıkış numarasını şeklin altındaki boşluğa yazınız.



CEVAP:

1. Ekvatora yatay olarak birer derecelik açılarla çizilen doğudan batıya uzanan hayali çizgilere denir.

Yukarıdaki boşluğa aşağıdaki hangi kavram gelmelidir?

- A) Meridyen B) Kutup Noktaları
C) Paralel D) Dönence

2. Aşağıdakilerden hangisi bir yerin **Özel Konumu** ile ilgili değildir?

- A) Paralel ve meridyenlere göre konumu
B) Yer altı kaynaklarının çeşitli ve zengin olması
C) Kıtalarla göre konumu
D) Deniz ve okyanuslara göre konumu

3. Aşağıdakilerden hangisi **Türkiye'nin Matematik Konumu** ile ilgili değildir?

- A) Türkiye'nin ekvatorun kuzeyinde, başlangıç meridyenin doğusunda yer alması
B) Türkiye'de kuzeyden güneye gidildikçe sıcaklığın düşmesi
C) Türkiye'nin Asya, Avrupa ve Afrika kıtalarının birbirine en çok yaklaştığı yerde olması
D) Türkiye'nin doğusu ile batısı arasında 76 dakika zaman farkının olması

4. Bir bölgedeki yer şekillerini, akarsuları ve gölleri gösteren haritalara **Fiziki Harita** denir.

Buna göre Türkiye Fiziki Haritasına bakarak aşağıdakilerden hangisine ulaşamayız?

- A) Doğu Anadolu Bölgesi'ndeki dağlara
B) Ege Bölgesi'ndeki ovalara
C) Marmara Bölgesi'ndeki akarsulara
D) Akdeniz Bölgesi'ndeki nüfus yoğunluğuna

5. Sınırları belli bir alanda yaşayan toplam insan sayısına nüfus denir. Nüfus her yerde eşit dağılmamıştır. Nüfusun dağılışına etki eden doğal ve beşeri faktörler vardır.

Buna göre aşağıdakilerden hangisi nüfusun dağılışını etkileyen doğal etmenlerdendir?

- A) Su Kaynakları
B) Tarım
C) Sanayi
D) Turizm

6. Adıyaman'ın Çelikhan ilçesinde yaşayan Abuzer yaşadığı bölgenin iklim özelliği ile ilgili şu sonuçlara varmıştır.

1-Yazları Sıcak ve Kurak geçmektedir

2-Kışları soğuk ve çoğu zaman kar yağışlıdır.

3-Bitki Örtüsü ilkbahar yağışları ile yeşerip yazın kuruyan otlardan oluşmaktadır.

Yukarıdaki bilgilere göre Abuzer'in yaşadığı bölgede hangi iklim görülmektedir?

- A) Akdeniz İklimi B) Karadeniz İklimi
C) Geçiş İklimi D) Karasal İklim

7. İklim: Bir yerdeki hava olaylarının uzun yıllar boyunca kaydedilmesiyle elde edilen durumdur. İklim, o bölgede yaşayan insanların hayatını etkileyen unsurlar arasında yer almaktadır.

Buna göre yaşadığımız bölgenin iklimi;

- I. Kılık kıyafetimiz
- II. Yetiştirdiğimiz tarım ürünleri
- III. Ulaşım Faaliyetlerimiz
- IV. Karakterimiz

yukarıdakilerden hangileri üzerinde etkilidir?

- A) I ve II
- B) II ve III
- C) I, II ve III
- D) I, II, III ve IV

8. - Gündüz çok sıcak, gece çok soğuktur.
- Kum fırtınalarından korunmak için uzun elbise giyilir, çadırlarda ve göçebe yaşam vardır.
- Bitki örtüsü oldukça seyrekdir
- Vahalar dışında yerleşime uygun da değildir.

Yukarıdaki açıklamalar dünyada görülen aşağıdaki hangi iklime aittir?

- A) Çöl İklimi
- B) Kutup İklimi
- C) Muson İklimi
- D) Ekvatorial İklimi

9. Ülkemizde nüfusun dağılışı hakkında verilen bilgilerden hangisi yanlıştır?

- A) Batıdan doğuya doğru gidildikçe nüfus artmaktadır.
- B) İklimin elverişli ve ovalık alanlarda nüfus fazladır.
- C) İç kesimlere göre kıyı kesimlerinde nüfus daha fazladır.
- D) Ülkemizde nüfus her yere eşit bir şekilde dağılmamıştır.

10. Ülkemizde nüfus her yere dengeli bir şekilde dağılmamıştır.

Nüfus yoğunluğunun en fazla ve en az olduğu bölgelerimiz hangi seçenekte doğru olarak verilmiştir?

	Nüfus Yoğunluğu En Fazla	Nüfus Yoğunluğu En Az
A)	Ege Bölgesi	Güney Doğu Anadolu Bölgesi
B)	Marmara Bölgesi	Doğu Anadolu Bölgesi
C)	Akdeniz Bölgesi	Güneydoğu Anadolu Bölgesi
D)	Karadeniz Bölgesi	İç Anadolu Bölgesi

11. Kutup iklimi ile ilgili olarak verilen bilgilerden hangisi yanlıştır?

- A) Antarktika ve Grönland Adası çevresinde görülür.
- B) Yıl boyunca sıcaklık düşüktür.
- C) Bitki örtüsü yaz yağışları ile yeşeren bozkırdır.
- D) Ulaşım aracı olarak köpeklerin çektiği kızaklar yaygındır.

12. Kutup ikliminin görüldüğü yerlerde yerli halkın yaşadığı buzdan yapılmış evlere ne denir?

- A) Vaha
- B) İglo
- C) Eskimo
- D) Tundra

13. • Güney ve Güneydoğu ve Doğu Aşya'da görülür.

- Bu iklimde yaz ve kış olarak sadece iki mevsim görülür.
- Çeltik(Pirinç) tarımı yaygın olarak yapılır.

Yukarıda bazı özellikleri verilen iklim türü aşağıdakilerden hangisidir?

- A) Kutup İklimi
- B) Ekvatorial İklim
- C) Muson İklimi
- D) Çöl iklimi

14. Ülkemizdeki madenlerle ilgili olarak aşağıdakilerden hangisi yanlıştır?

- A) Ülkemiz maden bakımından zengin ve maden çeşitliliği fazladır.
- B) Ülkemizdeki madenleri araştırma kuruluşu TÜİK 'tir.
- C) Kimi madenlerimiz çıkarıldığı yerde kimileri ise başka şehirlere taşınıp orada işlenir.
- D) Ülkemizde en fazla bulunan bazı madenler Bor, Mermer, Linyit, Kaya Tuzu'dur.

15. Ülkemizdeki Ekonomik Faaliyetlerle ilgili olarak hangisine ulaşamaz?

- A) Bölgelerde yapılan ekonomik faaliyetler bölgenin coğrafi özelliği ile yakından ilgilidir.
- B) Marmara Bölgesinde ulamın gelişmiş olması ticaret ve sanayi tesislerini geliştirmiştir.
- C) Hayvancılığın geliştiği yerde et ve süt ürünleri tesisleri açılmıştır.
- D) Doğu Anadolu bölgesinde kışın ılık geçmesi seracılığı geliştirmiştir.

16. Aşağıdakilerden hangisi Meridyen'lerin özelliklerinden değildir?

- A) Ardışık iki Meridyen arası zaman farkı 4 dakikadır.
- B) Başlangıç meridyeni Londra'nın Greenwich kasabasından geçer.
- C) Meridyenler arası uzaklık her yerde 111 km'dir.
- D) Toplamda 360 tane Meridyen olduğu varsayılmaktadır.

17. Merhaba arkadaşlar benim adım Metin, benim bulunduğum ilde yazlar sıcak ve kurak kışlar ılık ve yağışlı geçer. Zeytin ve turunçgil ağaçları çok sayıda bulunmaktadır. Ayrıca güneşli gün sayısı fazla olduğundan deniz turizmi çok yaygındır.

Yukarıdaki paragrafta kendisinden bahseden Metin hangi ilde yaşadığı savunulabilir?

- A) Trabzon
- B) Antalya
- C) Ankara
- D) Samsun

18. Cumhuriyet döneminde ilk düzenli nüfus sayımı ne zaman yapılmıştır?

- A) 1927
- B) 1935
- C) 1938
- D) 1925

19. Aşağıdakilerden hangisi nüfusun dağılımını etkileyen Doğal (Fiziki) faktörlerden değildir?

- A) İklim B) Bitki Örtüsü
C) Yeryüzü Şekilleri D) Madencilik

20. Aşağıdakilerden hangisi ülkemizin göreceli konumu sonuçlarından değildir?

- A) Asya, Avrupa ve Afrika kıtalarının kesişme noktalarında bulunması
B) Zengin yer altı ve yer üstü kaynaklarına sahip olması
C) Ülkemizin doğusu ile batısı arasında 76 dakikalık zaman farkı olması
D) Çanakkale ve İstanbul boğazlarına sahip olması.

21. Aşağıdakilerden hangisi ülkemizde görülen iklim tiplerinden birisi değildir?

- A) Karasal İklim
B) Akdeniz İklimi
C) Muson İklimi
D) Karadeniz İklimi

22. I. Ülkemizin en kuzeyi ile en güneyi arasında 10 paralel farkı vardır

II. Ülkemizdeki dağların kuzey yamaçları güney yamaçlarından daha soğuktur

III. Ülkemiz Ekvator'un kuzeyinde başlangıç Meridyeninin batısında yer alır

Yukarıda ülkemiz ile ilgili verilen özelliklerden hangisi ya da hangileri yanlıştır?

- A) Yalnız I B) I ve II
C) I ve III D) I, II ve III

23. "Ülkemizde sanayinin geliştiği yerler nüfusun fazla olduğu yerlerdir."

Buna göre aşağıdakilerden hangisi bu şehirlerden birisi değildir?

- A) Bursa
B) Kocaeli
C) Kayseri
D) Tunceli

24. Aşağıdakilerden hangisi Parellelerin özelliklerinden birisi değildir?

- A) Paralel dairelerinin dereceleri Ekvatordan kuzeye ve güneye doğru gidildikçe küçülür.
B) Başlangıç paraleli ve en büyük paralel dairesi Ekvator'dur.
C) Toplamda 180 tane Paralel dairesi vardır.
D) Ardışık iki paralel arası her yerde 111 km'dir.

25. I.Ülkemizde etki alanı en fazla olan iklim tipidir.

II.Doğal bitki örtüsü Bozkır'dır.

III.yağışlar en fazla İlkbahar mevsiminde görülür.

Yukarıda özellikleri verilen iklim tipi hangisidir?

- A) Karadeniz İklimi
- B) Karasal iklim
- C) Ekvatorial İklim
- D) Akdeniz iklimi

26. I.Yaz mevsimi yağışlı, Kış mevsimi kuraktır
II.Çin,Hindistan,Pakistan,Japonya gibi ülkelerde görülür

III.Bu iklimin görüldüğü yerlerde yetişen tipik ağacı Teak(Tik) ağacıdır

Yukarıda özellikleri verilen iklim tipi hangisidir?

- A) Ekvatorial İklim
- B) Muson İklimi
- C) Kutup İklimi
- D) Savan İklimi

27. "Ülkemizde tarım, iklim ve yeryüzü şekillerinin uygun olduğu kıyı kesimlerinde daha yoğun yapılmaktadır."

Aşağıdakilerden hangisi bu ovalardan birisi değildir?

- A) Çukurova
- B) Çarşamba Ovası
- C) Bafra Ovası
- D) Yüksekova

28. Aşağıdakilerden hangisi nüfus sayımının amaçlarından birisi değildir?

- A) Ülke kaynaklarının kullanımını nüfusa göre kullanımını planlamak
- B) Ülkenin nüfus artış hızını tespit ederek nüfus planlaması yapmak
- C) İşsiz olan insan sayısını belirlemek ve yeni iş alanlarının oluşmasını sağlamak
- D) Ülkemizde nüfusu her yere eşit şekilde dağıtmak

29. I:Ekvator ve başlangıç meridyeni bu kıtanın üzerinde geçmektedir

II.Topraklarını büyük bir bölümü başlangıç meridyenini doğusunda yer almaktadır

III.Dünyanın en önemli akarsularından biri olan Nil nehri bu kıtada bulunmaktadır

Yukarıda özellikleri verilen kıta hangisidir?

- A) Afrika Kıtası
- B) Asya Kıtası
- C) Avrupa Kıtası
- D) Avrupa Kıtası

30. "Ülkemiz Ekvator'un kuzeyinde, Başlangıç meridyeninin doğusunda yer almaktadır."

Buna göre aşağıda ülkemiz ile ilgili verilenlerden hangisi yanlıştır?

- A) Dağların güney yamacı kuzey yamacından daha sıcaktır
- B) Yerel saat doğuda daha ilerdedir
- C) Ülkemizin kuzeyinde kalan şehirler daha sıcaktır
- D) Batıdan doğuya doğru gidildikçe meridyen dereceleri artar

31. Ülkemizde Akdeniz ikliminde kış sıcaklıklarının yüksek olması ve don olayına az rastlanması, yazların ise güneşlenme süresinin uzun olmasının,

1-Seracılık

2-Turizm

3-Yer altı Kaynakları

A) Yalnız II

B) I ve II

C) I ve III

D) II ve III

32. Renklendirme yöntemiyle hazırlanan fiziki haritalarda renkler yükselti basamağını gösterir.

Aşağıda verilen şehirlerden hangisi farklı renk ile ifade edilir?

A) Antalya

B) Erzurum

C) Tunceli

D) Sivas

33. Aşağıdakilerden hangisi paralellerin özellikleri arasında yer almaz?

A) Enine çizgilerdir

B) Başlangıç paraleli Greenwich'tir.

C) Ardışık iki paralel arası 111 km dir.

D) 90 güneyde 90 kuzeyde 180 tanedir.

34. Yarıyıl tatili için Muğla'dan Kars'a giden Emre hangi farklılıkları gözlemleyemez?

A) İklimi sert, bitki örtüsü bozkırdır.

B) Ulaşım imkanları sınırlıdır.

C) Sanayisi gelişmiştir.

D) Yıllık sıcaklık ortalaması düşüktür.

35. Etrafı deniz ve okyanuslarla çevrili büyük kara parçalarına kıta denir.

Yukarıdaki bilgiye göre dünyadaki yüzölçümüne göre en büyük ve en küçük kıta sırasıyla hangi seçenekte doğru verilmiştir?

A) Avustralya - Afrika

B) Asya - Avrupa

C) Avustralya-Afrika

D) Asya - Avustralya

36. Aşağıda verilenlerden hangisi ülkemizin mutlak(matematik) konumu ile ilgilidir?

A) Ortalama yükseltisi fazladır.

B) Doğusu ile batısı arasında 76 dakikalık zaman farkı vardır.

C) Üç tarafı denizlerle çevrilidir.

D) Zengin yeraltı kaynaklarına sahiptir.

37. Gelişen teknoloji sayesinde 2007 yılında ülkemizde Adrese Dayalı Nüfus Kayıt Sistemi'ne geçilmiştir. TÜİK (Türkiye İstatistik Kurumu) tarafından kontrol edilen bu sistemde kişilerin yerleşim yerlerine göre nüfus bilgileri güncel olarak tutulmakta ve nüfus hareketliliği izlenmektedir. Bu sistemde her an güncelleme yapılabilmektedir.

Buna göre aşağıdakilerden hangisi ülkemizde nüfus bilgilerinin güncel olarak tutulmasının nedenlerinden biri değildir?

- A) Ülkenin nüfus artış hızını tespit ederek nüfus planlaması yapmak
- B) Ülkemizde nüfusun her yere eşit şekilde dağılımını sağlamak
- C) Ülke kaynaklarının nüfusa göre kullanımını planlamak
- D) Okul çağındaki öğrenci sayısını belirleyerek ihtiyaç olan okul ve derslik sayısını tespit etmek

38. **Aşağıdakilerden hangisi nüfusun dağılımını etkileyen beşeri faktörlerden değildir?**

- A) Yeryüzü şekilleri
- B) Sanayi ve ticaret
- C) Madencilik
- D) Tarım

39. Yaşadığım yer ve çevresinde hava sıcaklığı yıl boyunca yüksek olduğundan ince kıyafetler tercih ederiz. Yaşadığım yere özellikle yaz aylarında fazla miktarda yağış düşer. Bu nedenle ülkemizde yaşanan sel haberleriyle televizyon veya Genel Ağ'a konu oluruz.

Yukarıda ki kişinin anlatımına göre burada görülen iklim tipi aşağıdakilerden hangisidir?

- A) Karadeniz iklimi
- B) Ekvator iklimi
- C) Muson iklimi
- D) Kutup iklimi

40. Geniş bir bölge içinde ve uzun yıllar boyunca değişmeyen ortalama hava koşullarına iklim denir. Ülkemizde Akdeniz iklimi, Karadeniz iklimi ve Karasal iklim olmak üzere üç farklı iklim tipi görülür.

Aşağıdakilerden hangisi, Türkiye'de farklı iklim özelliklerinin görüldüğüne bir kanıt olamaz?

- A) Çeşitli tarım ürünlerinin yetiştirilebilmesi.
- B) Doğal bitki örtüsünün farklılıklar göstermesi.
- C) Turizm mevsiminin güneyde daha erken başlaması.
- D) Dağınık ve toplu yerleşmelerin görülmesi.

41. Bakı, bir yerin güneşe dönük olma durumudur. Güneşe dönük yamaçlar, gölgede kalan yamaçlara göre güneş ışınlarını daha büyük açılarla alır ve daha fazla ısınır.

Buna göre ülkemizde dağların hangi yamaçları daha çok ısınır

- A) Kuzey yamaçları
- B) Doğu yamaçları
- C) Batı yamaçları
- D) Güney yamaçları

42. Bitki örtüsü "Yağmur Ormanları" olan iklim türü aşağıdakilerden hangisidir?

- A) Ekvatorial iklim
- B) Muson İklimi
- C) Tundra İklimi
- D) Akdeniz İklimi

43. Ülkemizde ortalama yükselti fazla ve engebeli bir yapı vardır. Ülkemizde batıdan doğuya doğru gidildikçe yükselti genel olarak artar. Ülkemizde yeryüzü şekilleri çeşitliliği fazladır.

Bu durum ülkemizde aşağıdakilerden hangisini etkilemez?

- A) Nüfusun dağılışı ve ekonomik faaliyetleri
- B) Yer altı kaynağı çeşitliliğini
- C) Bitki örtüsü çeşitliliğini
- D) Tarım ürünü çeşitliliğini

44. İklimin insan yaşantısı üzerinde çok büyük etkisi vardır.

Buna göre; aşağıdakilerden hangisinde iklimin herhangi bir rolü yoktur?

- A) Ulaşım
- B) Yönetim Şekli
- C) Giyim
- D) Konut Tipleri

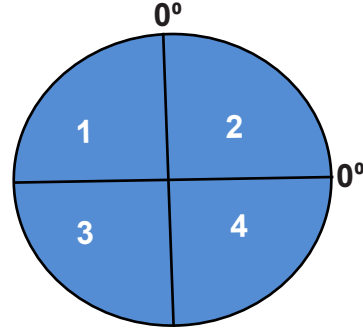
45. Türkiye fiziki haritasını incelediğimizde Büyük Menderes Ovası ile Konya Ovasının aynı renkte olmadığını görürüz.

Bu durumun nedeni aşağıdakilerden hangisidir?

- A) Toprak tiplerinin farklı olması.
- B) Bitki örtüsünün farklı olması.
- C) Enlem derecelerinin farklı olması
- D) Deniz seviyesinden yüksekliklerinin farklı olması.

46. Ülkemiz dünya üzerinde 36° - 42° kuzey paralelleri 26° - 45° doğu meridyenleri arasında yer almaktadır.

Buna göre ülkemiz hangi numaralı yerde yer almaktadır?



- A) 1
- B) 3
- C) 4
- D) 2

47. Herhangi bir yerde görülen hava olaylarının uzun yıllar boyunca alınan ortalamalarınadenir.

Yukarıda verilen cümlenin doğru bir şekilde tamamlanması için boş bırakılan yere hangisi yazılmalıdır?

- A) Meteoroloji
- B) Hava Durumu
- C) Klimatoloji
- D) İklim

48. Bir bölgenin veya ülkenin coğrafi konumu, büyüklüğü, iklimi, yer altı ve yer üstü kaynakları gibi özelliklerinin ülkeler arası politikada oynadığı rollerden kaynaklanan konumuna jeopolitik konum adı verilir.

Yukarıdaki açıklamaya göre aşağıdakilerden hangisi ülkemizin jeopolitik konuma ile ilgili değildir?

- A) Asya ve Avrupa kıtalarının kesiştiği yerde olması
- B) Orta Doğu petrol kaynaklarına yakın olması
- C) Ekvatorun kuzeyinde olması
- D) İstanbul ve Çanakkale boğazlarına sahip olması

50. Akdeniz ikliminde yazlar sıcak ve kurak, kışlar ise ılık ve yağışlı geçmektedir. Akdeniz kıyılarında kar yağışı ve don olayları ender olarak görülmektedir. Buna bağlı olarak da yetiştirilen ürünlerde çeşitlilikte artmaktadır.

Buna göre, aşağıdaki tarım ürünlerinden hangisi Akdeniz iklimine uygun bir tarım ürünü çeşidi değildir?

- A) Zeytin
- B) Fındık
- C) Turunçgiller
- D) Pamuk

49. Türkiye'nin aşağıdaki özel (göreceli) konum özelliklerinden hangisi iklimi olumsuz etkiler?

- A) Avrupa ile Asya'yı birbirine bağlayan boğazlara sahip olması
- B) Üç tarafının denizlerle çevrili olması
- C) Zengin yer altı ve yer üstü kaynaklara sahip olması
- D) Ortalama yükseltisinin fazla olması

SOSYAL BİLGİLER 6.SINIF 2. ÜNİTE CEVAP ANAHTARI

- A) 1. ÇIKIŞ
B) 4. ÇIKIŞ
C) 1-D 2-Y 3-D 4-D 5-Y 6-Y 7-Y
8-Y 9-D 10-Y 11-Y
D)
1-ASYA HUN
2- UYGURLAR - MANİHEİZM
3- GÖK TANRI
4- UÇMAĞ
5- METE
6-KUT
7-HAN,HAKAN,KAĞAN
8-SAMARA
9-YUĞ
10-TALAS
11-EMEVİLER
12-MALAZGİRT
F)
1-ORTA ASYA
2-ORHUN
3-HİCRET
4-GÖKTÜRLER
5-KAŞGARLI MAHMUT
6-KARAHANLILAR
7-MALAZGİRT
8-HAÇLI
9-İPEK YOLU
10- BALBAL
11-MEDERESE

- 12- HUN
13- UYGURLAR
14- OSMAN
G) 2. ÇIKIŞ
ÇOKTAN SEÇMELİ SORULARIN CEVAPLARI
1-B

2- (Düzelme)

- Avrupa uzun süre karışıklık içinde kaldı.
-Avrupalı kavimlerin kaynaşması sonucunda yeni milletler (Fransızlar, İngilizler, Almanlar ve İspanyollar...vb.) ortaya çıkmıştır.
-Günümüz Avrupa ülkelerinin temel yapısı oluşmuştur.
-İlk çağ kapanıp Orta Çağ başlamıştır.
-Roma İmparatorluğu, Doğu Roma ve Batı Roma yıkılıp ikiye bölünmüştür

Yukarıda verilenler hangi olayın sonucudur.

- A) İslamiyet'in yayılması
B) Kavimler Göçü
C) Köktürk Devleti'nin yıkılması
D) Asya Hun Devleti'nin kurulması

Cevap : B Olacak

3-B	12-B	22-C
4-A	13-C	23-B
5-C	14-C	24-B
6-C	15-A	25-A
7-C	16-B	26-C
7- C	17-C	27-C
8-C	18-D	28-B
9-D	19-A	
10-C	20-C	
11-D	21-D	