



# ADİYAMAN İL MİLLÎ EĞİTİM MÜDÜRLÜĞÜ

## KAZANIM PEKİŞTİRME ÇALIŞMASI

LIFE FITS INTO HOME

HAYAT EVE SIĞAR



3. SINIF  
8-12 HAZİRAN

8.  
SAYI

## **BU KİTAPÇIKTA**

TÜRKÇE	15 SORU
MATEMATİK	15 SORU
FEN BİLİMLERİ	15 SORU
HAYAT BİLGİSİ	15 SORU
İNGİLİZCE	10 SORU

Yer almaktadır.

Bu çalışmada yer alan Borsa İstanbul ilkokulu, Cumhuriyet ilkokulu, Mehmetçik ilkokulu, Menderes ilkokulu idareci ve öğretmenlerine teşekkürler...

ADİYAMAN MEM

2020

### 3. SINIF KAZANIM PEKİŞTİRME TESTİ

#### TÜRKÇE

1. Tilki, karnı açlıktan zil çalarken avlanmaya çıkmıştı. Yolda bir asmaya rastladı ve asmanın tepesinden sarkan üzümlere bakakaldı. Üzümlere pençeleriyle ulaşamıyordu. Sıçradı, sıçradı. Başaramadı. Bir süre sonra pes etti ve “Zaten daha olmamışlar.” dedi.  
**Tilkinin üzümleri yemekten vazgeçmesinin nedeni nedir?**

- A) Üzümlerin olgunlaşmaması  
B) Üzümlere ulaşamaması  
C) Avlanmaya çıkmış olması

2. Işığın pırıl pırıl,  
Dünyayı aydınlatır.  
Pencereden girince,  
Odamızı ısıtır.  
Sabahları doğarsın,  
Öğleleri yakarsın,  
Akşamları kaçarsın,  
Yaşam kaynağımızsın.

“Cazibe Irmak”

**Yukarıdaki şiirde bahsedilen gök cismi aşağıdakilerden hangisidir?**

- A) Gezegen B) Ay C) Güneş

3. **Aşağıdaki çocuklardan hangisi duygularını abartarak ifade ediyor?**

- A) Ben öğretmenimi çok seviyorum.  
B) Ben öğretmenimi dünyalar kadar seviyorum.  
C) Öğretmenim ve ailem benim için değerli varlıklardır.

4.



**Aşağıdakilerden hangisi yukarıdaki görsele göre yanlıştır?**

- A) Masanın üzerinde kitap ve saat var; fakat başka hiçbir şey yok.  
B) Masanın üzerinde kitap ve saat, altında terlik vardır.  
C) Masanın üzerinde kitap, saat ve terlik var.

5. “Spor ayakkabıya ihtiyacım vardı ..... hafta sonu yeni bir ayakkabı aldık.”

**Cümlesinde noktalı yere aşağıdakilerden hangisinin getirilmesi uygun olmaz?**

- A) bu yüzden B) çünkü C) dolayısıyla

6. “büyük - Umut’tan - daha - boyu - Sevda’nın - uzundur”

**Yukarıdaki sözcüklerden anlamlı bir cümle oluşturulursa hangi sözcük dışarıda kalır?**

- A) büyük B) daha C) boyu

7.



(1) Mevsimlere uygun giyinmeye özen göstermeliyiz. (2) Özellikle kış aylarında kalın giyinerek soğuktan korunmalıyız. (3) Böylece hastalıklardan korunmalıyız.

**Yukarıdaki paragrafın hangi cümlesinde önem belirten ifade kullanılmıştır?**

- A) 1 B) 2 C) 3

8. Her insan ağızıyla konuşur ama konuşabilmeyi sağlayan asıl organ beyindir. Beyinde oluşan düşünceler dilimize ve dudaklarımıza aktarılır. Hayvanlar bu nedenle konuşamaz. Papağan ve benzeri kuşların yaptıkları konuşma değildir. Onlar sesleri ezberler ve taklit ederler.

**Hangi öğrencinin söylediği, yukarıda verilen paragraftan çıkarılacak bir sonuç değildir?**

- A) İnsanlar beyinleri sayesinde konuşurlar.  
B) Bazı kuşlar sesleri taklit ederek ses çıkarırlar.  
C) Pek çok canlı da insan gibi konuşabilir.

9. "Uzun yol hepimizi yordu." Cümlesinde hangi sözcük varlığın özelliğini bildirmektedir?

- A) uzun B) yol C) yordu

10. "Oteldeki odanızın 3( ) katta olup olmadığını "Mür( )" yazan yerden sorarak öğrenebilirsiniz( )" Cümlesinde ( ) içlerine sırasıyla hangi noktalama işaretleri gelmelidir?

- A) ( . )-( . )-( . )  
B) ( , )-( , )-( . )  
C) ( . )-( : )-( ? )

11. İnsanlar gazete okur. Çünkü dünyada neler olup bittiğiyle ilgilenirler. Güncel haberler neler? Ekonomi, bilim, tarih, kültür, spor dünyasında ne gibi gelişmeler oluyor? Yarın hava nasıl olacak? Akşama televizyonda güzel bir belgesel var mı? Tüm bunlardan ve daha fazlasından haberdar olurlar. Belki de bu yüzden kimilerine göre, gazeteler dünyayı taşır.

**Bu paragrafın ana düşüncesi aşağıdakilerden hangisidir?**

- A) Gazeteler dünyayı evimize getiren iletişim aracıdır.  
B) İnsanların gazete okumalarının çeşitli nedenleri vardır.  
C) Gazetelerde daha çok güncel haber vardır.

12. I. Ateş olmayan yerden duman çıkmaz.  
II. Bakarsan bağ, bakmazsan dağ olur.  
III. Az ateş çok odunu yakar.  
**Numaralanmış atasözlerinden hangisinde karşıt anlamlı sözcükler bir arada kullanılmıştır?**

- A) I B) II C) III

13.

Zengin		?	
Yoksul	Fakir	Uzak	Irak
I		II	

I. şekilde sözcükler kutulara belirli bir anlam ilişkisine göre yerleştirilmiştir.

**Buna göre II. şekilde (?) olan yere gelebilecek uygun sözcük aşağıdakilerden hangisidir?**

- A) Varlıklı B) Yakın C) Yan

14. Çoğu icat hayatımızı kolaylaştırmak ..... tasarlanmıştır ..... bazı icatlar bunun tam tersi etki de yapıyor. Arabanın çok pratik bir taşıma aracı olduğunu biliyoruz ..... araba bazen ölümle sonuçlanan kazalara neden olabiliyor. Hava kirliliğini artırabiliyor ..... bir icadın sonuçlarının ne olacağını önceden kestirmek her zaman kolay olmayabiliyor.

**Bu parçada boş bırakılan yerlere sırasıyla aşağıdakilerden hangisi getirilmelidir?**

- A) için – bu nedenle – ama - fakat  
B) bu nedenle – ama – fakat - için  
C) için – ama – fakat – bu nedenle

15. (1) Ders programına göre defter ve kitaplarımı hazırladım.  
(2) Çantama defter ve kitapları yerleştirdim.  
(3) Ders programımı çıkarıp yarın hangi derslerin olduğuna baktım.

**Yukarıdaki olayda doğru sıralama nasıl olmalıdır?**

- A) (3) (1) (2) B) (1) (3) (2) C) (3) (2) (1)

### 3. SINIF KAZANIM PEKİŞTİRME TESTİ

#### MATEMATİK DERSİ

1. Aşağıda verilenlerden hangisinin miktarı diğerlerinden farklı bir birimle ölçülür?

A) Meyve suyu B)



Muz C)



Süt



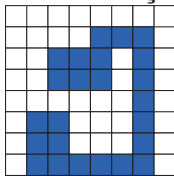
2. Oğuz, kitabının boyunu standart olmayan uzunluk ölçme birimlerinden biriyle ölçmek istiyor. Buna göre Oğuz aşağıdaki ölçme birimlerinden hangisini kullanmış olabilir?

A) Santimetre B) Adım C) Karış

3. Ezgi, bir dikdörtgenin çevresini ölçmek istiyor. Ezgi'nin bunu yapabilmesi için aşağıda verilen bilgilerden hangisine sahip olması yeterlidir?

- A) Dikdörtgenin iki kısa kenar uzunluğunun ölçüsü  
B) Dikdörtgenin iki uzun kenar uzunluğunun ölçüsü  
C) Dikdörtgenin bir kısa ve bir uzun kenar uzunluğunun ölçüsü

4. Aşağıdaki verilen tabloda mavi renkle boyanmış bölgenin alanı kaç birim kareden oluşmuştur?



A) 24 B) 25 C) 26

5. Bir sürahi 8 bardak meyve suyu ile bir kova da 5 sürahi meyve suyu ile doluyor. Buna göre bir kova kaç bardak meyve suyu ile dolar?

A) 40 B) 25 C) 13

6. Aşağıdaki varlıklar, boylarını ölçmek için uygun olan ölçme birimleriyle eşleştirirse seçeneklerdeki hangi şekil ortaya çıkar?

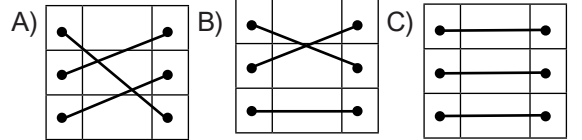
- Karış



- Parmak



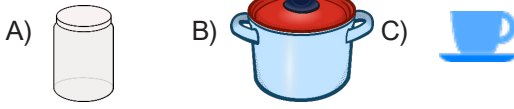
- Metre



7. Boyu 14 metre, eni 9 metre olan arsamıza ev yapmak istiyoruz. Arsamızın tamamını kullanarak yapacağımız evin kaplayacağı alan kaç metre kare olur?

A) 23 m<sup>2</sup> B) 46 m<sup>2</sup> C) 126 m<sup>2</sup>

8. Aşağıda verilen kapların hepsine su bardağı kullanılarak süt dolduruluyor. **Hangi kaba yapılan doldurma işlemi daha uzun sürer?**



9. Orhan, masasının üzerini şekildeki gibi kâğıtlarla kaplıyor. 1 A3 kâğıt 2 adet A4 kâğıt kadar, 1 A4 kâğıtta ise 2 adet A5 kâğıt kadar yer kapladığına göre masanın yüzeyi kaç A4 kâğıt kadar alan kaplar?

A3 Kâğıt	A4 Kâğıt	A4 Kâğıt	A5 Kâğıt	A5 Kâğıt
			A5 Kâğıt	A5 Kâğıt
A3 Kâğıt	A4 Kâğıt	A4 Kâğıt	A5 Kâğıt	A5 Kâğıt
			A5 Kâğıt	A5 Kâğıt

- A) 12 B) 10 C) 8

10. Amcam çiftliğinin bulunduğu tarlasının çevresine çit yaptırdı. Çiftliğin bulunduğu tarlanın boyu 45 m, eni ise 18 m olduğuna göre yapılan çitin uzunluğu kaç metredir?

- A) 63 B) 126 C) 810

11. Furkan sınıflarının boyunu adımla ölçünce 25 adım geldiği gördü. Furkan'ın her bir adımı 20 cm uzunluğunda olduğuna göre sınıflarının boyu kaç metredir?

- A) 5 B) 45 C) 500

12. Uzun kenarı 12 cm, kısa kenarı 8 cm olan dikdörtgeni 4 eş parçaya ayırırsak oluşan bir parçanın alanı kaç cm kare olur?

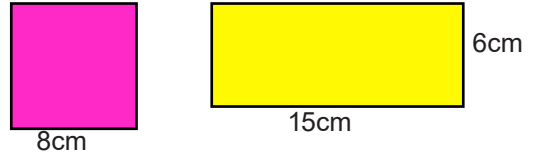


- A) 20 B) 21 C) 24

13. Aşağıda verilen bilgilerden hangisi doğrudur?


- A) Karenin çevresini hesaplamak için bir kenar ölçüsünü bilmek yeterlidir.  
B) Dikdörtgenin alanını hesaplamak için uzun kenar ölçüsünü bilmek yeterlidir.  
C) Bir şeklin alanı ile çevresi birbirine her zaman eşittir.

14. Aşağıda verilen dikdörtgenin çevresi, karenin çevresinden kaç cm daha fazladır?



- A) 14 B) 12 C) 10

15. Aşağıda verilen çocukların boy uzunluklarının kısıdan uzuna doğru sıralanışı hangi seçenekte doğru olarak verilmiştir?



- A) Emre, Esra, Fatih  
B) Fatih, Esra, Emre  
C) Emre, Fatih, Esra

### 3. SINIF KAZANIM PEKİŞTİRME TESTİ

#### FEN BİLİMLERİ

1. \*Elektrik çarpan birine yardım ederken ..... yapılmış araçlar kullanmalıyız.

\*Cep telefonu ..... ile çalışır.

\*Prizlere ..... yapılmış cisimler sokmamalıyız.

**Yukarıdaki cümlelerdeki noktalı yerlere yazılacak kelimeler sırasıyla hangi seçenekte doğru olarak verilmiştir?**

- A) metalden, batarya, tahtadan
- B) sudan, tahtadan, metalden
- C) tahtadan, batarya, metalden

2. **Aşağıda verilenlerin hangileri elektriğin güvenli kullanımı için doğru değildir?**

- A) Elektrik kabloları halıların altından taşınmalıdır.
- B) Fiş ve prizler sağlam olmalıdır.
- C) Uzatma kabloları ve prizlere çok fazla fiş takılmamalıdır.

3. **Aşağıdakilerden hangisi yanlış bir davranıştır?**

- A) Prizlere bir cisim sokmamak.
- B) Elektrik kesildiğinde fişleri çekmek.
- C) Çalışan elektrikli araçlara ıslak elle dokunmak.

4. **Aşağıda verilenlerden hangisi elektrikli araçların kullanımı ile ilgili yanlış bir davranıştır?**

- A) Kullanım talimatlarına uymak.
- B) Fişi prizden çekerek kapatmak.
- C) Kapatma düğmesini kullanarak kapatıp açmak.

5. **Elektrik enerjisinin dikkatsiz kullanımı sonucu aşağıdaki kazalardan hangisi oluşur?**

- A) İş kazası.
- B) Elektrik çarpması
- C) Trafik kazası.

6. **Aşağıdakilerden hangisi elektriğin sebep olabileceği kazalardan birisi değildir?**

- A) Elektrik çarpması.
- B) Yıldırım düşmesi.
- C) Evde yangın çıkması.

7. **Aşağıdakilerden hangisi elektriğin güvenli kullanımı ile ilgili yanlış bir davranıştır?**

- A) Elektrikli araçların bakım ve onarımını işin uzmanına yaptırmak.
- B) İşimiz bittiğinde elektrikli araç gereçlerimizin fişlerini mutlaka prizden çıkarmak.
- C) Elektrik prizlerine tornavida sokmak.

8. **Aşağıdaki davranışlardan hangisi yanlıştır?**

- A) Boşta gördüğümüz ve yere düşmüş elektrik tellerine dokunmak.
- B) Patlak ampulleri değiştirmek.
- C) Çalışan elektrikli aletlerin fişini elimiz ıslakken prizden çekmemek.

9. **Aşağıdakilerden hangisi elektrik çarpmasından korunmak için yapılması gerekenlerden birisi değildir?**

- A) Yıpranmış elektrik kablolarını kullanmamalıyız, yenileriyle değiştirmeliyiz.
- B) Bir prize birden fazla fiş sokmamalıyız.
- C) Bozulan elektrikli araçların fişini prizden çekmemeliyiz.

10. **Aşağıdaki ifadelerden hangisi yanlıştır?**

- A) Elektrik kaçağı olduğunda şalterlere dokunulmamalıdır.
- B) Elektrikli araçların tamiri uzman kişilere yaptırılmalıdır.
- C) İşimiz bittiğinde elektrikli araç ve gereçlerin fişleri prizden çıkartmalıyız.

11. Aşağıdakilerden hangisi elektrik çarpmasına neden olur?

- A) Çalışır durumdaki elektrikli araçların içini açmak.
- B) Arızalı elektrikli aletleri kullanmamak.
- C) İyi yalıtım edilmiş kablolar kullanmak.

12. I. Fişi kablosundan tutarak prizden çekmek.

II. Islak zeminde elektrikli alet çalıştırmamak.

III. Prizlere fiş dışında bir şey sokmamak.

Yukarıdakilerden hangileri güvenli bir elektrik kullanımı için alınan önlemlerdendir?

- A) I, II ve III
- B) I ve II
- C) II ve III

13. Aşağıdaki elektrikli aletlerden hangisini kullanmak bir çocuk için tehlikelidir?

- A) 
- B) 
- C) 

14. Aşağıdakilerden hangisi elektriğin kullanımı ile ilgili doğru bir açıklamadır?

- A) Prizlere ıslak elle dokunmak.
- B) Kablosu zedelenmiş elektrik aletlerini kullanmamak.
- C) Bozulan elektrikli araçları kendimiz tamir etmeye çalışmak.

15. Aşağıdaki cümlelerden doğru olanların başına “D”, yanlış olanların başına “Y” yazınız.

- ( ) Tellerde elektrik olup olmadığını gözümüzle göremeyiz.
- ( ) Kablosu soyulmuş veya kesilmiş elektrikli aletleri kullanabiliriz.
- ( ) Piller çevreye zarar vermez.
- ( ) Elektrik, sınırlı bir enerjidir.




### 3. SINIF KAZANIM PEKİŞTİRME TESTİ

#### HAYAT BİLGİSİ DERSİ

1. Aşağıdakilerden hangisi geri dönüştürülebilecek bir madde değildir?

- A) Pet şişe B) Kâğıt C) Elma




2. Elif çevresini koruyan ve aynı zamanda korumayan kişileri de uyarıcı bir kızdır. Buna göre Elif'in aşağıdaki davranışlardan hangisini yapması beklenmez?

- A) Yere çöp atan arkadaşını uyarması.  
B) Tükenmiş pilleri bahçeye atması.  
C) Kullanmadığı kitapları geri dönüşüm kutusuna atması.

3. Aşağıdaki yiyeceklerden hangisi hayvanlardan elde edilmez?

- A) Yumurta B) Çilek reçeli C) Bal



4. Aşağıdaki verilen tabloda hangi iki unsurun yeri değişirse tablo doğru olur?

Doğal Unsurlar	Yapay Unsurlar
Dağ	Köprü
Baraj	Yol
Göl	Nehir
Güneş	Akvaryum

- A) Nehir - baraj  
B) Dağ - köprü  
C) Güneş - yol

5. Aşağıdakilerden hangisi nesli tükenme tehlikesi altında olmayan bir hayvandır?

- A) Akdeniz Foku B) Kızıl Akbaba C) Güvercin

6. Sol kolumuzu güneşin doğduğu yöne doğru uzatırsak yüzümüz hangi yönü gösterir?

- A) Kuzey B) Güney C) Batı

7. Aşağıdaki tabloda verilen bilgilerden doğru olanların bulunduğu kutu yeşile, yanlış olanların bulunduğu kutu ise kırmızıya boyanırsa seçeneklerden hangisindeki şekil ortaya çıkar?

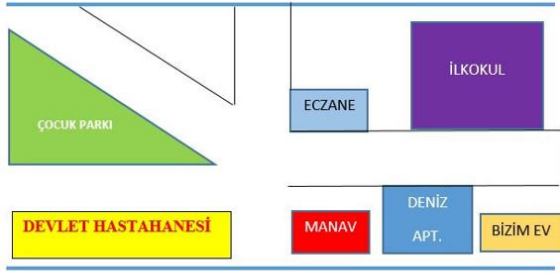
Plastik şişeler geri dönüştürülebilir maddelerdir.
Pusulanın renkli ucu her zaman güneyi gösterir.
Hava durumunu önceden bilmek bize hiçbir fayda sağlamaz.
Karıncaların yuvalarına bakarak yönümüzü bulabiliriz.



8. Ahmet Bey, her sabah işine giderken hava kirliliğine sebep olmayan bir taşıt kullanmaktadır. Ayrıca bu taşıt onun sağlıklı olmasına da katkı sağlamaktadır. Çevre kirliliğine sebep olmadığı için kendisini aynı zamanda çok mutlu hisseden Ahmet Bey'in kullandığı taşıt hangi seçenekte verilen taşıt olabilir?

- A) Kamyon B) Otomobil C) Bisiklet

9. Aşağıdaki krokiye göre seçeneklerde verilen bilgilerden hangisi doğrudur?



- A) Devlet hastanesinin güneyinde çocuk parkı vardır.  
 B) Eczane manavın kuzeyindedir.  
 C) Bizim ev Deniz Apartmanı'nın batısındadır.

10. Akşam haberlerinde ertesi günün yağmurlu olacağını öğrenen Ayşe'nin sabah okula giderken hangi eşyayı yanına alması beklenmez?

- A) Güneş gözlüğü B) Yağmurluk C) Şemsiye

11. Bitkilerin insanlara ve doğaya faydaları saymakla bitmez. Oksijen üretmeleri mi? Çevremizi güzelleştirmeleri mi? Okuduğumuz kitapların ağaçlardan yapılması mı? Meyveler, sebzeler, güzel kokulu çiçekler... Size şimdi hangisini anlatsam ki?

**Yukarıdaki metnin konusu nedir?**


- A) Bitkilerin faydaları  
 B) Çevre temizliği  
 C) Baharın gelişi

12. Aşağıdaki seçeneklerden hangisi verilen görseldekilerden birini ifade etmez?










- A) Yağmurlu B) Parçalı Bulutlu C) Karlı

13. Aşağıdaki görsellerden hangisinin konusu farklıdır?



14. Aşağıda verilenlerden hangisi veya hangileri bitkilerin büyümesi için gereklidir?



- A)  ,   
 B)  ,   
 C)  ,  , 

15. Ezgi, insanların çevreye verdikleri zararlar konulu bir araştırma yapmıştır. Ezgi'nin ulaştığı hangi bilgi yanlıştır?

- A) Fabrikalardan çıkan dumanlar hava kirliliğine sebep olmaktadır.  
 B) Pillerin çevreye atılması toprağa çok az zarar vermektedir.  
 C) Sulara dökülen zehirli atıklar hayvanlara da olumsuz etki etmektedir.

### 3. SINIF KAZANIM PEKİŞTİRME TESTİ

#### İNGİLİZCE

1.




-What is this?

- A) It is a bear.
- B) It is a frog.
- C) It is a pigeon.


2. This is a frog.  
It 's small.  
It 's green.

**Yukarıda özellikleri verilen hayvan aşağıdakilerden hangisidir?**



3. That is a shark.  
It is big.  
It is blue.

**Yukarıda özellikleri verilen hayvan aşağıdakilerden hangisidir?**



4.



-Muhammed: Is the fish blue?  
-Berat: .....

- C) Yes, it is. B) .No, it isn't. C) Yes, I am

5.



**-How many bees are there?**

- A) There are twelve bees
- B) There is a bee.
- C) There are five bees.

6.



**-Umut: Are there eleven lions in the forest?**

**-Ece: .....**

- A) Yes, there are.
- B) Yes, there is.
- C) No, there aren't.

7. Do you like ladybirds?

- A) No, he doesn't.
- B) No, I don't.
- C) Yes, I do.



8.



I ..... bears.

- A) like B) don't like C) likes

9. I ..... dolphins, but I don't like sharks.

**Yukarıdaki cümledeki boşluğa aşağıdakilerden hangisi getirilmelidir?**

- A) like B) don't like C) am

10.



**Yukarıdaki resimlere göre doğru sıralama nasıl olmalıdır?**

- A) duck / snake / horse
- B) snake / cow / duck
- C) horse / snake / duck



**3.SINIF 8.HAFTA KPT CEVAP ANAHTARI**

<b>Türkçe</b>	<b>Matematik</b>	<b>Fen Bilimleri</b>	<b>Hayat Bilgisi</b>	<b>İngilizce</b>
<b>1-B</b>	<b>1. B</b>	<b>1-C</b>	<b>1) C</b>	<b>1 – C</b>
<b>2-C</b>	<b>2. C</b>	<b>2-A</b>	<b>2) B</b>	<b>2 – A</b>
<b>3-B</b>	<b>3. C</b>	<b>3-C</b>	<b>3) B</b>	<b>3 – B</b>
<b>4-C</b>	<b>4. A</b>	<b>4-B</b>	<b>4) A</b>	<b>4 – B</b>
<b>5-B</b>	<b>5. A</b>	<b>5-B</b>	<b>5) C</b>	<b>5 – A</b>
<b>6-A</b>	<b>6. B</b>	<b>6-B</b>	<b>6) B</b>	<b>6 – C</b>
<b>7-B</b>	<b>7. C</b>	<b>7-C</b>	<b>7) A</b>	<b>7 – C</b>
<b>8-C</b>	<b>8. B</b>	<b>8-A</b>	<b>8) C</b>	<b>8 – B</b>
<b>9-A</b>	<b>9. A</b>	<b>9-C</b>	<b>9) B</b>	<b>9 – A</b>
<b>10-A</b>	<b>10. B</b>	<b>10-A</b>	<b>10) A</b>	<b>10 – C</b>
<b>11-A</b>	<b>11. A</b>	<b>11-A</b>	<b>11) A</b>	
<b>12-C</b>	<b>12. C</b>	<b>12-C</b>	<b>12) C</b>	
<b>13-B</b>	<b>13. A</b>	<b>13-A</b>	<b>13) A</b>	
<b>14-C</b>	<b>14. C</b>	<b>14-B</b>	<b>14) C</b>	
<b>15-A</b>	<b>15. A</b>	<b>15- D,Y,Y,D</b>	<b>15) B</b>	





## ÇEVRE TEMİZLİĞİ

*Çevre temizliğini sağlamak insanlık haklarından biridir. Temiz çevrede ve sağlıklı bir şekilde yaşama hakkı doğuştan kazanılan haklardır. Çevre temizliği çevrenin temiz tutulması her insanın en önemli vazifesidir, mutlaka yapması gerektir.*

### YAŞADIĞIMIZ ÇEVREYİ TEMİZ TUTMAK İÇİN NELER YAPMAMIZ GEREKİR

- 1-Dışarda tüketilen yiyecek ve içecek ambalajları çöp kutusuna atılmalıdır.
- 2-Sokakta iken yüksek sesle konuşulmamalıdır.
- 3-Evlerde biriken çöpleri sokak başlarına değil çöp tenekelerine atmalıdır.
- 4-Deniz, ırmak gibi doğal su kaynaklarına atık atılmamalıdır.
- 5-Fabrika bacalarına filtre takılmalıdır.
- 6-Fabrika atıkları denize veya çevreye atılmamalıdır.
- 7-Isınmak için kullanılan yakıtlar mümkün olduğu kadar, çevreye en az zarar veren yakıtlardan seçilmelidir.
- 8-Çevredeki ağaç ve bitkilere; park, bahçe gibi ortak kullanım alanlarına zarar verilmemelidir.
- 9-Evcil hayvanların dışkıları uygun bir şekilde çöplere atılmalı, sokak ve parklarda bırakılmamalıdır.
- 10-Elektrik ve su tüketimine dikkat edilmelidir ki bu dolaylı yoldan çevre kirliliğine sebep olmaktadır.
- 11-Kimyasal malzeme atıkları, tükenen piller çöplere atılmalıdır.
- 12-Sınıflarda açılan kalem atıkları çöplere atılmalıdır.
- 13-Tuvaletlerde temizliğe ayrıca önem verilmeli, kirli peçeteler çöplere atılmalı ve tuvalet su ile yeterince temizlenmelidir.
- 14-Doğaya karışmayacak hiçbir madde; cam, plastik, metal gibi, doğaya atılmamalıdır.
- 15-Piknik bölgelerinde, piknik yapıldıktan sonra çıkan atıklar toplanmalı, yakılan ateşin söndüğünden emin olunmalıdır.

