

ADİYAMAN İL MİLLÎ EĞİTİM MÜDÜRLÜĞÜ KAZANIM PEKİŞTİRME ÇALIŞMASI

LIFE FITS INTO HOME

HAYAT EVE SIĞAR

19 MAYIS

ATATÜRK'Ü ANMA,
GENÇLİK VE SPOR BAYRAMI

Kutlu Olsun

1. SINIF
18-22 MAYIS

5.
SAYI

BU KİTAPÇIKTA

| | |
|---------------|---------|
| TÜRKÇE | 10 SORU |
| MATEMATİK | 10 SORU |
| HAYAT BİLGİSİ | 10 SORU |

Yer almaktadır.

Not: Cevap anahtarı soruların yayımlandığı günden sonraki Salı günü <http://adiyaman.meb.gov.tr/> duyurular sekmesinde açıklanacaktır.

Bu çalışmada yer alan Borsa İstanbul ilkokulu, Cumhuriyet ilkokulu, Mehmetçik ilkokulu, Menderes ilkokulu idareci ve öğretmenlerine teşekkürler...

ADİYAMAN MEM

2020

1. SINIF KAZANIM PEKİŞTİRME TESTİ

TÜRKÇE DERSİ



19 MAYIS

Şanlı Atam Samsun'a
İşte bugün çıkmıştı.
Kurtuluşa ilk adım
Samsun'dan atılmıştı.

Erzurum'da, Sivas'ta
Yapıldı toplantılar.
Yurdu kurtarmak için
Alındı çok kararlar.

Yurda saldıranlarla
Kahramanca savaştık.
Düşmanları yenerek
Zaferlere ulaştık.

Mehmet Sırrı DUMLU

1.2.3.ve 4. Soruları yukarıdaki şiire göre cevaplayınız.

1. Atatürk Samsun'a ne zaman çıkmıştır?

A) 23 Nisan

B) 29 Ekim

C) 19 Mayıs

2. Kurtuluşa ilk adım nereden atılmıştır?

A) Samsun'dan

B) İstanbul'dan

C) Ankara'dan

3. Aşağıdaki illerden hangisinde Atatürk toplantı yapmamıştır?

A) Erzurum

B) Sivas

C) Adıyaman

4. Bu savaşın sonucunda ne olmuştur?

A) Düşmanlara yenilerek esir olduk.

B) Düşmanlara yenilerek ülkeden kaçtık.

C) Düşmanları yenerek zaferlere ulaştık.

5. Gözde parka geldi mi()

Yukarıdaki cümlelerin sonuna hangi noktalama işareti konmalıdır?

- A) (.)nokta B) (?)soru işareti C) (!)ünlem işareti

6. Aşağıdaki noktalama işaretlerinden hangisi cümle sonlarında **kullanılmaz**?

- A)  B)  C) 

7. Kırtasiyeden kalem() defter() silgi aldım()

Yukarıdaki cümlede yay ayraç () ile gösterilen yerlere sırasıyla hangi noktalama işaretleri gelmelidir?

- A) ? , , , . B) , , , , . C) ! , , , .

8. İstanbulda teyzemin yanında kaldım.

1 2 3 4

Yukarıdaki cümlede kaç numaralı kelimedede kesme işareti (') kullanılmalıdır?

- A) 1 B) 2 C) 3

9. Aşağıdaki cümlelerin hangisinde özel ad **yanlış** yazılmıştır?

- A) Babamla Ankara'ya gittik.
B) Esra bizde kaldı.
C) Ömer ile ecrin sınava hazırlandı.

10. Hangi seçenekteki kelimeler zıt anlamlı **değildir**?

- A) mutlu - neşeli
B) fakir - zengin
C) iyi - kötü

1. SINIF KAZANIM PEKİŞTİRME TESTİ

MATEMATİK

1. Büyük uzunlukları aşağıdakilerden hangisi ile ölçeriz?

A)



B)




C)



2. Hangi cetvel daha uzundur?

A)



B)



C)



3. Aşağıdakilerden hangisi kamyondan daha kısadır?

A)




B)



C)



4.



Yandaki kalemlerin kısa olandan uzun olana doğru sıralanışı hangi seçenektir?

A) 1-2-3

B) 2-1-3

C) 1-3-2

5. Aşağıdaki uzunluk ölçme birimlerinden hangisi daha kısadır?

A) Kulaç

B) Parmak

C) Karış

6. Aşağıdakilerden hangisi kulaçla ölçülmez?

A)



B)



C)



7. Hangisini parmakla ölçebiliriz?

A) Çanta


B) Karpuz

C) Silgi

8.



Aşağıdaki mumlar uzunluklarına göre sıralanmıştır. Yandaki Kutunun içindeki mum hangi mumların arasına gelmelidir?




A) 1-2

B) 2-3

C) 3-4

9.



Yandaki boy sırasına göre hangi bilgi doğrudur ?

- A) 4 - 1' den kısadır.
- B) 5 - 6' dan uzundur.
- C) 4 - 3' den uzundur.

10. Aşağıdaki hayvanları uzundan kısaya doğru sıraladığımızda sondan ikinci olan kaç numaralı hayvandır?



- A) 2
- B) 4
- C) 5

1. SINIF KAZANIM PEKİŞTİRME TESTİ

HAYAT BİLGİSİ

1. Aşağıdakilerden hangisi insanlar tarafından yetiştirilir ve genellikle besin kaynağı olarak tüketilir?

- A) Bahçe bitkileri B) Orman bitkileri C) Yabani bitkiler

2. Ahmet Adıyaman'da yaşamaktadır. Buna göre, Ahmet çevresine baktığında aşağıdaki bitkilerden hangisini göremez?

- A) Kaktüs B) Tütün C) Nar

3. Aşağıdakilerden hangisi ağaçların faydalarından birisi değildir?

- A) Soluduğumuz havayı temizler.
B) Besin kaynağıdır.
C) Bizi soğuktan korur.

4. Aşağıdakilerden hangisi ağaçtan elde ettiğimiz bir besindir?

- A) Domates B) İncir C) Karpuz

5. Aşağıdaki hayvanlardan hangisi evcil hayvan değildir?



6. Aşağıdaki hayvanlardan hangisi kış uykusuna yatmaktadır?

A)



B)



C)



7. Hayvanlardan elde ettiğimiz besinler hangi seçenekte yanlış eşleştirilmiştir?

A)

Arı



Bal

B)

Tavuk



Yumurta

C)

Tavşan



Süt

8. Aşağıdaki cümlelerden doğru olanlara "D", yanlış olanlara "Y" yazalım ve doğru şıkkı işaretleyelim.

| | |
|-------|--|
| | Sıcak havalarda hayvanlar için kapının önüne bir kap su bırakırım. |
| | Ağaç dallarını kırıp, etrafa atarım. |
| | Bitkilere ve hayvanlara zarar verenleri uyarırım. |

A) YDY

B) DYD

C) DDY

9. Erdem aşağıdaki davranışlardan hangisini yaparsa doğayı korumuş olur?

A) Ailesiyle birlikte fidan dikme etkinliğine katılması

B) Ağacın gövdesini bıçakla kazınması

C) Piknik alanına çöplerini atması

10. Kedisini çok seven Elif, aşağıdaki davranışlardan hangisini yapmaz?

A) Kedisini besler.

B) Kedisini aç bırakır.

C) Kedisini bahçede oyun oynar.

1. SINIF 5. HAFTA KPT CEVAP ANAHTARI

| TÜRKÇE | | MATEMATİK | | HAYAT BİLGİSİ | |
|--------|---|-----------|---|---------------|---|
| 1 | C | 1 | A | 1 | A |
| 2 | A | 2 | B | 2 | A |
| 3 | C | 3 | C | 3 | C |
| 4 | C | 4 | A | 4 | B |
| 5 | B | 5 | B | 5 | C |
| 6 | A | 6 | A | 6 | A |
| 7 | B | 7 | C | 7 | C |
| 8 | A | 8 | B | 8 | B |
| 9 | C | 9 | C | 9 | A |
| 10 | A | 10 | A | 10 | B |