

# ADİYAMAN İL MİLLÎ EĞİTİM MÜDÜRLÜĞÜ KAZANIM PEKİŞTİRME ÇALIŞMASI

LIFE FITS INTO HOME

HAYAT EVE SIĞAR

19 MAYIS

ATATÜRK'Ü ANMA,  
GENÇLİK VE SPOR BAYRAMI

*Kutlu Olsun*

4. SINIF  
18-22 MAYIS

5.  
SAYI

## BU KİTAPÇIKTA

TÜRKÇE	15 SORU
MATEMATİK	15 SORU
FEN BİLİMLERİ	15 SORU
SOSYAL BİLGİSİ	15 SORU
İNGİLİZCE	10 SORU
DİN KÜLTÜRÜ	10 SORU

Yer almaktadır.

Not: Cevap anahtarı soruların yayımlandığı günden sonraki Salı günü <http://adiyaman.meb.gov.tr/> duyurular sekmesinde açıklanacaktır.

Bu çalışmada yer alan Borsa İstanbul ilkokulu, Cumhuriyet ilkokulu, Mehmetçik ilkokulu, Menderes ilkokulu idareci ve öğretmenlerine teşekkürler...

ADİYAMAN MEM

2020

## 4. SINIF KAZANIM PEKİŞTİRME TESTİ

### TÜRKÇE DERSİ

1. Aşağıdaki cümlelerin hangisinde karşılaştırma yapılmamıştır?

- A) Sınıfımızın en çalışkanı oydu.
- B) Yolculuk bu sefer daha kısa sürdü.
- C) Eskisinden daha genç gösteriyor.
- D) Yarın dayımlar gelecek.

2. Aşağıdakilerden hangisinde neden-sonuç ilişkisi vardır?

- A) En güzel keki ablam yapar.
- B) Akşam gelersen derse çalışırız.
- C) Araba bozulduğu için geç kalmış.
- D) Bahçe kapısı yeni boyandı.

3. Büyük harflerle yapılan kısaltmalarda ekler harflerin okunuşuna uygun olarak yazılır. Buna göre hangi öğrencinin ifadesi yanlıştır?

- A) Erhan: TÜİK'e göre en mutlu il, Sinop'tur.
- B) Ayhan: TBMM'ni sınıf olarak ziyarete gideceğiz.
- C) Gökhan: TRT'den ayrılan babam başka bir yerde işe girdi.
- D) Ceyhan: BM'nin genel sekreteri ülkemizi ziyaret edecek.

4. Aşağıdaki cümlelerin hangisinde kısaltmaya gelen ekin yazımında hata yapılmıştır?

- A) PTT'den gelen kargosunu aldı.
- B) Ülkemiz yıllardır AB'ye girmek için çalışıyor.
- C) Eskişehir-İstanbul arası 300 km'dir.
- D) TTK'nun kuruluşunu bizzat Atatürk yapmıştır.

5. Aşağıdaki cümlelerin hangisinde "de" nin yazımı yanlıştır?

- A) Soruyu bir de öğretmene soralım.
- B) Dışarıya ben de geleceğim.
- C) Program tam saat sekiz de başlayacak.
- D) Sana ayrıca kitap da getirdim.

6. Aşağıdaki cümlelerin hangisinde "ki" nin yazımı yanlıştır?

- A) Yoldaki yaşlı amcaya yardım etti.
- B) Evdeki kitaplarını okula bağışladı.
- C) Senki her zaman sabırlı olmuştundur.
- D) Gazetede ki haberi okuyunca şaşırırdık.

7. Aşağıdaki verilen bilgilerden hangileri bilgilendirici metin yazılırken dikkat edilmesi gereken kurallardandır?

- 1. Okuyucunun bilgi edinmesi amaçlanmalıdır.
- 2. Konu hakkında belli araştırma yapılmalıdır.
- 3. Belli bir olay örgüsü tasarlanmalıdır.
- 4. Yer ve zaman gibi unsurlara yer verilmelidir.

- A) 1 ve 3
- B) 2 ve 4
- C) 1 ve 2
- D) 3 ve 4

8. Aşağıda verilen seçeneklerden hangisi hikâye edici metinlerde yer almaz?

- A) Kahramanlara yer verilir.
- B) Belli bir olay vardır.
- C) Olaylar gerçek ya da hayali olabilir.
- D) Asıl amaç okuyucunun bilgilenmesidir.

9. Bir şiirde dizelerin ilk harfleri yukarıdan aşağıya doğru okunduğunda anlamlı bir kelimenin ortaya çıktığı çalışmalara ne denir?

- A) Hikâye                      B) Akrostiş  
C) Masal                        D) Mısra

10. Form doldurma ile ilgili aşağıda verilen bilgilerden doğru olanlara "D", yanlış olanlara "Y" yazılırsa nasıl bir sonuç ortaya çıkar?

- ( ) Formda istenen bilgilerin tamamı yazılmalıdır.  
( ) Formlar küçük harflerle doldurulmalıdır.  
( ) Yazdığımız bilgiler doğru olmalıdır.

- A) D-D-D                      B) D-D-Y  
C) D-Y-D                      D) Y-D-Y

11. Aşağıdaki atasözlerinden hangisi çalışmakla ilgili değildir?

- A) İşleyen demir pas tutmaz.  
B) Yazın başı pişenin, kışın aşı pişer.  
C) Güneş girmeyen eve doktor girer.  
D) Emek olmadan yemek olmaz.

12. Aşağıdaki şiirin ana duygusu nedir?

Ninniyle salladın beni,  
Sevginle bağladın beni,  
Şefkatle kolladın beni,  
Güzel yurdum, güzel yurdum.

- A) Vatan Sevgisi            B) Aile Özlemi  
C) Anne Özlemi            D) Bayrak Sevgisi

13. Öğretmeni Ayşe'den anlatım bozukluğu olan dört cümle yazmasını ister. Ayşe, bu şekilde yazılan her cümle için 10 puan alacaktır.

**Buna göre Ayşe kaç puan almıştır?**

- Doğadan, tabiattan eser kalmamış burada.
- Bu işin sonucunu ve neticesini çok merak ediyorum
- İki günde evimiz tertemiz olmuştü.
- Suyun şırıltısından kimse uyuyamamıştı.

- A) 10                              B) 20  
C) 30                              D) 40

14. I. Arabasının anahtarını masasında unutmuştu.

II. İşten çıkmış ve arabasının yanına gelmişti.

III. Arabasının kapısını açmak için anahtarı aramaya başladı.

IV. Hemen geriye dönerek masanın üzerindeki anahtarı aldı.

**Yukarıda belirtilen olaylar, oluş sırasına göre sıralandığında doğru sıralama nasıl olur?**

- A) IV-I-II-III                      B) III-II-I-IV  
C) I-III-IV-II                      D) II-III-I-IV

15. I. Kartopu oynamak için dışarıya çıktılar.

II. Burnunda havuç olan güzel bir kardan adam yaptılar.

III. Çok eğlendiler.

IV. Birden akıllarına kardan adam yapmak geldi.

**Yukarıda belirtilen olaylar, oluş sırasına göre sıralandığında başlangıç cümlesi aşağıdakilerden hangisi olur?**

- A) I                                  B) II  
C) III                                D) IV

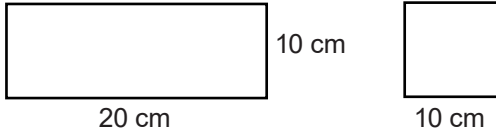
## 4. SINIF KONU KAZANIM TESTİ

### MATEMATİK DERSİ

1. Ali, bir kenarının uzunluğu 22 m olan kare şeklindeki bahçesinin etrafına 6 sıra tel çekmek istiyor. **Kaç m tel gereklidir?**

- A) 500                      B) 528  
C) 529                      D) 628

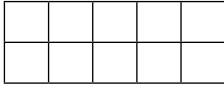
2.



**Yukarıdaki dikdörtgen ve karenin çevre uzunlukları arasındaki fark kaç cm'dir?**

- A) 10                      B) 20  
C) 30                      D) 40

3.

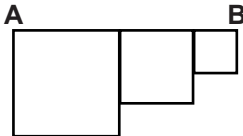


Yandaki şekil eş karelerden oluşmaktadır.

**Bir karenin çevresi 24 cm olduğuna göre şeklin çevresi kaç mm'dir?**

- A) 240                      B) 720  
C) 840                      D) 910

4.



Büyük karenin çevresi 64 cm, ortanca karenin çevresi büyük karenin çevresinin yarısı ve küçük karenin çevresi ortanca karenin çevresinin  $\frac{1}{4}$ 'i olduğuna göre **[AB] uzunluğu kaç cm'dir?**

- A) 16 cm                      B) 26 cm  
C) 32 cm                      D) 104 cm

5. Bir kare ile eşkenar üçgenin çevre uzunluğu birbirine eşittir. Karenin çevresi 60 cm olduğuna göre, **üçgenin bir kenar uzunluğu ne kadardır?**

- A) 10                      B) 12  
C) 18                      D) 20

6. Çevresinin uzunluğu 256 metre olan kare şeklindeki bir arsanın **bir kenar uzunluğu kaç cm'dir?**

- A) 64 cm                      B) 640 cm  
C) 6400 cm                      D) 64000 cm

7. Bir dikdörtgenin eni 24 cm, boyu ise eninin 2 katından 7 cm daha kısadır.

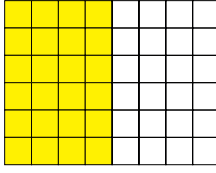
**Bu dikdörtgenin çevresi kaç cm'dir?**

- A) 120 cm                      B) 130 cm  
C) 140 cm                      D) 150 cm

8. Bir kenarı 45 cm olan bir karenin çevresiyle bir dikdörtgenin çevresi birbirine eşittir. **Dikdörtgenin kısa kenarı 32 cm olduğuna göre uzun kenarı kaç cm'dir?**

- A) 38 cm                      B) 48 cm  
C) 58 cm                      D) 90 cm

9. Aşağıdaki şekilde boyalı bölgenin alanını bulmaya yönelik yapılması gereken işlem hangisidir?



- A)  $(4 + 4) \times 6$       B)  $(8 - 4) \times 6$   
C)  $(4 \times 5) \times 6$       D)  $(4 : 4) \times 6$

10. Çevresi 244 birim olan bir karenin alanı kaç birim karedir?

- A) 3521      B) 3621  
C) 3721      D) 3921

11. Bir dikdörtgenin uzun kenarının uzunluğu kısa kenarının uzunluğunun 3 katına eşittir. Bu dikdörtgenin çevresi 80 cm olduğuna göre, alanı kaç santimetre karedir?

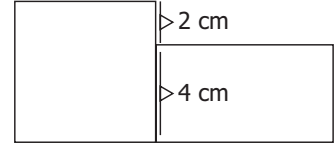
- A) 300      B) 360  
C) 420      D) 500

12. Bir tanesinin çevre uzunluğu 16 cm olan karesel bölgelerden, üç tanesi kullanılarak aşağıdaki dikdörtgenel bölge oluşturuluyor. Bu bölgenin alanı kaç santimetre kare'dir?



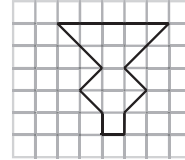
- A) 45      B) 46  
C) 47      D) 48

13. Şekildeki kare ve dikdörtgenin alanları birbirine eşittir. Verilenlere göre şeklin tüm çevresi kaç cm'dir?



- A) 44      B) 42  
C) 40      D) 38

- 14.



- Yukarıdaki koyu renkle çizilmiş şeklin alanı kaç birim karedir?

- A) 11      B) 12  
C) 13      D) 14

15. Bir dikdörtgenin uzun kenarı 12 cm, kısa kenarı 4 cm'dir. Bir kenarı 7 cm olan karenin alanı ile bu dikdörtgenin alanının farkı kaç santimetre karedir?

- A) 4      B) 3  
C) 2      D) 1

## 4. SINIF KONU KAZANIM TESTİ

### FEN BİLİMLERİ DERSİ

1. Aşağıdakilerden hangisi suyu tutumlu kullanmak için yapılması gerekenlerden biri değildir?

- A) Arabaları hortum ile değil bir kova yardımıyla yıkamak.  
B) Çamaşır ve bulaşık makinelerini tam doldurmadan çalıştırmak.  
C) Sebze ve meyveleri akan suda değil bir kabın içine su doldurarak yıkamak.  
D) Bozuk ve damlatan muslukları tamir ettirmek.

2. Aşağıdaki ürünlerden hangisinin son kullanma tarihi bulunmaz?

- A) Şampuan  
B) Cep telefonu  
C) Süt  
D) Yoğurt

3. Aşağıdaki ifadelerden hangileri bilinçli bir tüketicide olması gereken özelliklerdir?

- 1.Evlerde az enerji harcayan elektrikli aletler kullanılmalıdır.  
2.Tek kullanımlık piller yerine şarj edilebilir piller kullanmaya özen gösterilmelidir.  
3.Uyurken odanın ışığı ve televizyon açık bırakılmamalıdır.

- A) 1 ve 3  
B) 2 ve 3  
C) 1 ve 2  
D) 1, 2 ve 3

4. Aşağıdaki öğrencilerden hangisi bilinçli bir tüketici değildir?

- Ecemnur, yazın sıcak havalarda evin pencerelerini açar.  
- Zeynep Nisa, bozuk muslukları tamir ettirir.  
- Yiğit, aydınlatma için birçok ampul kullanır.  
- Fatih, gece yatmadan önce televizyonu kapatır.

- A) Fatih  
B) Zeynep Nisa  
C) Yiğit  
D) Ecemnur

5. Seçeneklerdeki sözcükleri boşluklara uygun şekilde yerleştirirsek kullanılmayan sözcük hangisi olur?

- Alışverişe çıkmadan önce mutlaka ..... listesi hazırlarım.  
- ..... israf edilmeden kullanılmalıdır.  
- ..... bakım yapılırken kaynaklar tutumlu kullanılmalıdır.

- A) İhtiyaç  
B) Tutumlu  
C) Kişisel  
D) Kaynaklar

6. Bilinçli bir tüketici aşağıdakilerden hangisini yapmaz?

- A) Her beğendiğini alır.  
B) Eşyalarını temiz kullanır.  
C) Haklarını bilir ve onlara sahip çıkar.  
D) Bütçesine göre alışveriş yapar.

7. Kaynakların bilinçli kullanılması için aşağıdakilerden hangisi yapılmalıdır?

- A) Tasarruf  
B) İsraf  
C) Savurganlık  
D) Cimrilik

8. Geri dönüşüm ile ilgili aşağıdaki ifadelerden hangileri doğrudur?

- 1.Çevre kirliliğini azaltır.  
2.Ham madde ihtiyacını karşılar.  
3.Ülke ekonomisine katkı sağlar.

- A) 1 ve 3  
B) 2 ve 3  
C) 1, 2 ve 3  
D) 1 ve 2

9. Aşağıdaki maddelerden hangisinin geri dönüşümü yapılamaz?

- A) Cam Vazo                      B) Naylon Poşet  
C) Eski Gazete                    D) Odun Külü

10. Kullanmadığımız kâğıt, gazete ve dergilerin geri dönüşümü ile ilgili aşağıdaki ifadelerden hangisi yanlıştır?

- A) Atık maddelerin artmasına sebep olur.  
B) Aşçılık alanların azalmasını önler.  
C) Çevre kirliliğinin oluşmasını engeller.  
D) Ülke ekonomisine katkı sağlar.

11. Bilinçli bir tüketici evinde oluşan aşağıdaki atıklardan hangisini geri dönüşüm kutusuna atmalıdır?

- 1.Teneke kutu  
2.Meyve ve sebze atıkları  
3.Pet şişe  
4.Kullanılmış defter

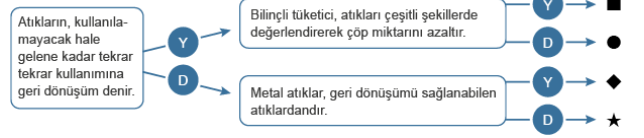
- A) 1 ve 2                              B) 3 ve 4  
C) 1, 3 ve 4                         D) 2, 3 ve 4

12. Tabloya göre atıklar aşağıdakilerden hangisinde doğru eşleştirilmiştir?

Atık	Geri dönüştürülebilir	Geri dönüştürülemez
K	✓	
L		✓
M		✓
N	✓	

- |    | <u>K</u> | <u>L</u> | <u>M</u> | <u>N</u> |
|----|----------|----------|----------|----------|
| A) | teneke   | ilaç     | yemek    | plastik  |
| B) | sebze    | kumaş    | cam      | tahta    |
| C) | kağıt    | teneke   | sebze    | cam      |
| D) | tahta    | plastik  | yemek    | ilaç     |

13. Aşağıdaki şemada doğru ifadelerde D, yanlış ifadelerde Y okunu takip eden biri hangi çıkışa ulaşır?



- A) ■                                      B) ●  
C) ◆                                      D) ★

14. Aşağıdakilerden hangisi bilinçli bir tüketici davranışı olamaz?

- A) Daha az atık oluşturmaya özen gösterir.  
B) Kaynakları tasarruflu kullanır.  
C) İhtiyacı kadarını tüketir.  
D) Tüm atıkları çöpe atar.

15. Üzerinde aşağıdaki sembol olan bir ürün atık durumuna geldiğinde aşağıdakilerden hangisini yapmalıyız?



- A) Çöpe atmalıyız.  
B) Sobada yakmalıyız.  
C) Geri dönüşüm kutusuna atmalıyız.  
D) Evimizden uzakta toprağa gömmeliyiz.



## 4. SINIF KAZANIM PEKİŞTİRME TESTİ

### SOSYAL BİLGİLER DERSİ

1. Türkiye Cumhuriyeti'nin kurucusu ve İlk Cumhurbaşkanı kimdir?

- A) Mustafa Kemal Atatürk
- B) İsmet İnönü
- C) Fevzi Çakmak
- D) Mehmet Akif Ersoy

2. Mustafa Kemal Atatürk tarafından 23 Nisan günü kimlere armağan edilmiştir?

- A) Yaşlılara
- B) Gençlere
- C) Engellilere
- D) Çocuklara

3. Çocukların korunmasında birinci dereceden sorumlu olan aşağıdakilerden hangisidir?

- A) Öğretmenler
- B) Aileleri
- C) Devlet
- D) Polis

4. Dünyada tüm çocukların en öncelikli sahip olduğu hak aşağıdakilerden hangisidir?

- A) İsim konma
- B) Eğitim
- C) Yaşama
- D) Oyun

5. Aşağıdakilerden hangisi çocukların sahip olduğu haklardan biri olamaz?

- A) Eğitim hakkı
- B) Çalışma hakkı
- C) Sağlık hakkı
- D) Oyun hakkı

6. Aşağıdakilerden hangisi evdeki sorumluluklarımızdan biri değildir?

- A) Sınıfımızı temiz tutmak
- B) Odamızı toplamak
- C) Oyuncaklarımızı toplamak
- D) Kıyafetlerimizi düzenlemek

7. Şarkı söylemeyi seven ve sesinin güzel olduğunu söyleyen Merve hangi sosyal kulübe yönelmelidir?

- A) Spor kulübü
- B) Satranç kulübü
- C) Müzik kulübü
- D) Tiyatro kulübü

8. Aybüke: Anneme ev işlerinde yardımcı olurum.  
Ayhan: Babamın yaptığı tamir işlerinde ona istediği malzemeleri getiririm.  
Kübra: Odamı sürekli temiz ve düzenli tutarım.  
**Yukarıda verilen kişilerden hangileri aile içinde sorumluluklarını yerine getirmektedir?**

- A) Aybüke ve Ayhan
- B) Aybüke, Ayhan ve Kübra
- C) Yalnız Ayhan
- D) Yalnız Aybüke

9. Aşağıdakilerden hangisi milli egemenlik ilkesine uygun düşmez?

- A) Halkın yönetime katılması
- B) Herkesin seçme ve seçilme hakkının bulunması
- C) Kişi egemenliğinin ön planda tutulması
- D) Ülkede yönetime geçenlerin seçimle belirlenmesi

10. Aşağıdakilerden hangisi sorumluluklarını yerine getirmeyen bireyin karşılaştığı sorunlardan biri olamaz?

- A) Toplum tarafından dışlanmak
- B) Aile yaşamında mutlu olmak
- C) Verilen sözleri yerine getirmede başarısız olmak
- D) Dayanışma duygusundan uzaklaşmak

11. Doğayı incelemekten hoşlanan, bitkileri ve hayvanları seven kişilerin bir araya gelerek oluşturdukları gruplardır. Doğal kaynakları doğru kullanma ve korumaya yönelik çalışmalarda bulunurlar.

**Açıklamada aşağıdakilerden hangisiyle ilgili bilgi verilmiştir?**

- A) Çevre kulübü
- B) Spor kulübü
- C) Sosyal yardımlaşma kulübü
- D) Kızılay kulübü

12. \*Ulusal egemenliğin temsil edildiği yerdir.  
\*Yasama yetkisini kullanır.  
\*Halkın seçtiği milletvekilleri görev yapar.

**Özellikleri verilen kurum aşağıdakilerden hangisidir?**

- A) Valilik
- B) Cumhurbaşkanlığı
- C) Belediye
- D) TBMM

13. Aşağıdakilerden hangisi sorumluluklarının bilincinde olan bireyin sergileyeceği davranışlardan biri olamaz?

- A) Evinde beslediği hayvanın yemeğini ve suyunu vermek
- B) Ödevlerini zamanında yapmak
- C) Ders kitaplarını özensiz kullanmak
- D) Çevreyi temiz tutmak

14. Aşağıdaki kuruluşlardan hangisi dünyada çocuk haklarına dikkat çekmek için çeşitli faaliyetlerde bulunur?

- A) UNICEF
- B) WHO
- C) UNESCO
- D) TEMA

15. Atatürk'ün aşağıdaki sözlerinden hangisi ulusal egemenlik ile ilgili değildir?

- A) Sanatsız kalan bir milletin hayat damarlarından biri kopmuş demektir.
- B) Türkiye Büyük Millet Meclisinin bütün programlarının ilkesi şu iki temeldir: Tam bağımsızlık, kayıtsız şartsız milli egemenlik.
- C) Egemenlik kayıtsız şartsız milletindir.
- D) Türk Milletinin tabiatına ve geleneklerine en uygun olan yönetim, cumhuriyet yönetimidir.

## 4. SINIF KONU KAZANIM TESTİ

### İNGİLİZCE DERSİ

1. Fill in the blanks.

(Boşlukları uygun şekilde doldurun.)

She is ..... She has ..... and ..... hair.



- A) moustache / handsome / red
- B) slim / curly / brown
- C) plump / wavy / slim
- D) fat / straight / blonde

2. Fill in the blanks.

(Boşlukları uygun şekilde doldurun.)

He is ..... He has ..... and ..... hair.



- A) short / wavy / blonde
- B) blonde / dark / fair
- C) wavy / blue / plump
- D) short / curly / dark

3. Ahmet is ..... but, Mehmet is .....



(Ahmet)



(Mehmet)

- A) old / young
- B) tall / slim
- C) young / old
- D) plump / thin

4. Has your father got beard?



- A) Yes, she has.
- B) No, he hasn't.
- C) Yes, he has.
- D) No, she hasn't.

5. Is your sister tall and slim?



- A) Yes, he is.
- B) No, she isn't.
- C) Yes, he has.
- D) Yes, she is.

6. He / has / blue / nice / eyes.

**Verilen kelimelerle kurulabilecek en anlamlı ve kurallı cümle aşağıdakilerden hangisidir?**

- A) He nice has blue eyes.
- B) He has nice blue eyes.
- C) He blue eyes has nice.
- D) has He blue eyes nice.

7. is / and / short / She / slim.  
Verilen kelimelerle kurulabilecek en anlamlı ve kurallı cümle aşağıdakilerden hangisidir?

- A) short is and slim She.
- B) She short is and slim.
- C) She is short and slim
- D) She is and short slim.





8. look / what / like / you / do?  
Verilen kelimelerle kurulabilecek en anlamlı ve kurallı cümle aşağıdakilerden hangisidir?

- A) What do you look like?
- B) like you do what look?
- C) What you do look like?
- D) What like look you do?

9. Aşağıdaki kelimelerden hangisi diğerlerinden farklıdır?

- A) fat
- B) slim
- C) tall
- D) mother

10. She has straight and blonde hair.  
Yukarıdaki cümle hangi resme aittir?

- A) 
- B) 
- C) 
- D) 

## 4. SINIF KAZANIM PEKİŞTİRME TESTİ

### DİN KÜLTÜRÜ VE AHLAK BİLGİSİ DERSİ

1. "Veda hutbesinde insanların eşit olduğu vurgulanır. Canlarının, mallarının, namuslarının dokunulmaz olduğu belirtilir. Kan davalarının kaldırıldığı söylenir. Kadın haklarının gözetilmesi vurgulanır. Emanetlerin korunması istenir. Faizin kaldırıldığı söylenir."

**Buna göre veda hutbesinde aşağıdaki konulardan hangisine değinilmemiştir?**

- A) Kadın hakları      B) Can güvenliği  
C) Namaz kılmak      D) Emanetlerin korunması

2. Peygamberimiz (s.a.v) 632 yılında Mekke'de Hac ibadeti yaptığı sırada bir hutbe okudu.

**Bu hutbeye ne ad verilir?**

- A) Veda Haccı      B) Veda Hutbesi  
C) Cuma Hutbesi      D) Ravza-i Mutahhara

3. Peygamberimiz (s.a.v) Medine'ye hicret edince bir takım çalışmalar yaptı.

**Buna göre aşağıdakilerden hangisi yanlıştır?**

- A) Her bir Muhacir'i bir Ensar'la kardeş yaptı.  
B) Evs ve Hazrec kabilelerini barıştırdı.  
C) Yahudilerle Medine Sözleşmesini imzaladı.  
D) Eğitim çalışması için bir çaba göstermedi.

4. 628 yılında Müslümanlarla Mekkeliler arasında Hudeybiye Antlaşması yapıldı.

**Aşağıdaki antlaşma maddelerinden hangisi yanlıştır?**

- A) Bu antlaşma üç yıl sürecekti.  
B) Müslümanlar Kâbe'yi ertesi yıl tavaf edeceklerdi.  
C) Mekkeli biri Medine'ye sığınırrsa iade edilecekti.  
D) Diğer kabileler istediği taraf ile antlaşma yapabilecekti.

5. **Salli Barik dualarında hangi iki peygambere ve ailesine dua edilmektedir?**

- A) Hz. Muhammed (s.a.v), Hz. İbrahim(a.s)  
B) Hz. Davut (a.s), Hz. İbrahim (a.s)  
C) Hz. Muhammed (s.a.v), Hz. Yusuf (a,s)  
D) Hz. Musa (a.s), Hz. İsa (a.s)

6. Veda Hutbesi, Cuma Hutbesi, Veda Hacı, Ravza-i Mutahhara, Ehli Beyt  
**Boşlukların yukarıda verilen kelimelerle doğru dizilişi hangi seçenekte sırasıyla verilmiştir?**

-Peygamberimizin (s.a.v) aile fertlerine ve ev halkına ..... denir.  
-Peygamberimizin (s.a.v) kabrine ..... denir.  
-Peygamberimizin 632 yılında yaptığı hacca ..... denir.

- A) Ravza-i Mutahhara - Ehli Beyt -Veda Hutbesi  
B) Ehli Beyt - Ravza-i Mutahhara -Veda Hacı  
C) Ehli Beyt - Ravza-i Mutahhara -Veda Hutbesi  
D) Veda Hutbesi - Veda Hacı - Ehli Beyt

7. "Allahümme salli ala Muhammedin ve ala ali Muhammed" **dua cümlesine ne ad verilir?**

- A) Tekbir  
B) Kelime-i Tevhid  
C) Salavat  
D) Kelime-i Şehadet

8. **Salli Barik duaları ile ilgili aşağıdakilerden hangisi yanlıştır?**

- A) Dua amacı ile istenilen zamanda okunamaz.  
B) Cenaze namazında okunur  
C) Bu duaları okumak bize sevap kazandırır.  
D) Namazların tahiyat (oturuş) bölümünde okunur.

9. "Allahım! Muhammed'e ve Muhammed'in ailesine rahmet eyle, İbrahim'e ve İbrahim'in ailesine rahmet ettiğin gibi.

Şüphesiz övülmeye layık yalnız sensin, şan ve şeref sahibi de sensin"

**Anlamı verilen Allahümme salli duası ile ilgili olarak aşağıdakilerden hangisi yanlıştır?**

- A) Hz.Muhammed'e (s.a.v) ve ailesine dua edilmekte.  
B) Hz.İbrahim'e (a.s) ve ailesine dua edilmekte.  
C) Hz.Adem'e (a.s) ve ailesine dua edilmekte.  
D) Yalnızca yüce Allah'ın övülmeye layık olduğu söylenir.

10. **Müslümanların Mekkelilerle yaptığı ilk savaş hangisidir?**

- A) Bedir Savaşı  
B) Uhud Savaşı  
C) Hendek Savaşı  
D) Mekke'nin Fethi

## 4- SINIF 5- HAFTA KPT CEVAP ANAHTARI

<b>Türkçe</b>	<b>Matematik</b>	<b>Fen Bil-</b>	<b>Sosyal Bil-</b>	<b>İngilizce</b>	<b>Din Kült-</b>
1-D	1. B	1. B	1-A	1 – B	1 – C
2-C	2. B	2. B	2-D	2 – A	2 – B
3-B	3. C	3. D	3-B	3 – C	3 – D
4-D	4. B	4. C	4-C	4 – C	4 – D
5-C	5. D	5- B	5-B	5 – D	5 – A
6-C	6- C	6. A	6-A	6 – B	6 – B
7-C	7- B	7. A	7-C	7 – C	7 – C
8-D	8- C	8. C	8-B	8 – A	8 – A
9-B	9- B	9. D	9-C	9 – D	9 – C
10-C	10- C	10. A	10-B	10 – D	10 – A
11-C	11- A	11. C	11-A		
12-A	12- D	12. A	12-D		
13-B	13- B	13. B	13-C		
14-D	14- A	14- D	14-A		
15-A	15- D	15- C	15-A		