

ADİYAMAN İL MİLLÎ EĞİTİM MÜDÜRLÜĞÜ KAZANIM PEKİŞTİRME ÇALIŞMASI

LIFE FITS INTO HOME

HAYAT EVE SIĞAR

19 MAYIS

ATATÜRK'Ü ANMA,
GENÇLİK VE SPOR BAYRAMI

Kutlu Olsun

2. SINIF
18-22 MAYIS

5.
SAYI

BU KİTAPÇIKTA

TÜRKÇE	15 SORU
MATEMATİK	15 SORU
HAYAT BİLGİSİ	15 SORU
İNGİLİZCE	10 SORU

Yer almaktadır.

Not: Cevap anahtarı soruların yayımlandığı günden sonraki Salı günü <http://adiyaman.meb.gov.tr/> duyurular sekmesinde açıklanacaktır.

Bu çalışmada yer alan Borsa İstanbul ilkokulu, Cumhuriyet ilkokulu, Mehmetçik ilkokulu, Menderes ilkokulu idareci ve öğretmenlerine teşekkürler...

ADİYAMAN MEM

2020

2. SINIF KAZANIM PEKİŞTİRME TESTİ

TÜRKÇE DERSİ

.....

Artık havalar gitgide ısınmaya başlamıştı. Ağaçlar çiçek açmış, her yer yemyeşil olmuştu. İlkbaharın gelişiyle birlikte, Ebru'nun da içi kıpır kıpır olmuştu. Tüm mevsimler güzeldi ama ilkbahar bir başka güzeldi.

1. 2. 3. ve 4. soruları yukarıdaki metine göre cevaplayınız.

1. Ebru'nun içi neden kıpır kıpır olmuştu?

- A) İlkbahar geldiği için,
- B) Yaz mevsimi geldiği için,
- C) Dışarıda oyun oynayacağı için,

2. İlkbaharın gelişiyle birlikte, hangi değişiklik gözlenmemiştir?

- A) Havalar ısınmaya başlamıştır.
- B) Ağaçlar meyve vermiştir.
- C) Her yer yemyeşil olmuştur.

3. Metne uygun bir başlık bulunuz.

- A) İlkbaharın Gelişi
- B) Ağaç Sevgisi
- C) Temiz Çevre

4. Yukarıdaki metin kaç cümleden oluşmaktadır?

- A) 5
- B) 4
- C) 3

5. Aşağıdaki cümlelerin hangisinde kesme işareti (') yanlış kullanılmıştır?

- A) Derya'ya kitap aldım
- B) Tekir'e süt verdim
- C) Merve'ler bize geldi.

6. Özlem öğretmen tahtaya kelimelerin eş anlamlılarını yazıyor
Tahtada boş bırakılan yerlere **sırasıyla hangi sözcükleri yazmalıdır ?**

- 1) Hediye →
- 2) Sınav →
- 3) Vazife →

- A) Ödül, soru, görev
B) Armağan, imtihan, sual
C) Armağan, imtihan, görev

7. Aşağıdakilerden hangisinde yazım yanlışı **yoktur**?

- A) Eve Erkenden gelmiş.
B) Fuat, kardeşi Deniz'i özlemiş.
C) Yarın, Ramazan bayramını kutlayacağız.

8. Hangi seçenekte, kurallı bir cümle **verilmemiştir**?

- A) Hayat eve sığar.
B) Elif resim yaptı.
C) Pazar günü gideceğiz teyzemlere.

9. Ayça, bugün okula gelmedi.

Yukarıdaki cümlede aşağıdaki sorulardan hangisinin cevabı yoktur?

- A) Nereye B) Kim C) Niçin

10.) "Soğuk" sözcüğü hangi cümlede farklı bir anlamda kullanılmıştır?

- A) Hava soğuk olduğu için gezemedik.
B) Beni çok soğuk karşıladılar.
C) Soğuk su içmiyorum.

11. Aşağıdakilerden hangisinin ilk harfi daima büyük yazılır?

A) Gül

B) Öykü

C) Ayşe

12.. Aşağıdaki noktalama işaretlerinden hangisi, bir cümlenin sonunda bulunmaz?

A) (,)

B) (.)

C) (!)

13..



Yukarıdaki sözcüklerden hangisinin eş seslisi yoktur?

A) Yaz

B) Diz

C) Çam

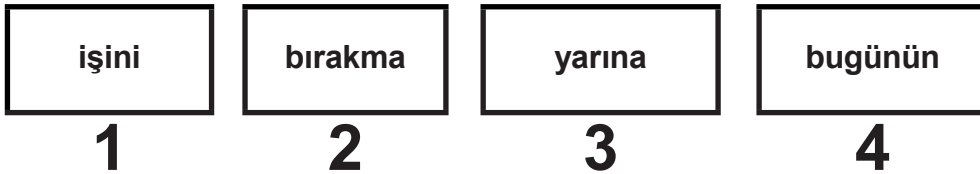
14. "geniş –dar" sözcükleri arasındaki anlam ilişkisi, "taze" sözcüğü ile hangisi arasında vardır?

A) Sağlam

B) Bayat

C) Çürük

15.



Yukarıdaki sözcüklerle anlamlı ve kurallı bir cümle oluşturulursa doğru sıralama hangi seçenekte gibi olur?

A) 2-4-1-3

B) 4-1-3-2

C) 4-2-1-3

2. SINIF KAZANIM PEKİŞTİRME TESTİ

MATEMATİK

Meyve Adı	Öğrenci Sayısı
Elma	### ### I
Muz	### III
Çilek	### ### IIII

Yukarıdaki çetele tablosunda bir sınıftaki öğrencilerin en sevdiği meyve sayıları verilmiştir. Çetele tablosuna göre 1., 2. ve 3. soruları yanıtlayınız.

1. Elma ve Muz seven öğrencilerin sayıları toplamı kaçtır?

A) 19

B) 33

C) 22

2. Çilek sevenlerin sayısı Muz sevenlerin sayısından kaç fazladır?

A) 14

B) 6

C) 8

3. Bu sınıfta kaç öğrenci vardır?

A) 14

B) 30

C) 33

KİTAP TÜRLERİ	KİTAP SAYISI
Masal	24
Şiir	8
Hikaye	19
Fıkra	5

Yukarıdaki tabloya göre 4. ve 5. soruları cevaplandırınız.

4. Kitaplığımızda toplam kaç kitap bulunmaktadır?

A) 56

B) 65

C) 54

5. Sayısı en fazla olan kitap türü ile sayısı en az olan kitap türünün farkı kaçtır?

A) 29

B) 19

C) 56

6. Mert'in 35 lirası vardı. Melis'in parası Mert'ten 7 lira fazla ise ikisinin toplam kaç lirası olur?




Yukarıdaki problemin çözümü aşağıdakilerden hangisidir?

A) $35+7=42$
 $42+7=49$

B) $35-7=28$
 $28+35=63$

C) $35+7=42$
 $42+35=77$

7.

		
1 kg = 4 tl	1 kg = 11 tl	1 kg = 8 tl

Yukarıda verilenlere göre hangi bilgi yanlıştır?

A) 1kg elma ile 1kg muz; 15 lira eder.

B) 1kg muz ile 1kg kiraz; 20 lira eder.

C) 1kg elma ile 1kg kiraz; 12 lira eder.

8. "2 liranın içinde tane 25 kuruş vardır."

Noktalı yere hangi sayı gelmelidir?

A) 2

B) 4

C) 8

9. Hangisi standart ölçme birimidir?

A) Karış

B) Metre

C) Ayak

10. İlkay 2. Sınıfa gidiyor boy uzunluğu aşağıdakilerden hangisi olabilir?

A) 120 cm

B) 50 cm

C) 240 cm

11. Seher akşam dokuz buçukta uyuduğunu söyledi.

Aşağıdaki dijital saatlerden hangisi Seher'in uyuduğu saati göstermektedir?

A) 21:00

B) 21:30

C) 20:30

12. Marketten aldığım gofretin üzerinde Mart ayının başında üretildiği ve 5 ay raf ömrü olduğu yazıyordu.

Gofretin son kullanım tarihi hangi aydır?

A) Temmuz

B) Ağustos

C) Eylül

13. Sabah 07:30 da uyandıktan 3 saat sonra parka giden Ömer parka saat kaçta gitmiştir?

A) 09:30

B) 10:00

C) 10:30

14.



Elif ile Barış yukarıdaki elmaların her birini dört eşit parçaya ayırıyor.

Elif eş parçalardan 5'ini, Barış 3'ünü yerse geriye kaç eş parça kalır

A) 12 eş parça

B) 8 eş parça

C) 4 eş parça

15. Her birinin yüksekliği 15 cm olan kutulardan 5 tanesi üst üste konulursa oluşan yükseklik kaç cm olur?

A) 20 cm

B) 75 cm

C) 80 cm

2. SINIF KAZANIM PEKİŞTİRME TESTİ

HAYAT BİLGİSİ

1. Aşağıdaki ifadelerden hangisi **yanlıştır**?

- A) Bitkileri korumak çevreyi korumaktır.
- B) Bitkiler insanların besin kaynağıdır.
- C) Bitkiler su olmadan yaşayabilirler.

2. Aşağıdakilerden hangisi **bitkilerin yararlarından** biridir?

- A) Suyu kirletmek
- B) Doğayı güzelleştirmek
- C) Havayı kirletmek

3. Evimizdeki bitkileri korumak için **aşağıdakilerden hangisini yapmamalıyız**?

- A) Temiz hava ve güneş ışığı almalarını sağlamalıyız.
- B) Toprağını havalandırmalıyız.
- C) Deterjanlı su ile yapraklarını yıkamalıyız.

4. Aşağıdakilerden hangisi **sokak hayvanlarından** biridir?

- A) Kedi
- B) Aslan
- C) Zebra

5. 1-Sokakta yaşayan hayvanların beslenmesine yardımcı olmalıyız.

2-Hayvanlara zarar vermemeliyiz, onlara zarar verenleri uyarmalıyız.

3-Evde aslan besleyebiliriz.

Yukarıdaki davranışlardan hangileri doğrudur?

- A) 1-3
- B) 1-2
- C) 2-3

6. Aşağıdaki ifadelerin hangisi doğrudur?

- A) Kuşların ve karıncaların yuvalarını bozmalıyız.
- B) Bazı hayvanlara sadece su vermeliyiz.
- C) Bakımını üstlendiğimiz hayvanların yiyeceklerini ve sularını unutmamalıyız.

7. Aşağıdakilerden hangisi evcil hayvandır?

- A) Köpek
- B) Kurt
- C) Zebra

8. Sokakta yaşayan hayvanları korumak için ne yapmalıyız?

- A) Kesici aletleri çöpe atmamız.
- B) Hayvanlara barınaklar yapmalıyız.
- C) Hayvanları toplayıp kafese koymalıyız.

9. Aşağıdakilerden hangisi doğal bir unsurdur?

- A) Fabrikalar
- B) Evler
- C) Dağlar

10. Aşağıdaki ifadelerin hangisi doğrudur?

- A) Binalar, köprüler, parklar doğal unsurlardır.
- B) Kar yağışı insanları olumsuz etkilemez.
- C) İklim koşulları insanların yetiştireceği ürünleri etkiler.

11.) Aşağıdaki yerlerden hangisi insanların yaşaması için daha uygundur?

- A) Geniş ve verimli toprakların olduğu yerler
- B) Dağ, tepe gibi engebeli arazilerin olduğu yerler
- C) Havanın çok soğuk olduğu yerler

12.Aşağıdakilerden hangisi çevremizdeki doğal unsurlardan değildir?

- A) Irmak
- B) Dağ
- C) Ev

- 13.) - Armut ağacı - Bilye
 - Güvercin - Uçurtma

Yukarıda verilenlerden kaç tanesi doğaldır?

- A) 4
- B) 3
- C) 2

14.Bitkilerin büyüüp gelişebilmesi için aşağıdakilerin hangisine ihtiyacı yoktur?

- A) Güneş
- B) Rüzgar
- C) Su

15. - Beslenme - Barınma
 - Su
 - Güneş - Hava

Canlıların yaşamlarını sürdürebilmesi için yukarıdakilerden kaç tanesine ihtiyacı vardır?

- A) 5
- B) 4
- C) 3

2. SINIF KAZANIM PEKİŞTİRME TESTİ

İNGİLİZCE



Yukarıdaki görsellere göre aşağıdaki cümlelerden hangisi doğru olur?

A) I like orange

B) I like watermelon

C) I don't like watermelon



Yukarıdaki meyvelerin doğru sıralandığı seçenek hangisidir?

A) APPLE-BANANA-GRAPES-STRAWBERRY

B) BANANA-APPLE-GRAPES-STRAWBERRY

C) APPLE-BANANA-STRAWBERRY-GRAPES

3. Do you.....cherry?

Yukarıdaki noktalı yere hangisi gelebilir?

A) like

B) yes

C) you

4. Aşağıdaki kelimeler doğru sıralandığında hangi cümle oluşur?

Like - I - peach - don't

A) I peach don't like.













B) I like don't peach

C) I don't like peach

5. "DO YOU LIKE CHERRY?"

Yukarıdaki sorunun cevabı hangisi olamaz?

- A) Yes I do
B) Yes she does
C) No I don't

			
Ayşe			
Berat			
Ömer			

6.,7.,8, sorularındaki noktalı yerleri yukarıdaki tabloya göre cevaplayın.

6. **ÖMER:** I DON'T LIKE

- A) Banana B) Grapes C) Strawberry

7. AYŞE: I STRAWBERRY.

A) DON'T LIKE

B) DO YOU

C) LIKE

8. BERAT : I DON'T LIKE

A) STRAWBERRY AND GRAPES

B) GRAPES AND BANANA

C) STRAWBERRY AND BANANA

9.



Yukarıdaki görsele göre hangi cümle söylenebilir?

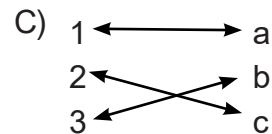
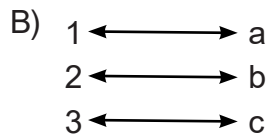
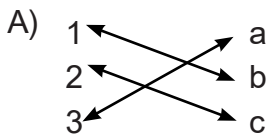
A) I like orange

B) I don't like orange

C) I don't like watermelon

10. 1	cut the apple	a	üzümü ye
2	paint the orange	b	elmayı kes
3	eat the grapes	c	portakalı boya

Yukarıdaki cümleler doğru eşleştirildiğinde hangi seçenek doğru olur?



2. SINIF 5. HAFTA KPT CEVAP ANAHTARI

TÜRKÇE	MATEMATİK	HAYAT BİLGİSİ	İNGİLİZCE
1A	1A	1C	1B
2B	2B	2B	2C
3A	3C	3C	3A
4B	4A	4A	4C
5C	5B	5B	5B
6C	6C	6C	6A
7B	7B	7A	7C
8C	8C	8B	8A
9C	9B	9C	9B
10B	10A	10C	10A
11C	11B	11A	
12A	12A	12C	
13C	13C	13C	
14B	14C	14B	
15B	15B	15A	