

# ADİYAMAN İL MİLLÎ EĞİTİM MÜDÜRLÜĞÜ KAZANIM PEKİŞTİRME ÇALIŞMASI

LIFE FITS INTO HOME

HAYAT EVE SIĞAR

19 MAYIS

ATATÜRK'Ü ANMA,  
GENÇLİK VE SPOR BAYRAMI

*Kutlu Olsun*

3. SINIF  
18-22 MAYIS

5.  
SAYI

## BU KİTAPÇIKTA

TÜRKÇE	15 SORU
MATEMATİK	15 SORU
FEN BİLİMLERİ	15 SORU
HAYAT BİLGİSİ	15 SORU
İNGİLİZCE	10 SORU

Yer almaktadır.

Not: Cevap anahtarı soruların yayımlandığı günden sonraki Salı günü <http://adiyaman.meb.gov.tr/> duyurular sekmesinde açıklanacaktır.

Bu çalışmada yer alan Borsa İstanbul ilkokulu, Cumhuriyet ilkokulu, Mehmetçik ilkokulu, Menderes ilkokulu idareci ve öğretmenlerine teşekkürler...

ADİYAMAN MEM

2020

### 3. SINIF KAZANIM PEKİŞTİRME TESTİ

#### TÜRKÇE

##### ASLAN, KURT VE TILKI

Aslan, kurt ve tilki arkadaş olup ormanda avlanmaya çıkmışlar. Günün sonunda, bir öküz, bir keçi ve bir de tavşan avlayan kafadarlar avlarını bir mağaraya getirmişler. Aslan kurda dönerek "Hadi bakalım!" demiş. "Şu hayvanları paylaşır da karnımızı doyuralım. "

Kurt ezile büzüle: "Ey büyük sultanım." demiş. "Şu öküzü siz buyurun, keçi benim, tavşan da tilki kardeşin olsun."

Aslan birden çok kızmış ve, "Bre küstah!" demiş. "Sen kim oluyorsun? Ben varken sana pay etmek düşer mi?" Sonra da bir pençe darbesiyle kurdu yere sermiş. Bu kez tilkiye dönüp "Öyle aval aval bakma da paylaşır şu avları bakalım." demiş.

Tilki "Pay etmek haddim değil ama madem emir buyurdunuz söyleyeyim. Tavşan sabah kahvaltınız, öküz öğle yemeğiniz olur. Keçiyi de akşam yersiniz." demiş.

Aslan bu paylaştırmadan çok hoşlanmış ve tilkiye, bu kadar adil bir paylaştırmayı nereden öğrendiğini sormuş. Tilki de: "Yüce efendim!" demiş. "Şu haddini bilmez kurdun durumundan öğrendim."

İlk üç soruyu yukarıdaki parçaya göre cevaplayınız.

#### 1. Av hayvanlarının pay edilmesini kim istemiş?

- A) Tilki      B) Tavşan      C) Aslan

#### 2. Aslan, kurt ve tilki birlikte ava çıkınca aşağıdaki hayvanlardan hangisini avlamamışlardır?

- A) Öküz      B) Keçi      C) Ceylan

#### 3. Tilki av hayvanlarını nasıl paylaşmıştır?

- A) Tüm av hayvanlarını aslana vermiş.  
B) Tavşanı kendi almış, keçiyi kurda, öküzü de aslana vermiş.  
C) Öküzü aslana, keçiyi kendine, tavşanı da kurda vermiş.

#### 4. "Kumral saçlı, mavi gözlü, sempatik bir kızım var." Yukarıdaki cümlede hangi sözcük varlıkları niteleyen bir özellik değildir?

- A) Kızım      B) Sempatik      C) Kumral

#### 5. Aşağıdaki cümlelerin hangisinde zıt anlamlı kelimeler bir arada kullanılmamıştır?

- A) Kapının önünde iri yarı bir adam vardı.  
B) İleri geri konuşmaları hiç sevmem.  
C) Aşağı yukarı bizim yaşlarda sevimli bir çocuktu.

#### 6. "Günün ilk ışıklarıyla birlikte sesler çoğalmaya başladı. Derken her yanı bir gürültü sardı. Bu olağan dışı bir gürültüydü."

Aşağıdaki soru cümlelerinin hangisinin cevabı yukarıdaki metinde yoktur?

- A) Sesler ne zaman çoğalmaya başladı?  
B) Bu nasıl bir gürültüydü?  
C) Kim gürültü yapıyordu?

#### 7. Barış olsun savaş olsun, Çocukları sevmeliyiz. Hepsine de değer verip, Kıymetini bilmeliyiz.

Yukarıdaki şiirin konusu, aşağıdakilerden hangisidir?

- A) Barış  
B) Çocuk Sevgisi  
C) Savaş

Kokar burcu burcu güller  
Öter dallarda bülbüller  
Açar menekşe, sümbüller  
Ne güzeldir Türkiye'miz

8. ve 9. Soruları yukarıdaki dördlüğe göre cevaplayınız.

8. Dörtlükte verilmek istenen duygu aşağıdakilerden hangisidir?

- A) Hayvan sevgisi
- B) Ağaç sevgisi
- C) Vatan sevgisi

9. Bu dördlükte geçen çoğul isimler hangi seçenekte doğru verilmiştir?

- A) Güller – dallar - bülbüller – sümbüller
- B) Kokar – öter – açar – güzel
- C) Burcu – bülbüller – menekşe - Türkiye

10. Aşağıdaki cümlelerde altı çizili sözcüklerden hangisi eş sesli bir sözcük değildir?

- A) Sabah bir bardak çay içtim.
- B) Derede yüzümü yıkadım.
- C) Arkadaşlarımla birlikte oynadım.

11. I- **Ağzında bakla islanmamak**  
II- **Ağzıyla kuş tutmak**  
III- **Ağzını bıçak açmamak**  
Yukarıdaki deyimlerden hangisi “hiç sır saklamayan” insanlar için kullanılabilir?

- A) I
- B) II
- C) III

12. “Dal” sözcüğü aşağıdaki cümlelerin hangisinde “ağacın gövdesinden ayrılan kolu” anlamında kullanılmıştır?

- A) Dalgıç yüzme takımlarını giyerek denizin derinliklerine daldı.
- B) Salıncağı kurmak için en uygun dalı bulmaya çalışıyordu.
- C) Olimpiyatlarda hangi dalda yarışmak istiyorsun?

13. Aşağıdaki cümlelerin hangisinde birden fazla virgül kullanılmalıdır?

- A) Pazardan domates biber aldım.
- B) Fırından poğaçaya simit ve ekmek aldım.
- C) Çantasında defter kitap kalem ve silgi vardı.

14.



Beş arkadaş o gün çok .....

**Bu cümle aşağıdakilerin hangisiyle tamamlandığında yukarıdaki görselle uyumlu olmaz?**

- A) üzgündüler
- B) sevinçliydimler
- C) mutluydular

15. Aşağıdaki cümlelerin hangisinde özel adların yazımı ile ilgili hata yapılmıştır?

- A) Çarşamba günü kardeşimin doğum günü partisi var.
- B) Karapınar mahallesinde kiralık ev bulamadık.
- C) Beste'nin çantası yere düşmüş.

### 3. SINIF KAZANIM PEKİŞTİRME TESTİ

#### MATEMATİK DERSİ

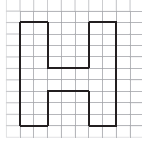
1. Aşağıdaki uzunluklardan hangisi daha büyüktür?

- A) 6 m      B) 600 cm      C) 50 m

2. Aşağıdaki eşitliklerden hangisi yanlıştır?

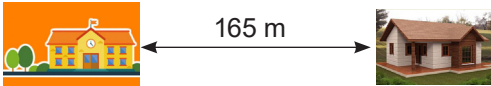
- A) 5 m 5 cm = 505 cm  
B) 156 cm = 15 m 6 cm  
C) 4 m 45 cm = 445 cm

3. Aşağıdaki şeklin çevresi kaç birimdir?



- A) 42      B) 46      C) 48

4.



Yukarıdaki resme göre Melis evinden okula iki kere gidip geldiğinde kaç metre yürümüş olur?

- A) 660 m      B) 330 m      C) 600 m

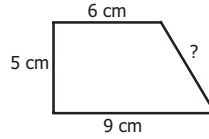
5. “Adıyaman-Ankara arası 740..... dir.”  
Yukarıda boş bırakılan yere aşağıdaki birimlerden hangisi getirilmelidir?

- A) cm      B) m      C) km

6. Aşağıdakilerden hangisi 1km'ye eşittir?

- A) 200m+200m B) 500m+500m C) 250m+250m


7.



Yandaki şeklin çevresi 27 cm'dir. Buna Göre verilen kenar uzunluğu kaç cm'dir?

- A) 7      B) 8      C) 9

8.



Yukarıdaki şekil, birbirine eş 6 kareden oluşmaktadır.

Karenin bir kenarı 8 cm ise şeklin çevresi kaç cm'dir?

- A) 96      B) 106      C) 118

9. Çeyreği 45 cm olan bir uzunluğun 5 katı kaç metredir?

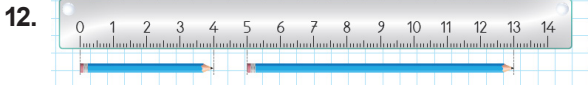
- A) 7 m      B) 8 m      C) 9 m

10. Mert koltuğun boyunu 19 karış olarak ölçtü. Mertin bir karışı 12 cm olduğuna göre **koltuğun uzunluğu aşağıdakilerden hangisidir?**

- A) 2 m 28 cm    B) 2 m 14 cm    C) 2 m 8 cm

11. Bir terzi 6 metre kumaşın 150cm'si ile etek, 230cm'si ile ceket dikti. **Geriye kaç cm kumaşı kalmıştır?**

- A) 450 cm      B) 320 cm      C) 220 cm



Yukarıdaki verilere göre iki kalemin toplam uzunluğu kaç santimetredir?

- A) 14      B) 13      C) 12

13.



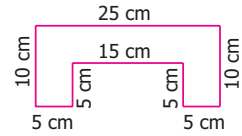
Yukarıdaki dikdörtgen şeklindeki bahçenin uzun kenarı kısa kenarından 8m uzundur. **Bahçenin kenarına 3 sıra tel çekileceğine göre bu iş için kaç m tel gerekir?**

- A) 94      B) 168      C) 175

14. Ali'nin boyu 1 m 57 cm, Mehmet'in boyu ise 1 m 75 cm'dir. **Mehmet, Ali'den ne kadar uzundur?**

- A) 15 cm      B) 18 cm      C) 23 cm

15. Aşağıdaki şeklin çevresi kaç cm'dir?



- A) 95      B) 90      C) 80

### 3. SINIF KAZANIM PEKİŞTİRME TESTİ

#### FEN BİLİMLERİ

1. Aşağıdaki cümlelere doğru olanlara (D), yanlış olanlara (Y) yazınız.

- ( ) Bitmiş piller, toprağa gömülmelidir.
- ( ) Tek kullanımlık pil yerine şarj edilebilen piller kullanılmalıdır.
- ( ) Atık piller geçici çevre kirliliğine neden olur.
- ( ) Akmış pillere el sürmek tehlikelidir.

2. Aşağıdaki cümleleri uygun kelimelerle tamamlayınız.

- Hesap makinesi ve saat gibi cihazlar ..... ile çalışmaktadır.
- Birden fazla pilin bir araya gelmesiyle oluşturulan elektrik kaynağına ..... denir.
- Biten pillerimizi ..... atmalıyız.
- Acil Yardım ve Kurtarma telefonu ....., Elektrik Arıza ....., Yangın İhbarı .....'dur

3. Aşağıdakilerden hangisi pil ile çalışır?

- A) Kumanda
- B) Buzdolabı
- C) Fön makinesi

4. Aşağıdakilerden hangisi batarya ile çalışır?

- A) Televizyon
- B) Mutfak robotu
- C) Cep telefonu

5. Biten piller için aşağıdakilerden hangisi yapılmalıdır?

- A) Çevreye atmalıyız.
- B) Denize atmalıyız.
- C) Geri dönüşümünü sağlamalıyız.

6. Gelişigüzel atılan pillerle ilgili aşağıdaki ifadelerin hangisi doğrudur?

- A) Yağmur sularıyla çözünerek su ve toprağı kirletir.
- B) Tabiata hiçbir zararı yoktur.
- C) Poşete koyarak atıldığında zarar vermez

7. Aşağıda elektrikli araçlar ve bu araçların çalışmasını sağlayan elektrik kaynakları eşleştirilmiştir.

**Bu eşleştirmelerden hangisi yanlıştır?**

- A) Kamyonet- akü
- B) Akıllı tahta- pil
- C) Fotoğraf makinesi – pil

8. Aşağıda elektrikle çalışan araç ve gereçlerin hangi elektrik kaynağıyla çalıştığını aşağıdaki tablonun uygun yerine yazınız.

uçak, televizyon, dizüstü bilgisayar, traktör, fırın, cep telefonu, duvar saati, mutfak robotu, radyo, çamaşır makinesi, el feneri, fotoğraf makinesi, otomobil, gemi, kumanda

Şehir Elektrığı	
Pil	
Batarya	
Akü	

9. Aşağıdakilerden hangisi pillerin zararlarından biridir?

- A) İçlerindeki kimyasal maddeler doğaya zarar verir.
- B) Piller taşınabilir enerji kaynağıdır.
- C) Değişik boyutlarda piller bulunur.

10. Aşağıdakilerden hangisi yanlıştır?

- A) Atık piller, kalıcı çevre kirliliğine neden olur.
- B) Akmış pillere el sürmek tehlikelidir.
- C) Atık piller bir süre bekletilip yeniden kullanılabilir.

11. Pille çalışan aletlerin tercih edilme nedeni aşağıdakilerden hangisidir?

- A) Pillerin hiç bitmemesi
- B) Pillerin küçük ve taşınabilir olması
- C) Pillerin çok ucuz olması

12. Aşağıdaki ifadelerden hangisi elektriği bilinçli kullanma ile ilgilidir?

- A) Elektrik harcamamak için çamaşırlar elle yıkanmalıdır.
- B) Bulaşık makinesi iyice dolmadan çalıştırılmamalıdır.
- C) Az elektrik harcarsın diye gece lambasında oturmalıyız.

13. Bozulan elektrikli aletlerle ilgili olarak söylenenlerden hangisi doğrudur?

- A) İçini açıp, tamir edip edemeyeceğimize bakmalıyız.
- B) Babamıza verip tamir etmesini istemeliyiz.
- C) Uzman kişilere tamir ettirmeliyiz.

14. Aşağıdaki davranışlardan hangisi yanlıştır?

- A) Boşta gördüğümüz ve yere düşmüş elektrik tellerine dokunmak.
- B) Patlak ampulleri güvenli bir şekilde değiştirmek.
- C) Çalışan elektrikli aletlerin fişini elimiz ıslakken prizden çekmemek.

15. I. Kabloların üzerine ağır eşyaları koyabiliriz.  
II. Bozulan elektrikli aletleri kendimiz tamir edebiliriz.  
III. Prizlere sivri cisimler sokmamalıyız.

**Yukarıdaki ifadelerden hangisi veya hangileri elektriğin güvenli kullanımı ile ilgili doğru bir ifadedir?**

- A) I ve III
- B) Yalnız III
- C) II ve I



### 3. SINIF KAZANIM PEKİŞTİRME TESTİ

#### HAYAT BİLGİSİ DERSİ

1.



-Kâğıt endüstrisinin kurucusudur.  
-Fransa'da, Kâğıt Mühendisliği Okulunda eğitim görerek kâğıt mühendisi oldu.  
-Ülkemizde ilk kâğıt fabrikasını İzmit'te o açmıştır.  
**Yukarıda verilen bilgilere göre ülkemize katkıda bulunan kişi kimdir?**

- A) Nuri DEMİRAĞ
- B) Mehmet Ali KÂĞITÇI
- C) Zihni DERİN

2. Aşağıda verilen ifadelerden doğru olanların başına "D", yanlış olanların başına "Y" yazarak belirtiniz.

- ( ) Naim SÜLEYMANOĞLU, milli güreşçilerimizden biridir.
- ( ) Türkiye'de ilk uçak fabrikasının kuruluşunu ve ilk yerli paraşüt üretimini gerçekleştiren Nuri DEMİRAĞ'dır.
- ( ) Türkiye'de çay tarımının başlamasını ve gelişmesini sağlayan ziraat mühendisi Jale İNAN' dır.
- ( ) Nene HATUN, Kurtuluş Savaşı'ndan önce yapılan Osmanlı-Rus Savaşı'nda Erzurum'un savunulmasında kahramanca mücadele veren Türk kadınıdır.
- ( ) Vecihi HÜRKUŞ, Türkiye'nin ilk uçak tasarımcısı ve üreticisidir. İlk sivil ve askerî uçağı yapan, ilk özel hava yolu şirketini kuran kişidir.

3.



-Yurdumuzda ilk demir yolu yapımını gerçekleştiren.  
-Havacılık sanayisini kuran iş adamıdır.  
-Türkiye'de ilk uçak fabrikasının kuruluşunu ve ilk yerli paraşüt üretimini gerçekleştirdi.  
**Yukarıda verilen bilgilere göre ülkemize katkıda bulunan kişi kimdir?**

- A) Nuri DEMİRAĞ
- B) Mehmet Ali KÂĞITÇI
- C) Zihni DERİN

4. Başarılı insanların yaşamlarını incelemek bize nasıl bir katkıda bulunabilir?

- A) Onları örnek alabiliriz.
- B) Çalışmadan başarılı olabiliriz.
- C) Her yaptıklarını yapabiliriz.

5. I. Meraklıdırlar ve gözlem yaparlar.

II. Araştırmacı ve sorgulayıcıdırlar.

III. Değişikliklere ve yeniliklere karşıdırlar.

**Yaptığı çalışmalar ile ülkemize katkıda bulunan kişilerin bireysel özellikleri ile ilgili yukarıdakilerden hangileri doğrudur?**

- A) I, II ve III
- B) II ve III
- C) I ve II

6.



I

II

III

Zihni Derin, Türkiye'de çay tarımının başlamasını ve gelişmesini sağlayan ziraat mühendisidir.

**Yukarıda bahsedilen kişinin resmi hangisidir?**

- A) II
- B) III
- C) I

7.



- Türkiye'nin ilk kadın arkeologudur.
- Perge ve Side antik kentlerinin ortaya çıkarılmasını sağladı.
- Mozaikler bugün

Antalya Arkeoloji Müzesinde sergilenmektedir.

**Yukarıda verilen bilgilere göre ülkemize katkıda bulunan kişi kimdir?**

- A) Sezen AKSU
- B) Jale İNAN
- C) Safiye Ali

8. **Aşağıdakilerin hangisi Atatürk'ün kişisel özellikleri arasında yer almaz?**

- A) Plansız hareket etmesi.
- B) Yeniliklere açık olması.
- C) Mantıklı ve gerçekçi olması.

9. Mustafa Kemal Atatürk küçük yaşta babasını kaybettiği halde okula gitmekten vazgeçmemiştir. **Bu ifade Atatürk'ün hangi kişisel özelliğini göstermektedir?**

- A) İnsan sevgisi
- B) Yöneticiliği.
- C) Zorluklar karşısında kararlarından vazgeçme-me

10. - 'Cep Herkülü' lakaplı.  
- Olimpiyat şampiyonu  
- İlk dünya rekorunu kırdığında 15 yaşındaydı.

**Yukarıda Tanıtılan kişi kimdir?**

- A) Nuri DEMİRAĞ
- B) Naim SÜLEYMANOĞLU
- C) Zihni DERİN



11. **Ülkemize göç eden farklı kültürdeki insanlara karşı hangisini yapmak doğrudur?**

- A) Onlardan uzak durmak.
- B) Okullarda dil ve uyum çalışmalarında yardımcı olmak.
- C) Oyunlarımıza almamak.

12.

Dil - Kültür - Günlük yaşam

**Ülkemize göç eden insanlar yukarıdaki kavramlardan kaç tanesinde sorun yaşarlar?**

- A) 1
- B) 2
- C) 3

13. Disiplinli, kararlı ve azimli olmak Atatürk'ün ..... özelliklerindedir.

**Yukarıdaki cümlede noktalı yere aşağıdakilerden hangisi gelmelidir?**

- A) Duygusal
- B) Kişisel
- C) Fiziksel

14.

- I. Kanunlara uymak
- II. Ödev yapmak
- III. Vergi vermek

**Yukarıdaki cümlelerden hangileri ülkemize karşı sorumluluklarımızdandır?**

- A) I ve III
- B) I ve II
- C) I, II ve III

15. **Aşağıdakilerden hangisi 3. Sınıfa giden bir öğrencinin görev ve sorumluluklarından biri olabilir?**

- A) Seçimlerde oy kullanmak.
- B) Okula gitmek.
- C) Askere gitmek.

### 3. SINIF KAZANIM PEKİŞTİRME TESTİ

#### İNGİLİZCE

1. Is it rainy in deserts ?

- A) No, it isn't
- B) Yes, it is
- C) No, it is

2. .... ?

**It is very hot and sunny.**

- A) How is the weather ?
- B) Is it hot in Antalya ?
- C) Is it sunny in pole ?




3. It is sunny and hot ..... Izmir.

- A) at
- B) in
- C) on

4. (1) cold (2) it  
(3) is (4) snowy (5) and

**“Numaralandırılmış sözcüklerle oluşturulan doğru cümle hangisidir?”**

- A) 1-3-2-4-5
- B) 2-3-1-5-4
- C) 2-3-5-4-1

Adıyaman:  Kars:  Sinop: 

**5. ve 6. Soruları yukarıdaki hava durumuna göre çözünüz?**

5. How is the weather in Adıyaman ?

- A) Snowy
- B) Rainy
- C) Sunny


6. Is it snowy in Kars ?

- A) Yes, it is
- B) No, it isn't
- C) No, it is

7. Aşağıdaki eşleştirmelerden hangisi yanlıştır?

A)  Sunny

B)  Snowy

C)  Cloudy

8.



**It is a .....**

- A) ladybird
- B) seehorse
- C) Bee

9.



**It is a .....**

- A) Frog
- B) Shark
- C) Dolphin

10.



**It is a .....**

- A) Chicken
- B) Parrot
- C) Donkey

## FEN BİLİMLERİ

1. Y-D-Y-D

3. A

6. A

2. Pil-Batarya-Pil  
atık kutusu-112,  
186, 110

4. C

7. B

5. C

8.

Şehir Elektrikçi	Pil	Batarya	Akü
Televizyon, fırın Mutfak robotu Çamaşır mak.	Duvar saati, radyo El feneri, fotoğraf mak. Kumanda	Dizüstü bil. Cep tel.	Uçak, traktör, Otomobil, gemi

9. A

11. B

14. A

10. C

12. B

15. B

13. C

## HAYAT BİLGİSİ

1 B	6 C	11 B
2 YDYDD	7 B	12 C
3 A	8 A	13 B
4 A	9 C	14 A
5 C	10 B	15 B

## İNGİLİZCE

1-A	5-C	9-C
2-A	6-A	10-C
3-B	7-A	
4-B	8-C	

## MATEMATİK

1) C	6) B	11) C
2) B	7) A	12) C
3) B	8) A	13) B
4) A	9) C	14) B
5) C	10) A	15) C

## TÜRKÇE

1- C	6- C	11- A
2- C	7- B	12- B
3- A	8- C	13- C
4- A	9- A	14- A
5- A	10- C	15- B