



# ADİYAMAN İL MİLLÎ EĞİTİM MÜDÜRLÜĞÜ KAZANIM PEKİŞTİRME ÇALIŞMASI

LIFE FITS INTO HOME

HAYAT EVE SIĞAR



4. SINIF  
27 NİSAN 1 MAYIS

2.  
SAYI

## BU KİTAPÇIKTA

TÜRKÇE	15 SORU
MATEMATİK	15 SORU
FEN BİLİMLERİ	15 SORU
SOSYAL BİLGİSİ	15 SORU
İNGİLİZCE	10 SORU
DİN KÜLTÜRÜ	10 SORU

Yer almaktadır.

Not: Cevap anahtarı soruların yayımlandığı günden sonraki pazartesi günü <http://adiyaman.meb.gov.tr/> duyurular sekmesinde açıklanacaktır.

Bu çalışmada yer alan Borsa İstanbul ilkokulu, Cumhuriyet ilkokulu, Mehmetçik ilkokulu, Menderes ilkokulu idareci ve öğretmenlerine teşekkürler...

ADİYAMAN MEM

2020

## 4. SINIF KAZANIM PEKİŞTİRME TESTİ

### TÜRKÇE DERSİ

1. Aşağıdaki cümlelerin hangisinde zıt ( karşıt) anlamlı sözcükler bir arada **kullanılmamıştır**?

- A) Servisi kaçırınca yürüyerek okula gitmiş.
- B) Uzun lafın kisası tatil çok güzel geçti.
- C) Sınavda on doğru iki yanlış yapmış.
- D) Yıllardır kar eden market bu yıl zarar etti.

2. 1) kibar 2) kira 3) kimlik 4) kiler  
Yukarıdaki kelimeleri sözcük sırasına göre sıraladığımızda hangisi **baştan üçüncü** sırada olur?

- A) Kiler B) Kimlik
- C) Kira D) Kibar

3. 1) her zaman 2) arkadaşlık  
3) ağaçtır 4) gölge  
5) veren  
Yukarıdaki sözcüklerle anlamlı ve kurallı bir cümle oluşturulursa doğru sıralama nasıl olmalıdır?

- A) 2-4-5-3-1 B) 2-1-4-5-3
- C) 4-5-3-2-1 D) 1-5-4-2-3

4. Milyonlarca yıl önce, yeryüzünde en fazla bulunan hayvanlar sürüngenlerdi. Bunlar soğuk kanlı hayvanlardı. Gövdeleri pullarla örtülüydü. Sürünerek hareket ediyorlardı. Bu devirde yeryüzünde henüz insan yoktu. İlk sürüngenlerden bazılarında kanat ve tüyler gelişti. Uçmayı öğrendiler. İşte bunlar ilk kuşlardı.

**Yukarıdaki paragrafta aşağıdaki sorulardan hangisinin yanıtı vardır?**

- A) Kuşlar nasıl oluştu?
- B) Kuşlar nasıl uçar?
- C) Sürüngenler ne ile beslenir?
- D) Sürüngenler nasıl oluştu?

5. Aşağıdaki sözcük çiftlerinin hangisinde **farklı** bir anlam ilişkisi vardır?

- A) gezi - seyahat
- B) deneyim - tecrübe
- C) övmek - yermek
- D) öykü - hikâye

6. “**Kırmak**” sözcüğü aşağıdakilerin hangisinde “**öldürmek, yok olmasına sebep olmak**” anlamında kullanılmıştır?

- A) Sizin hatırınızı kırmamak için bu isteğinizi kabul ediyorum.
- B) Bu yıl soğuk, hayvanları kırdı.
- C) Birkaç gün evvel yağan yağmur sıcaklığı kırmamış.
- D) Bulaşık yıkarken elindeki bardağı kırdı.

7. Aşağıdaki cümlelerin hangisinde **oyun** kelimesi **mecaz anlamı** ile kullanılmıştır?

- A) Kardeşimle bahçede oyun oynadık.
- B) En sevdiğim oyun körebe oyunudur.
- C) Arkadaşım beni oyuna getirdi.
- D) Ablam bana çok güzel bir oyun öğretti.

8. İnsanlar, dağlar gibi yerlerinden kıyılamayan cansızlar değildir. Arkadaşlar, tanışlar birbirlerinden ne kadar uzakta olursa olsun ve buluşmaları ne kadar güç olursa olsun, günün birinde bir araya gelebilirler.

**Paragraftaki açıklamaya uygun atasözü aşağıdakilerden hangisidir?**

- A) Dağ ne kadar yüce olsa yol üstünden aşar.
- B) Dağ dağ üstünde olur, ev ev üstünde olmaz.
- C) Dağ dağa kavuşmaz, insan insana kavuşur.
- D) Danışan dağı aşmış, danışmayanın yolu şaşmış.

9. “Filmi seyredebilirsin .... yarın erken kalkmalısın.”  
Yukardaki cümlede boş bırakılan yere aşağıdakilerden hangisi getirilemez?

- A) ancak B) ama  
C) fakat D) üstelik

10. Aşağıdakilerin hangisinde yazım yanlışı vardır?

- A) Biz Cumhuriyet Mahallesi'nde oturuyoruz.  
B) 22 Ekim Cuma günü benim doğum günüm.  
C) Hasan bey toplantıya geç kaldı.  
D) Ayşe, Zeytin 'i gezmeye çıkardı.

11. 1. İçeri girer girmez sözlüklere bakmak istediğini söyledi.

2. Ücretini ödedikten sonra sözlüğün sayfalarını çevire çevire dükkândan çıktı.  
3. Sonra gözlerini kalın ciltlerin üzerinde gezdirdi.  
4. Dükkâna bir müşteri geldi.  
5. “Bunu alıyorum.” diyerek seçtiği sözlüğü bana doğru getirdi.

Numaralandırılmış olaylar oluş sırasına göre nasıl sıralanmalıdır?

- A) 1 - 3 - 4 - 5 - 2 B) 1 - 4 - 3 - 2 - 5  
C) 4 - 3 - 1 - 2 - 5 D) 4 - 1 - 3 - 5 - 2

12. Trafik sorunu yaşam şartlarını zorlaştırır. İnsanların sinirlerinin bozulmasına, iletişim sorunlarına ve daha pek çok soruna yol açar. Trafik sorununu halletmedikçe diğer sorunların hiçbirini aşamazsınız. Bu nedenle tüm sorunları bir kenara bırakıp trafik sorununu çözmek gerekir.

Paragrafa en uygun başlık aşağıdakilerin hangisidir?

- A) Trafiğin Zorlukları B) Trafik Sorunu  
C) Büyük Şehir Yaşamı D) Sorunlar Yumağı

13. Aşağıdaki cümlelerin hangisinde “da, de” nin yazımı yanlıştır?

- A) Bugün okulda yaşananlar onu çok üzmüştü.  
B) Pikniğe Ahmet de mi gelecek?  
C) Evde iki tane kedi besliyordu.  
D) Hesabını iyi yaparsa evde alabilir.

14. ( ) Benim idealim( ) berrak bir vicdanla insanın herkesi sevmesine imkân tanıyan bir toplumsal sistemdir( ) ( ) diyorsun( )

Cem'in sözünde ( ) olan yerlere sırasıyla aşağıdaki noktalama işaretlerinden hangileri getirilmelidir?

- A) (-) (,) (.) (.) (.) (.) B) (“) (,) (.) (“) (.)  
C) (-) (;) (.) (-) (.) D) (“) (;) (.) (.) (“)

15. Tiyatro eğitimi, konservatuar denilen okullarda verilir. İnsanları eğiten, eğlendiren tiyatro, aynı zamanda düşündürür de. Bir arada yaşayan insanların birlikte güldüğü, birlikte ağladığı ve hep birlikte düşündüğü tiyatro salonları, insanca duyguların da öğrenildiği yerlerdir.

Bu paragrafın konusu aşağıdakilerden hangisidir?

- A) Tiyatro eğitimi  
B) Tiyatro izleyicileri  
C) Tiyatrocu olmanın şartları  
D) Tiyatro ve sinemanın farkı

## 4. SINIF KAZANIM PEKİŞTİRME TESTİ

### MATEMATİK DERSİ

1. 60 cm lik bir ipi 4 yerden eşit bir şekilde kesersek, her bir parçası kaç cm gelir?

A)15 cm                      B) 20 cm  
C)12 cm                      D) 30 cm

2. Bir araç 144 km'lik bir yolun önce 74 000 metresini daha sonra 16 km 'sini gitti.

**Kalan yolu kaç km' dir ?**

A)34                              B) 44  
C)54                              D) 64

3.

4 cm = 40 mm	120 mm = 12 m
3 m = 300 cm	400 m = 4 km
300 mm = 3 cm	7 km = 7000 m

**Yukarıdaki tablodaki dönüşümlerin kaç tane-  
si doğrudur?**

A)2                              B) 3  
C)4                              D) 5

4. Bir terzi elindeki kumaşın önce 1m 10 cm'sini sonra 2 m 15 cm'sini kullandı. Terzinin geriye 300 cm kumaşı kaldığına göre **başlangıçta kaç cm kumaşı vardır?**

A)62 cm                      B) 6 m  
C)625 cm                      D) 600 cm

5. Uzun kenarı 50 m, kısa kenarı uzun kenarın yarısı kadar olan dikdörtgen şeklindeki bir bahçeye havuz yapılacaktır.

**Havuzun çevresi aşağıdakilerden hangisi olamaz?**

A)200 m                      B) 150 m  
C)125 m                      D) 75 m

6. Kare şeklindeki bir masanın çevresi 280 cm'dir. **Buna göre masanın bir kenarının uzunluğu kaç mm'dir?**

A)7 m                              B) 70 cm  
C)700 mm                      D) 7000 mm

7. Çevresi 80 metre olan bir bahçenin kısa kenarı 15 metre ise **uzun kenarı kaç m'dir?**

A)25 m                              B) 30 m  
C)20 m                              D) 35 m

8. Eşkenar bir üçgenin çevresinin uzunluğu 36 cm'dir.


**Aynı uzunluktaki karenin bir kenarının uzunluğu kaç cm'dir?**

A)12 cm                              B) 10 cm  
C)11 cm                              D) 9 cm

9. Aşağıdaki uzunluklardan **en kısa** olanı hangisidir?

A)20 m                              B) 20 cm  
C)20 km                              D) 20 mm

10. Kenar uzunluğu 2 cm olan eş karelerden altı tanesi yan yana getirilerek aşağıdaki gibi bir dikdörtgen elde ediliyor. Elde edilen dikdörtgenin çevre uzunluğu kaç cm'dir?



- A) 38 cm                      B) 28 cm  
C) 32 cm                      D) 34 cm
11. Aşağıdakilerden hangisi karenin özelliklerinden **değildir**?

- A) Dört kenarı vardır.  
B) Dört köşesi vardır.  
C) Kenar uzunlukları birbirine eşittir.  
D) Bütün kenarları birbirine dik değildir.

12. Uzun kenarı 60m kısa kenarı bundan 10 m kısa olan bir dikdörtgenin çevresine 2 sıra tel çekmek için kaç m tel gerekir

- A) 220                      B) 440  
C) 660                      D) 880

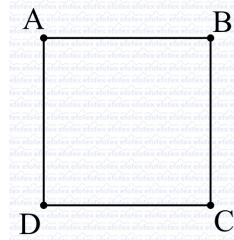
13. Kısa kenarı 5cm çevresi 40 cm olan dikdörtgenin bir uzun kenarı kaç cm dir?

- A) 10 cm                      B) 15 cm  
C) 20 cm                      D) 30 cm

14. Uçurtma ipinin 43 m olmasını isteyen Berkay, elindeki 3300 cm'lik ipe **kaç metre ip eklemelidir**?

- A) 10 m                      B) 20 m  
C) 15 m                      D) 25 m

15. Aşağıdaki karenin doğru adlandırılışı hangisidir?



- A) ABCD karesi                      B) ABDC karesi  
C) BDAC karesi                      D) BACD karesi

## 4. SINIF KAZANIM PEKİŞTİRME TESTİ

### FEN BİLİMLERİ DERSİ

1. Aşağıdakilerden hangisi gürültünün insan sağlığı üzerindeki etkilerinden biri **değildir**?

- A) Duyma kaybına yol açar.
- B) İş verimini düşürür.
- C) Görme duyumuzu engeller.
- D) Dikkat dağınıklığına yol açar.

2. "Murat, geceleyin yıldızları izlemek istemektedir." Bunun için nereden gökyüzüne bakması **daha uygundur**?

- A) Stadyum
- B) Dedesinin köyü
- C) Lunapark
- D) Alışveriş merkezi

3. Aşağıdakilerden hangisi ışık kirliliğinin olumsuz etkilerinden **değildir**?

- A) Deniz kaplumbağalarının yollarını şaşırması
- B) Sokakların aydınlatılarak güvenliğinin sağlanması
- C) Göçmen kuşların göç yollarını şaşırması
- D) Gökyüzünü inceleyen bilim insanlarının işinin zorlaşması

4. Doğru bilgi içeriyorsa D, yanlış bilgi içeriyorsa Y yazınız.

- (...) Yüksek sesli ortamlarda kulaklık takmalıyız.
- (...) Geçmişte kullanılan aydınlatma araçlarının yaydığı ışık, günümüzün aydınlatma araçlarının yaydığı ışıktan daha güçsüzdü.
- (...) Ses kirliliği insan sağlığını olumlu etkiler.
- (...) Günümüzde kullanılan aydınlatma araçları geçmiştekilerden daha kullanışlı, gelecekte kullanılacak olanlarda günümüzdekilerden daha kullanışlı olacaktır.

5. "Ses de ışık gibi kirliliğe neden olur. Bu kirliliğe gürültü denir." Hangi seçenekte bu duruma uygun bir ses kirliliği vardır?

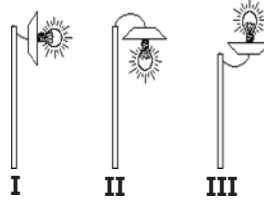
- A) Kısık sesle çalan müzik
- B) Kuş sesi
- C) İş makinesi sesi
- D) Yağmur sesi

6. a-Geçici veya sürekli işitme bozukluğu  
b-Görme bozukluğu  
c- Yorgunluk ve dikkat dağınıklığı

Yukardaki verilenlerden hangileri yüksek sesli teknolojik araçların olumsuz etkilerindedir?

- A) a ve b
- B) a ve c
- C) c ve b
- D) a, b ve c

7.



Yandaki şekilde sokak aydınlatmasında kullanılan ışık kaynakları görülmektedir.

Bunlardan hangisi ya da hangilerinin konumları doğru aydınlatmaya uygundur?

- A) Yanlız II
- B) I ve II
- C) I ve III
- D) Yanlız III

8. "Bu canlılar, yumurtlama alanlarından biri olan ülkemizde ışık kirliliğinden olumsuz etkilenmektedir. Nesli tükenme tehlikesi ile karşı karşıya bulunan bu canlıların ışık kirliliğinden korunmaları konusunda duyarlı olmalıyız."

Yukarıdaki açıklama hangi seçenekteki canlı ile ilgilidir?

- A) Yarasa
- B) Kelebek
- C) Karınca
- D) Caretta Caretta Kaplumbağası

9. Aşağıdaki aydınlatma araçlarının **en yenden en eskiye doğru** sıralanışı hangisidir?



- A) 1-2-3-4-5      B) 2-3-5-4-1  
C) 4-2-3-1-5      D) 4-3-1-5-2

10. I. Alışveriş merkezi  
II. Lunapark  
III. Sınıf  
IV. Stadyum

**Yukarıda verilen bölgeler, ışık kirliliği çok olandan az olana doğru sıralansa en sonda hangisi yer alır?**

- A) I      B) II  
C) III      D) IV

11. Aşağıdaki öğrencilerden hangisi **yanlış** bilgi vermiştir?

Ali : Ses kaynakları da ışık kaynakları gibi kirliliğe sebep olabilir.

Buse : Işık ve ses kirliliği sadece insanlara zarar verir.

Cüneyt : Yüksek şiddetli seslerden korunmak için kulaklık kullanabiliriz.

- A) Ali -Buse      B) Ali  
C) Buse      D) Cüneyt-Buse

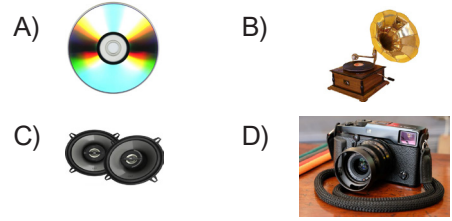
12. Aşağıda verilen ortamlardan hangisinde ses kirliliği **olmaz**?

- A) Stadyum      B) Kütüphane  
C) Fabrika      D) Lunapark

13. Aydınlatma ile ilgili hangisi **yanlıştır**?

- A) Işık kaynakları gereksiz yere kullanılmamalıdır.  
B) Işık kaynaklarının hepsini birlikte kullanabiliriz.  
C) Harekete duyarlı lambalar kullanmalıyız.  
D) Ortama uygun aydınlatma araçları kullanmalıyız.

14. Aşağıdakilerden hangisi ses ile ilgili **değildir**?



15. Kaynağından çıkarak kulağımıza kadar gelen ses nasıl yayılır?

- A) Her yönde yayılır  
B) Bir yönde yayılır.  
C) Yayılmaz.  
D) Doğrusal yayılır.



## 4. SINIF KAZANIM PEKİŞTİRME TESTİ

### SOSYAL BİLGİLER DERSİ

1. Aşağıdaki ifadelerden hangisi doğru değildir?

- A) Her çocuğun iyi bir beslenmeye, eğitim görmeye ve bir aileye ihtiyacı vardır.  
B) 18 yaşına kadar herkes çocuktur.  
C) Çocuklar bir işte çalıştırılarak aile ve ülke ekonomisine katkıda bulunmalıdır.  
D) Dinini, dilini, rengini ve ırkını gözetmeksizin bütün çocuklar aynı haklara sahiptir.

2. Birleşmiş Milletler, Çocuk Hakları Sözleşmesi hangi tarihte kabul edilmiştir?

- A) 23 Nisan 1920  
B) 20 Kasım 1989  
C) 29 Ekim 1923  
D) 19 Mayıs 1919

3.	Çocukların ve haklarının korunmasında birinci sorumlu okuldur.	
	Her çocuğun bir isme ve vatandaşlığa sahip olma hakkı vardır.	
	Engelli çocukların özel olarak korunma ve saygı görme hakkı vardır.	
	Çocuklar anne ve babalarının izni olmadan başka ülkelere gidebilir.	

Yukarıdaki ifadelerden sırasıyla doğru olanlara "D", yanlış olanlara "Y" harfi konulursa aşağıdaki seçeneklerden hangisi gibi olur?

- A) 

D
D
D
D

 B) 

Y
D
D
Y

 C) 

Y
D
Y
Y

 D) 

D
D
Y
D

4. Aşağıdakilerden hangisi eğitsel ve sosyal etkinliklerinin yararlarından değildir?

- A) Kendimize olan güvenimiz artar.  
B) Farklı düşüncelere karşı hoşgörülü olmayı öğretir.  
C) İş birliği, yardımlaşma ve dayanışmayı sağlar.  
D) Tek başımıza başarı kazanmamızı sağlar.

5. Ahmet Necip kitap okumayı, Meryem piyano çalmayı, Said Gazi deney yapmayı, Zeynep karate yapmayı seviyorlar.

Buna göre bu öğrencilerin hangi sosyal kulüplere katılması uygun olur?

	Ahmet Necip	Meryem	Said Gazi	Zeynep
A)	Müzik Kulübü	Bilim – Fen ve Teknoloji Kulübü	Kütüphanecilik Kulübü	Spor Kulübü
B)	Kütüphanecilik Kulübü	Müzik Kulübü	Bilim – Fen ve Teknoloji Kulübü	Spor Kulübü
C)	Spor Kulübü	Kütüphanecilik Kulübü	Müzik Kulübü	Bilim – Fen ve Teknoloji Kulübü
D)	Bilim – Fen ve Teknoloji Kulübü	Müzik Kulübü	Spor Kulübü	Kütüphanecilik Kulübü

6. 15 Temmuz darbe girişimi karşısında halk darbecilere karşı sokağa çıkarak ne yapmak istemiştir?

- A) Dünya barışını sağlamak  
B) Kişisel çıkarlarını korumak  
C) Ülkemizin bağımsızlığını korumak  
D) Uluslar arası ilişkileri korumak

7.

egemenlik	sorumluluk	özgürlük
ayrıcalık	eğitim	sorumsuzca

- Sınırsız ..... yoktur.
- Okul basketbol takımındaki Emirhan'ın hiçbir sebep yokken maça gelmemesi ..... bir davranıştır.
- Bütün çocukların ..... alma hakkı vardır.
- Hakimiyetin eşanlamı ..... tir.
- Hiçbir kişiye, zümreye ve aileye ..... tanınmaz.

Yukarıdaki boşluklar tablodaki kelimeler ile doldurulursa hangi kelime dışta kalır?

- A) egemenlik B) sorumsuzca  
C) sorumluluk D) ayrıcalık

8. Kimsesiz çocukların korunmasında hangi kurum sorumludur?

- A) Türk Eğitim Vakfı
- B) Çocuk Esirgeme Kurumu
- C) Mehmetçik Vakfı
- D) Türk Hava Kurumu

9. I. Eren her gün okula zamanında gider.  
II. Öğretmenini dikkatli dinler ve sınıf araç gereçlerini korur.

III. Sınıfta söz alarak konuşur ve arkadaşlarıyla iyi geçinir.

**Yukarıdaki ifadelerden hangileri Eren'in okuldaki sorumluluklarını yerine getirdiğini kanıtlar?**

- A) Yalnız I
- B) I ve II
- C) II ve III
- D) I, II ve III

10. Aşağıda verilenlerden hangisi sorumlulukla ilgili değildir?

- A) Arkadaşlarımla kavga etmem.
- B) Oyunları istediğim kadar oynarım.
- C) Ailemin izni olmadan hiçbir yere gitmem.
- D) Aileme bazı ev işlerinde yardım ederim.

11. I. Otobüste hamile bayanlara yer veririm.  
II. Yerlere tükürenleri uyarırım.  
III. Dengeli ve düzenli beslenirim.

**Yukarıda verilen ifadelerden hangileri çevremize ve topluma karşı sorumluklarımızdandır?**

- A) I ve III
- B) I ve II
- C) II ve III
- D) I, II ve III

12.



"Doğduğumda annem ve babam adımlı koyup kimliğimi çıkarmışlar."

**Yukarıdaki ifadeye göre Irmak'ın ailesi hangi hakkını kullanmışlardır?**

- A) Eğitim Hakkı
- B) Vatandaşlık Hakkı
- C) Beslenme Hakkı
- D) Oyun Hakkı

13.



I. Eğitim görme hakkım var.  
II. Beslenme ve sıcak bir yuvaya ihtiyacım var.  
III. Seçimlerde oy kullanma hakkım var.

Kubilay

Kubilay ilkokul 4. sınıf öğrencisidir.

**Kubilay'ın söylediklerinden hangileri doğrudur?**

- A) II ve III
- B) I ve III
- C) I ve II
- D) I, II ve III

14. Demokrasi ile yönetilen ülkelerde hangisi olmaz?

- A) Devlet halkın güvenliğini sağlamakla sorumludur.
- B) Devleti yönetenler seçimle iş başına gelirler.
- C) İnsanlar sorunlarını çözmek için bir araya gelerek kamuoyu oluştururlar.
- D) Yöneticilerin görev süresi sınırsızdır.

15.

Uyuşturucu maddeler	Zararlı alışkanlıklar
Alkol	Sigara

Ali Yukarıdakilerle mücadele etmek isteyen 4. sınıf öğrencisi Ali, okuldaki sosyal kulüplerden hangisinin faaliyetine katılmalıdır?

- A) Sivil Savunma Kulübü
- B) Kızılay Kulübü
- C) Yeşilay Kulübü
- D) Tüketiciyi Koruma Kulübü

## 4. SINIF KAZANIM PEKİŞTİRME TESTİ

### İNGİLİZCE DERSİ

A-)

Tall	Young	Dark Hair
Blond	Straight	Fair Hair
Curly	Medium Aged	Slim
Medium Height	Fat	Short
Old	Thin	Medium Weight
Brown Hair	Overweight	Wavy

Yukarıdaki tabloda yazılan kelimeleri aşağıda uygun yerlere yerleştiriniz.

AGE	HAIR	WEIGHT	HEIGHT

B-) **Ceren:** Hi! I'm Ceren. I'm tall and slim. I have black eyes and straight hair. I'm seven years old.

**Tolga:** Hi! I'm Tolga. I'm 47 years old. I'm short and overweight. I have green eyes and curly short hair. I have beard.

Yukarıda verilen bilgilere göre aşağıdaki cümlelerden doğru olanlara "T" (True) yanlış olanlara ise "F" (False) yazınız.

1	Tolga is young.	
2	Ceren has black eyes.	
3	Tolga is fat.	
4	Ceren is thin.	
5	Ceren has straight hair.	
6	Tolga has black beard.	

C-) Aşağıdaki soruları cevaplandırınız.

1. Farklı olanı işaretleyiniz?

- A)Medium Weight    B) Fat  
C)Old    D) Energetic

2. What / look / like / mother / does / your ?

Yukarıda karışık olarak verilen kelimeleri düzgün sıraya koyduğumuzda doğru cümle aşağıdakilerden hangisi olur?

- A)What does mother your look like?  
B)Does what your mother look like?  
C)What does your mother look like?  
D)What your mother does look like?

3. Is your mother young?

- A) Yes, she can.    B) No, I'm not.  
C) Yes, she is.    D) Yes, he is.

## 4. SINIF KAZANIM PEKİŞTİRME TESTİ

### DİN KÜLTÜRÜ VE AHLAK BİLGİSİ DERSİ

1. "Kişinin içinin , dışının , bedeninin,elbiselerinin ve çevresinin her türlü kirden arınmış olmasına" **ne denir?**

A)İslam B) İhsan C) Tevhid D) Temizlik





2. Farsça bir kelime olup anlamı ; "el suyu" manasına gelen ; Namaz kılmak , Kuran okumak , Kabe'yi tavaf etmek gibi ibadetleri yerine getirmek için yapılan temizliğe **ne ad verilir?**

A)Abdest B) Teyemmüm  
C)İhlas D) Namaz

















3. İslam dininde temizlik ikiye ayrılır: Maddi temizlik ve manevi temizlik. Maddi temizlik; İnsanın görünen kirlere arınmasıdır. Manevi temizlik ise ; İnsanın kalbinin , içinin, her türlü kötü duygu ve düşünceler ve davranışlardan uzak durması, güzel ahlaklı olmasıdır.

**Bu açıklamaya göre aşağıdakilerden hangisi maddi temizliğe örnektir?**

A)Yalan söylememek B) Ellerimizi yıkamak  
C)Güvenilir olmak D) İyiliksever olmak

4. Temizlik →  İmanın →   
Yarıdır →  Nokta ( . ) → 

Yandaki şekillerle değerleri verilen peygamberimizin hadisi aşağıdaki doğru ve anlamlı sıralanışı hangisidir?

A)     B)      
C)     D)    

5. **Peygamberimizin (s.a.v.) anne ve babasının ismi hangi seçenekte doğru verilmiştir?**

A)Kasım- Zeyneb  
B)Hamza- Rukiyye  
C)Ebu Talip- Halime  
D)Abdullah – Amine

6. Peygamberimiz gençlik yıllarında ticaretle uğraşmıştı.

**Peygamberimize aşağıdakilerden hangisi ticareti öğretmişti ?**

A)Babası Abdullah B) Arkadaşı Ebubekir  
C)Amcası Ebu Talip D) Dedesi Abdulmuttalip

7. Aşağıdakilerden hangisi peygamberimizin süt annesinin ismidir?

A)Hatice B) Halime C) Amine D) Zeynep

8. Aşağıdakilerden hangisi peygamberimizin çocuklarından birisinin ismi **değildir?**

A)Hamza B) Kasım  
C)Ümmü Gülsüm D) Fatıma

9. Hz. Muhammd (s.a.v.) doğduğu çevrede Allah'ın (c.c) birliğine inanan ve Hz. İbrahimin (a.s.) getirdiği dini ilkeleri benimseyen ve onun öğrettiği din üzere yaşayan kimseler aşağıdakilerden hangisidir?

A)Hristiyanlar B) Müşrikler  
C)Yahudiler D) Hanifler

10. Hz. Muhammed (s.a.v.) çocukluk ve gençlik dönemlerinde güzel ahlakı , dürüstlüğü, güvenilirliği ile tanınmıştı. Mekkeliler ona çok güveniyorlardı. **Bundan dolayı peygamberimize "Güvenilir İnsan " anlamında bir lakap vermişlerdi. Aşağıdakilerden hangisi bu lakabın karşılığıdır?**

A)Tahire B) Ebul - Kasım  
C) El –Emin D) Abdullah

## 4. SINIF 2. SAYI KAZANIM PEKİŞTİRME SORULARI CEVAP ANAHTARI

TÜRKÇE	MATEMATİK	FEN BİLİMLERİ	SOSYAL BİLGİLER	DİN KÜLTÜRÜ VE AHLAK BİLGİSİ	İNGİLİZCE	
1-A	1-C	1-C	1-C	1-D	A GRUBU	
2-B	2-C	2-B	2-B	2-A	AGE	Old-Young-Medium-Aged
3-B	3-B	3-B	3-B	3-B	HAIR	Wavy-Brown-Hair-Blond-Curly-Dark-Hair-Fair-Hair-Straight
4-A	4-C	4-D-D-Y-D	4-D	4-A	WEIGHT	Medium Weight-Fat-Thin-Slim-Overweight
5-C	5-A	5-C	5-B	5-D	HEIGHT	Short-Tall-Medium Height
6-B	6-C	6-B	6-C	6-C	B GRUBU	
7-C	7-A	7-A	7-C	7-B	1	F
8-C	8-D	8-D	8-B	8-A	2	T
9-D	9-D	9-C	9-D	9-D	3	T
10-C	10-B	10-C	10-B	10-C	4	T
11-D	11-D	11-C	11-B		5	T
12-B	12-B	12-B	12-B		6	F
13-D	13-B	13-B	13-C		C GRUBU	
14-B	14-A	14-D	14-D		1	D
15-A	15-A	15-A	15-C		2	C
					3	C