



ADİYAMAN İL MİLLİ EĞİTİM MÜDÜRLÜĞÜ

KAZANIM PEKİŞTİRME ÇALIŞMASI

LIFE FITS INTO HOME

HAYAT EVE SIĞAR



3. SINIF
27 NİSAN 1 MAYIS

2.
SAYI

BU KİTAPÇIKTA

TÜRKÇE	15 SORU
MATEMATİK	15 SORU
FEN BİLİMLERİ	15 SORU
HAYAT BİLGİSİ	15 SORU
İNGİLİZCE	10 SORU

Yer almaktadır.

Not: Cevap anahtarı soruların yayımlandığı günden sonraki pazartesi günü <http://adiyaman.meb.gov.tr/> duyurular sekmesinde açıklanacaktır.

Bu çalışmada yer alan Borsa İstanbul ilkokulu, Cumhuriyet ilkokulu, Mehmetçik ilkokulu, Menderes ilkokulu idareci ve öğretmenlerine teşekkürler...

ADİYAMAN MEM

2020

3. SINIF KAZANIM PEKİŞTİRME TESTİ

TÜRKÇE DERSİ

ATATÜRK

Mustafa altı yaşındayken, annesiyle birlikte bir yakınlarını ziyarete gittikleri bir gün pazar yerinden geçerken aniden kayboldu. Annesi Zübeyde Hanım onu bir kuş satıcısının yanında buldu.

Harçlığından artırdığı azıcık parasıyla, iki kuşu satın alırken gördü. Annesi kuşu ne yapacağını sorunca:
- Onları hürriyetine kavuşturmak için aldım anne, diyor ve,
- Artık hürsünüz. Haydi uçun gidin, diyerek kuşları havaya fırlatıyordu.

O gün minik kuşları hürriyetine kavuşturan küçük Mustafa, yıllar sonra, çok sevdiği Türk milletinin hürriyet mücadelesini verdi ve ön safta savaştı.

1, 2 ve 3. soruları yukarıdaki paragrafa göre çözüünüz.

1. Mustafa nerede kayboldu?

- A) Okulda B) Çarşıda C) Pazarda

2. Annesi Mustafa'yı nerede buldu?

- A) Dondurmacıda B) Kitapçıda C) Kuşçuda

3. Küçük Mustafa yıllar sonra ne yaptı?

- A) Kuşları özgürlüğüne kavuşturdu.
B) Türk milletinin hürriyet mücadelesini verdi
C) Okula gidip eğitim gördü.

4. Teyzesi() Demet()e renkli masal kitapları almış()

Bu cümlede() ile belirtilen yerlere sırasıyla hangi noktalama işareti yazılmalıdır?

- A) (,) (') (.) B) (,) (,) (?) C) (,) (–) (.)




5. Aşağıdaki cümlelerin hangisinde abartı vardır?

- A) Sevgili anneciğim ve babacığım, sizi; dünyalar kadar çok seviyorum.
B) Hep yanımda olmanızı istiyorum.
C) Beni her akşam öpmenizi istiyorum.

6.

matematik	
tırtıl	
öğretmen	

Yukarıdaki yazılışı doğru olan kelimelerin karşısı boyandığında ortaya aşağıdaki şekillerden hangisi çıkar?

- A)  B)  C) 

7. bahçesine - dikti - evimizin - çiçek

1 2 3 4

Yukarıdaki sözcüklerden anlamlı ve kurallı bir cümle oluşturabilmek için nasıl sıralamalıyız?

- A) 4-3-2-1 B) 3-1-4-2 C) 3-2-4-1

8. Hangi yüz ifadesi şaşkındır?

- A)  B)  C) 

9. "Hafta sonu göl kenarında piknik yaptık." diyen biri aşağıdaki yerlerden hangisine gitmiştir?

- A)  B)  C) 

10. HAYAL ÜRÜNÜ OLANLARA (H), GERÇEKLEŞMESİ MÜMKÜN OLANLARA (G) YAZALIM

Annem bugün ayva reçeli yaptı.	
Dedemle ağaçlarla konuşa konuşa eve geldik.	
Serçe güzel şarkılar söyleyerek uçuyordu.	
Aynaya bakınca kendisini dev gibi görüyordu.	
Dünyamızdaki tatlı su kaynakları yavaş yavaş tükeniyor.	
Köprüde balık tutuyorlardı.	
Kırmızı gül çok güzel kokuyordu.	
Rüzgâr ile Güneş yarışmaya başlamışlar.	
Çarşamba günü sinemaya gideceğiz.	
Keloğlan uçan halıya binerek yola çıkmış.	

11. Aşağıdaki kelimelerden hangisinin bulmacada karşıt anlamlısı vardır?

f	a	k	i	r	e
s	ı	c	a	k	v
n	a	z	i	k	l
h	ı	z	l	ı	i

- A)gariban B) süratli C) bekar

12.

arkadaş	mesut
affetmek	göçmek
mutlu	dost
taşınmak	bağışlamak

Yukarıdaki eş anlamlı kelimelerden hangisi yanlış eşleştirilmiştir?

- A) arkadaş-dost
B) affetmek-bağışlamak
C) taşınmak-mesut

13. Hatice Nine köşeye sıkıştığında her defasında "Yavrum ben yaşlı ve ihtiyar biriyim. Bana dokunmayın." der.

Yukarıdaki cümlede olan anlatım bozukluğu nasıl giderilir?

- A) "yaşlı" ve "ihtiyar" kelimelerinden bir tanesi çıkarılarak
B) "dokunmayın" yerine "ellemeyin" yazılarak
C) "der" yerine "söyle" yazılarak

14.

Kim cüret edecek bilmek isterim
Bu vatan bölünmez, inmez bu bayrak.
Her zaman uğruna ölmek isterim,
Bu vatan bölünmez, inmez bu bayrak
Ebedi göklerde dalgalanacak.

Bu şiirde hangisi çıkarılamaz?

- A) Kimse bayrağımızı yerinden indirilemez.
B) Bayrağımız her zaman gökyüzünde dalgalanacaktır
C) Vatanımız ve bayrağımız biz çocuklara emanettir.

15.

- 1-Bir süre demlenmesi beklenir
2-Su kaynayınca çay demlenir
3-Demlenen çay bardaklara konup içilir
4-Çay suyu kaynamaya başlar

Yukarıdaki cümlelerin doğru sıralanışı (oluş sırası) hangisidir?

- A)4-2-1-3 B) 2-4-3-1 C) 1-3-4-2

3. SINIF KAZANIM PEKİŞTİRME TESTİ

MATEMATİK DERSİ

1. Aşağıdakilerden hangisi doğru modeli oluşturur?

- A) Kalem B) Demir yolu C) Cetvel

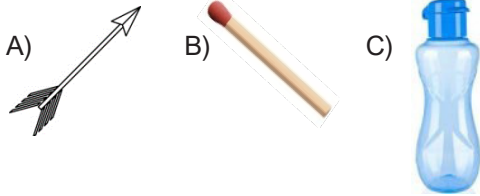
2. Aşağıdakilerden hangisi yanlıştır?

- A) Doğru parçasının başlangıç ve bitiş noktası vardır.
B) Doğrunun başlangıç ve bitiş noktası yoktur.
C) Işınlardan bitiş noktası vardır.

3. Aşağıdaki verilen sözcüklerdeki harflerinin tamamında açığı vardır?

- A) ERİK B) ELEK C) ÇİLEK

4. Aşağıdakilerden hangisi ışın modeline örnektir?



5. Aşağıdakilerden hangisi nokta modeli olamaz?


- A) Kalemde defterde bıraktığı iz
B) Cetvel
C) Su damlası

6. 
Yukarıdaki görseller hangi seçenekte doğru sıralanmıştır?




- | | 1 | 2 | 3 |
|----|-------|------|-------|
| A) | Açı | Işın | Doğru |
| B) | Işın | Açı | Doğru |
| C) | Doğru | Açı | Işın |

7. Yandaki merdivende kaç tane açı vardır?

- A) 20 B) 22 C) 24



8. Aşağıdaki görsellerin hangisiyle açı çizilebilir?

- A)  B)  C) 

9. Aşağıdakilerden hangisi ışın modeli oluşturmaz?



10. Aşağıda verilen harflerin hangisinde en fazla açısı vardır?

A) **H** B) **K** C) **T**

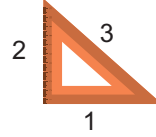
11. Bir noktadan başlayarak sonsuza kadar giden şekle ne denir?

A) Doğru B) Işın C) Doğru parçası

12. Voleybol direkleri için aşağıdakilerden hangisi söylenemez?

- A) Dik doğrulardır.
B) Eğik doğrulardır.
C) İki direk ve ortasında gerili file doğru parçasına model olabilir.

13.




Yukarıdaki şekilde numaralandırılmış doğru parçaları ile ilgili hangisi doğrudur?

- A) 1 numaralı doğru parçası dikey doğru parçasıdır.
B) 2 numaralı doğru parçası yatay doğru parçasıdır.
C) 3 numaralı doğru parçası eğik doğru parçasıdır.

14. Aşağıdakilerden hangisinde eğik doğru parçası yoktur?

A) **M** B) **Z** C) **T**

15. Aşağıdaki geometrik şekillerin hangisinin açısı yoktur?



3. SINIF KAZANIM PEKİŞTİRME TESTİ

FEN BİLGİSİ DERSİ

1. Aşağıdaki ifadelerden hangisi yanlıştır?

- A) Kombi ısınma amaçlı kullanılan elektrikli bir araçtır.
- B) Ütü ısınma amaçlı kullanılan elektrikli araçtır.
- C) Fırın elektrikle çalışan ev araçlarındandır.

2. Aşağıdakilerden hangisi, aydınlanmak için kullanılan elektrikli araçlardan biri değildir?

- A) Ampul
- B) Mum
- C) Lamba

3. Aşağıdaki elektrikli araçlardan hangisi "aydınlanma" amacıyla kullanılır?

- A) Çay makinası
- B) Floresan
- C) Klima

4. Aşağıdaki elektrikli araçlardan hangisi "ısıtma ve soğutma" amacıyla kullanılır?

- A) Klima
- B) Saç kurutma makinası
- C) Şofben

5. Yaşadığımız çevrede elektrikler kesilirse;
I- Isıtıcımız çalışamayacağı için kışın üşürüz.
II- Buzdolabındaki yiyecekler bozulabilir.
III- Karanlık olduğu için akşam ödevlerimizi yapamayız.
Yukarıdaki durumlardan hangileri gerçekleşebilir?

- A) I ve II
- B) II ve III
- C) I, II ve III

6. Aşağıdaki verilen araçlardan hangisi haberleşme amacıyla kullanılmaz?

- A) Bilgisayar
- B) Çamaşır Makinası
- C) Telefon

7. Aşağıda televizyonla ilgili verilen bilgilerden hangisi yanlıştır?

- A) Elektrik ile çalışır.
- B) Haberleşme amaçlı kullanılır.
- C) Isıtma ve soğutma amaçlı kullanılır.

8. Aşağıdaki elektrikli araçlardan hangisinin kullanım amacı yanlış verilmiştir?

- A) Telefon-iletişim
- B) Buzdolabı-aydınlanma
- C) Radyo-haberleşme

9. Aşağıdaki verilen ifadelerden hangisi yanlıştır?

- A) Buzdolabı elektrikle çalışmaktadır.
- B) Elektrikli araç gereçler işlerimizi kolaylaştırır ve zamandan tasarruf sağlar.
- C) Elektriği yalnızca ısınma amacıyla kullanırız.

10. Aşağıdakilerden hangisi elektrikle çalışan araçlara örnek değildir?

- A) Ütü
- B) Doğalgaz sobası
- C) Elektrik sobası

11. Aşağıdakilerden hangisi elektriğin yararlarından biri değildir?

- A) Elektrik zamandan tasarruf sağlar.
- B) Yaşamımızı kolaylaştırır.
- C) Elektrik çok masraflıdır.

12. Aşağıdakilerden hangisi soğutma amacıyla kullanılır?

- A) Şofben
- B) Derin dondurucu
- C) Saç kurutma makinesi

13. Aşağıdaki ifadelerden hangisi doğrudur?

- A) Elektriği sadece aydınlatma alanında kullanırız.
- B) Elektrik insanların hayatını kolaylaştırmıştır.
- C) Elektrikli cihazlarla yaptığımız işlerde daha çok güç harcarız.

14. Aşağıdakilerden hangisi evimizde kullandığımız araç gereçlerden biri değildir?

- A) Çamaşır makinesi
- B) Röntgen cihazı
- C) Ütü

15. Aşağıda verilen elektrikli araçların hangisi hastanede kullanılmaktadır?

- A) El feneri
- B) Ultrason cihazı
- C) Fırın

3. SINIF KAZANIM PEKİŞTİRME TESTİ

HAYAT BİLGİSİ DERSİ

1. Hangisi ortak kullanım alanı değildir?

- A) Oyun parkı B) Ev C) Stadyum

2. Hangisi ortak kullanım alanında uygun bir davranıştır?

- A) Tiyatro salonunda cips yemek
B) Kütüphaneden alınan kitabı zamanında iade etmek
C) Otobüs koltuklarına yazı yazmak

3. **Gamze:** Ödevimi yapmadım, seninkinden bakabilir miyim?

Efe: Ben de yapmadım, dün annemle gezmeye gittik.

Çocukların konuşmaları ile ilgili ne söylenebilir?

- A) Gamze ve Efe sorumluluklarının farkında değildir.
B) Efe ve Gamze iyi arkadaştır.
C) Efe ve Gamze iyi vakit geçirmişler.

4. Mahallemizin daha güzel olması için yapılabilecek davranış hangisidir?

- A) Mahallemizi çiçek dikerek güzelleştirebiliriz.
B) Mahallemizin duvarlarına yazı yazarak güzelleştiririz.
C) Mahallemizden çöp bidonlarını kaldırarak güzelleştiririz.

5. “Ortak kullanım alanlarında dikkatli olmalı, zarar vermemeli ve temiz tutmalıyız.”

Bu kuralların koyulmasının nedeni nedir?

- A) Ortak kullanım alanlarını kimseye kullandırmamalıyız.
B) Ortak kullanım alanlarını eskitmemeliyiz.
C) Ortak kullanım alanları hepimize aittir ve korumalıyız.

6. Aşağıdaki ifadelerden ortak kullanım alanlarıyla ilgili doğru olanlara D, yanlış olanlara Y yazın.

- () Okul tuvaletlerini hizmetliler temizlediği için temiz bırakmamıza gerek yoktur.
() Parklar ortak kullanım alanları olduğu için, park oyuncaklarına zarar vermemeliyiz.
() Okul servisini beklerken, durağın kenarlarına yazılar yazmalıyız.
() Yol kenarındaki trafik levhaları trafiği düzenleyici olduğu için onlara zarar vermemeliyiz.
() Okul bahçesi ortak kullanım alanlarından. Bu nedenle temizliğine dikkat etmeliyiz.

7. Aşağıdaki öğrenci davranışlarından hangisi yanlıştır?

- A) Sıraların üzerinde yürümek
B) Teneffüslerde sınıfı havalandırmak
C) Sınıf tahtasını karalayan arkadaşını uyarmak

8. Aşağıdakilerden hangisi milletimize ait ortak kullanım alanlarımızdan biri değildir?

- A) Stadyumlar B) Camiler C) Evimiz

9. Aşağıdaki verilenlerden hangisi milli birlik ve beraberliğimizi güçlendirmez?

- A) Farklı düşünen insanlara saygı göstermek.
- B) Kendi düşüncelerimizi ikna ederek zorla kabul ettirmek.
- C) Milli bayramlarda aynı duyguları paylaşmak.

10. Aşağıdakilerden hangisi milli bayramlarımızdandır?

- A) Ramazan Bayramı
- B) Kurban Bayramı
- C) 23 Nisan Ulusal Egemenlik ve Çocuk Bayramı

11. Aşağıdakilerden hangisi milli birlik ve beraberliğin yaşandığı özel günlerden değildir?

- A) Milli bayramlar
- B) Dini bayramlar
- C) Doğum günleri

12. Hangisi bir çocuğun sorumluluğunda değildir?

- A) Ders çalışmak
- B) Çevresini temiz tutmak
- C) Aile geçindirmek

13. Hangisi çocukların görev ve sorumluluğundadır?

- A) Yeteneği olan alanda aldığı görevi en iyi yapmak
- B) Okul saatleri dışında işe gitmek
- C) Başkalarını eğlendirmek

14. Aşağıdaki ifadelerden hangisi doğrudur?

- A) Derlerde başarılı olmak için sınavlara çalışmak yeterlidir.
- B) Çocukken edindiğimiz alışkanlıklar büyüdüğümüzde de devam eder.
- C) Çocukların görevleri önemsizdir.

15. Aşağıdakilerden hangisi evdeki sorumluluklarımızdan biri olamaz?

- A) Odamızı temiz ve düzenli tutmak.
- B) Annesi veya babası yardım istediğinde onlara yardım etmek
- C) Yemekleri zamanında ve lezzetli yapmak

3. SINIF KAZANIM PEKİŞTİRME TESTİ

İNGİLİZCE DERSİ

1. How is the weather?



- A) It is sunny.
- B) It is rainy
- C) It is windy

2. How is the weather?



- A) It is cloudy
- B) It is sunny
- C) It is rainy

3. How is the weather?



- A) It is snowy
- B) It is cold
- C) It is rainy

4. How is the weather?



- A) It is rainy
- B) It is hot
- C) It is cloudy

Malatya	Adıyaman	Van
12	30	5

5-6-7. soruları tabloya göre cevaplayınız.

5. How is the weather in Malatya?

- A) It is sunny.
- B) It is snowy.
- C) It is cloudy.

6. is snowy.

- A) Adıyaman
- B) Van
- C) Malatya

7. is sunny.

- A) Adıyaman
- B) Van
- C) Malatya

8. Aşağıdaki eşleştirmelerden hangisi yanlıştır?

- A) Snowy
- B) Rainy
- C) Cold

9. Yusuf Emir : ?

Ömer: It is sunny today.

- A) How can you get to the park ?
- B) How old are you ?
- C) How's the weather today?

10. Farklı olan kelimeyi işaretleyiniz?

- A) train
- B) car
- C) sunny

3. SINIF 2. SAYI KAZANIM PEKİŞTİRME SORULARI CEVAP ANAHTARI

TÜRKÇE		MATEMATİK		FEN BİLGİSİ		HAYAT BİLGİSİ		İNGİLİZCE	
1	C	1	B	1	B	1	B	1	C
2	C	2	C	2	B	2	B	2	C
3	B	3	B	3	B	3	A	3	A
4	A	4	A	4	A	4	A	4	B
5	A	5	B	5	C	5	C	5	C
6	B	6	A	6	B	6	Y-D-Y-D-D	6	B
7	B	7	C	7	C	7	A	7	A
8	B	8	A	8	B	8	C	8	C
9	A	9	B	9	C	9	B	9	C
10	G-H-H-H-G-G-G-H-G-H	10	A	10	B	10	C	10	C
11	C	11	B	11	C	11	C		
12	C	12	B	12	B	12	C		
13	A	13	C	13	B	13	A		
14	C	14	C	14	B	14	B		
15	A	15	A	15	B	15	C		