




ADİYAMAN İL MİLLİ EĞİTİM MÜDÜRLÜĞÜ

KAZANIM PEKİŞTİRME ÇALIŞMASI

LIFE FITS INTO HOME

HAYAT EVE SIĞAR



1. SINIF
27 NİSAN 1 MAYIS

2.
SAYI

BU KİTAPÇIKTA

TÜRKÇE	10 SORU
MATEMATİK	10 SORU
HAYAT BİLGİSİ	10 SORU

Yer almaktadır.

Not: Cevap anahtarı soruların yayımlandığı günden sonraki pazartesi günü <http://adiyaman.meb.gov.tr/> duyurular sekmesinde açıklanacaktır.

Bu çalışmada yer alan Borsa İstanbul ilkokulu, Cumhuriyet ilkokulu, Mehmetçik ilkokulu, Menderes ilkokulu idareci ve öğretmenlerine teşekkürler...

ADİYAMAN MEM

2020

ATATÜRK

Yurdumu düşman sardı.

Yaktılar dört bir yanı.

Şanlı millet yılmadı.

Çünkü Atatürk vardı.

Ulusa önder oldu.

Yaraya merhem oldu.

Düşmana korku oldu.

İyi ki Atatürk vardı.

Gözlerinin mavisi

Bize umut oldu.

Vatanı kurtaran yiğit,

Bir 10 Kasım'da soldu.

Aşağıdaki 1. 2. ve 3. soruları yukarıda verilen şiire göre cevaplayın.

1. Ulusa önder olan kimdir?

A) Öğretmen

B) Atatürk

C) Müdür

2. Kim düşmana korku olmuş?

A) Askerler

B) Polisler

C) Atatürk

3. Atatürk ne zaman ölmüş?

A) 10 Kasım

B) 23 Nisan

C) 19 Mayıs

4. Aşağıdaki kelimelerden hangisi doğru yazılmıştır?

- A) kunpara B) ayakkabı C) pisiklet

5. " Ahmet, saati kurmayı unutmuş. " Cümlesi kaç kelimedenden oluşmuştur?

- A) 2 B) 3 C) 4

6. " Kaldırımında yürüyen insanlar."

Yukarıda verilen açıklama hangi kelimenin anlamıdır?

- A) Araba B) Yaya C) Öğrenci

7. Aşağıdaki kelimelerden hangisi üç hecelidir?

- A) Kelebek B) Fındık C) Yaz

8. "Neşeli" kelimesinin zıt anlamlısı aşağıdakilerden hangisidir?

- A) Zengin B) Kirli C) Üzgün

9. ayakkabılarımı tamir ettirdim.

Yukarıdaki boşluğa hangi kelimenin getirilmesi uygun olur?

- A) Tembel B) Eski C) Kısa

10." Annem pazardan elma aldı () "

Cümlesinin sonuna hangi noktalama işareti getirilmelidir?

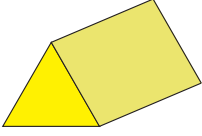
- A) (!) Ünlem işareti B) (.) Nokta C) (?) Soru işareti

1. SINIF KONU KAZANIM PEKİŞTİRME TESTİ

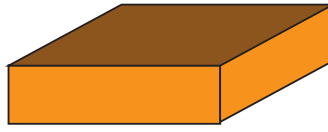
MATEMATİK

1. Aşağıdaki şekillerden hangisinin tüm yüzleri karedir?

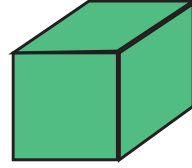
A)



B)

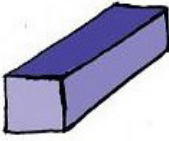


C)

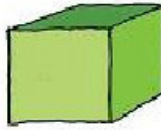


2. Aşağıdaki şekillerden hangisinin köşesi ve kenarı yoktur?

A)



B)




C)



3. Aşağıdaki şekillerden hangisinin üçgen yüzü vardır?

A)



B)



C)



4.



Aşağıdakilerden hangisi yandaki cisme örnektir?

A) Kitabın kapağı

B) Soba borusu

C) Bayrak direği

5. Aşağıdaki ifadelerden hangisi doğrudur?

- A) Bayrak direğinin kare şeklinde yüzü vardır.
- B) Çemberin bir kenarı ve bir köşesi vardır.
- C) Kare ve dikdörtgen dört köşelidir.

6.  Aşağıdaki seçeneklerden hangisi verilen cisme örnek olamaz?

- A) Ayakkabı kutusu
- B) Kibrit kutusu
- C) Lamba

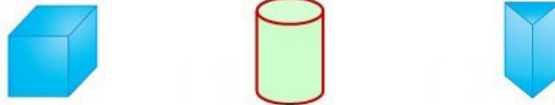
7. Aşağıdaki geometrik cisimlerden hangisini kullanarak çember çizemeyiz?

- A) 
- B) 
- C) 

8.  Yandaki izci çadırının boyalı yüzü aşağıdakilerden hangisidir?

- A) Dikdörtgen
- B) Kare
- C) Üçgen

9.



Yukarıdaki geometrik cisimler günlük hayatta kullandığımız eşyalardan hangilerine sırayla örnektir?

- A) Kibrit kutusu, oda spreyi, televizyon
- B) Akıl küpü, futbol topu, yanardağ
- C) Akıl küpü, soba borusu, çadır

10. Aşağıdaki şekillerden hangisi en az sayıda köşeye sahiptir?

- A) 
- B) 
- C) 

1. Türkiye'nin başkenti neresidir?

- A) İstanbul
- B) Ankara
- C) İzmir

2. Milli Marşı'mız aşağıdakilerden hangisidir?

- A) İzmir Marşı
- B) Türk Marşı
- C) İstiklal Marşı

3. İstiklal Marşı'mızın şairi kimdir?

- A) Mustafa Kemal Atatürk
- B) Ali Rıza Bey
- C) Mehmet Akif Ersoy

4. Bayrağımızın özellikleri hangi seçenekte doğru verilmiştir?

- A) Beyaz zemin üzerine kırmızı renkte ay ve yıldız
- B) Kırmızı zemin üzerine beyaz renkte ay ve yıldız
- C) Kırmızı zemin üzerinde ters beyaz ay

5. 30 Ağustos Zafer Bayramı'nı niçin kutlarız?

- A) Kurtuluş Savaşı başladığı için
- B) Düşmanları yurdumuzdan kovduğumuz için
- C) Cumhuriyet ilan edildiği için

6. Aşağıdaki ifadeler doğru ise cümlenin önüne (D), yanlış ise cümlenin önüne (Y) koyunuz.

1-(...) Devletimizin adı Türkiye Cumhuriyeti'dir.

2-(...) Türkiye Cumhuriyeti'ni kral yönetir.

3-(...) İstiklal Marşı'mız ve bayrağımız bağımsızlığımızın sembolüdür.

4-(...) Ülkemizin başkenti Konya'dır.

7. Aşağıdaki ifadeleri doğru olan seçeneklerle eşleştiriniz.

Ülkemizin Adı

1

A

Bağımsızlığımızın Sembolü

Milli Marşımız

2

B

Ankara

Bayrağımız

3

C

Türkiye Cumhuriyeti Devleti

Başkentimiz

4

D

İstiklal Marşı

8. Milli bayram kutlamaları ne ile başlar?

A) Duyuru yapılması ile

B) Siren sesi ile

C) Saygı duruşu ve İstiklal Marşı ile

9. Aşağıdakilerden hangisi tarihi özellik taşır?

A) Marmara Denizi

B) Nemrut Dağı

C) Bursa Uludağ

10. Anıtkabir hangi ilimizdedir?

A) İstanbul

B) Selanik

C) Ankara

1.SINIF 2. SAYIKAZANIM **PEKİŐTİRME** SORULARI CEVAP
ANAHTARI

TÜRKÇE		MATEMATİK		HAYAT BİLGİSİ	
1	B	1	C	1	B
2	C	2	C	2	C
3	A	3	B	3	C
4	B	4	B	4	B
5	C	5	C	5	B
6	B	6	C	6	1-D, 2-Y, 3-D, 4-Y
7	A	7	B	7	1-C, 2-D,3-A, 4-B
8	C	8	A	8	C
9	B	9	C	9	B
10	B	10	C	10	C