

ADİYAMAN İL MİLLİ EĞİTİM MÜDÜRLÜĞÜ

KAZANIM PEKİŞTİRME ÇALIŞMASI



3. SINIF
20-24 NİSAN

BU KİTAPÇIKTA

TÜRKÇE	15 SORU
MATEMATİK	15 SORU
FEN BİLİMLERİ	15 SORU
HAYAT BİLGİSİ	15 SORU
İNGİLİZCE	10 SORU

Yer almaktadır.

3. SINIF KONU KAZANIM TESTİ

TÜRKÇE DERSİ

1, 2 ve 3. soruları aşağıdaki şiire göre cevaplayınız.

SAĞLIKLI BESLENME
Öğretmenim anlattı,
Her gün farklı yemeyi.
Tatlı, tuzlu demeden,
Her gıdadan yemeyi.
Ispanak demir yaparmış,
Havuçla beslenirmiş gözlerim.
Eğer süt içmezsem,
Kısa kalırmış kemiklerim.

1. Şiire göre öğretmen hangisini söylememiştir?

- A) Tatlı, tuzlu demeden her gıdadan yemeyi.
B) Sağlıklı olmak için spor yapmamız gerektiğini.
C) Süt içmezsek kemiklerimizin kısa kalacağını.

2. Şiire göre aşağıdakilerden hangisi tüketmemiz gereken besinlerden biridir?

- A) Pizza
B) Ispanak
C) Hamburger

3. Şiire göre çocuk ne yapmazsa kemikleri kısa kalırmış?

- A) Eğer süt içmezse
B) Havuç yemezse
C) Ispanak tüketmezse

4. Aşağıdaki cümlelerden hangisinin sonuna soru işareti getirilemez?

- A) Adıyaman Devlet Hastanesi yeni binasına taşındı mı ()
B) Bahçede beyaz mı beyaz bir kedi var ()
C) Bu hastalık ne zaman bitecek ()

5. Aşağıdaki kelimelerden hangisi yabancı dillerden dilimize girmiş bir kelime değildir?

- A) Online B) Yazıcı C) Printer

Büyük harflerin kullanımı	D	Y
Babam bugün Kemallere gideceğimizi söyledi.		
Borsa İstanbul ilkokulu 3. sınıf öğrencisiyim.		
Arkadaşım Zeynep Karapınar mahallesinde oturuyor.		
Bu yıl 23 Nisan'da bayramı evde karşılayacağız.		

Yukarıdaki tabloda büyük harflerin doğru kullanıldığı cümleler için "D", yanlış kullanıldığı cümleler için "Y" yazılacaktır.

Buna göre büyük harflerin kullanımı ile ilgili hangi seçenek doğru olarak verilmiştir?

A)	D		B)	D		C)	D	
		Y		D				Y
	D				Y			Y
		Y			Y		D	

7. "Boş" kelimesi aşağıdaki cümlelerin hangisinde "bir işe yaramayan, yararsız" anlamında kullanılmıştır?

- A) Sabah boş zamanım olursa seni ararım.
B) Boş işlerle uğraşıp vakit harcamamalıyım.
C) Salondaki boş bardakları mutfağa bıraktım.

8. "Ağır" sözcüğü aşağıdaki cümlelerin hangisinde farklı bir anlamda kullanılmıştır?

- A) Çantam çok ağır taşımakta zorlanıyorum.
B) Bu yemek çok ağır kokuyor, yemem mümkün değil.
C) Utku'nun taşıdığı paketler çok ağırdı.

9.



Yukarıdaki görselin konusu nedir?

- A) Kitap okumanın faydaları.
B) Müzik dinlemenin önemi.
C) Kitaplarımızı özenli kullanmalıyız.

10. Ormanın en büyük hayvanlarından olan filin büyük bir korkusu vardı. Koskoca fil, fareden korkuyordu. Bunu herkesten saklıyordu. Güneşli bir havada ormanda yürürken karşısına minik fare çıktı. Fil korkuyla bağırırmaya başladı. Minik fare, filin bu bağırışına bir anlam veremedi. Fare, fili sakinleştirerek ne olduğunu sordu. Fil herkesten sakladığı korkusunu söyleyiverdi. Fare, filin korkularının üzerine gitmesi gerektiğini ve aslında korkulacak hiç bir şey olmadığını söyledi. Uzun bir sohbetten sonra fil, fareden korkmak bir yana onu sevmeye başladı. Sonunda fil ve fare iyi birer dost oldular.

Yukarıdaki metinde aşağıdaki hikaye unsurlarından hangisi yoktur?

- A) Yer B) Olay C) Zaman

11. Barışların Eskişehir’de en sevdiği semt Vişnelik’ti. Küçük bir kedileri vardı, adı Dikkuyruk... Akşamları Porsuk Çayı kenarına giderlerdi. Oradan istasyon Parkı’na...

Bir gün parkta Almanya’dan gelen işçi çocuklarına rastladılar. Birinin elinde

“Küçükler ve Büyükle” adlı bir kitap vardı. Severek okuduğunu söylüyordu. İyi eğitilmiş bir çocuğu Ahmet. Almanya’da İngilizce de öğreniyormuş. Ahmet, birkaç karşılaşmadan sonra neler neler anlatmıştı onlara. Sonra bir gün Almanya’ya çağırıldı içtenlikle. “Size Almanya’nın en güzel yerlerini gezdiririz babamla.” demişti.

Aradan epey bir zaman geçmişti. Bir gün Barış’a üzerinde yabancı pulu olan bir paket geldi. Ahmet’ten geliyordu. İçinden güzel bir resimli kitapla bir mektup çıktı.

Metinde anlatılan olay nedir?

- A) Almanya’da yaşayan bir çocuğun Eskişehir’e taşınması.
B) Almanya’dan gelen bir çocuğun parkta arkadaşlarıyla oyun oynaması.
C) Eskişehir’de yaşayan bir çocuğun Almanya’dan gelen bir çocukla arkadaşlığı.

12. Aşağıdaki cümlelerin hangisinde yabancı dillerden alınmış bir kelime kullanılmamıştır?

- A) Ali yarışmada bitiş noktasına ulaşamadı.
B) Babam bana yeni bir laptop aldı.
C) Ablam bu hafta full time çalışacak.

13. Unutmuşum ana demesini bile
Öykülmüşüm türküsünü ellerin
Ağzına bir kara düşmüş, başışla beni
Türkçem, benim ses bayrağım.

Fazıl Hüsni Dağlarca

Yukarıdaki şiirin konusu aşağıdakilerden hangisidir?

- A) Anne sevgisi
B) Bayrak sevgisi
C) Türkçe’nin önemi

14.



Yukarıdaki işaretlerin anlamları sırasıyla hangisidir?


- A) Okul Geçidi - Geri Döndürülemez - Genel İzleyici -Havaalanı
B) Okul Geçidi -Geri Dönüşüm -Genel İzleyici -Hastane
C) Yaya Geçidi - Geri Dönüşüm -7 Yaş ve Üstü-Hastane

15. Aşağıdaki görsellerden hangisinin konusu diğerlerinden farklıdır?

A)



B)



C)



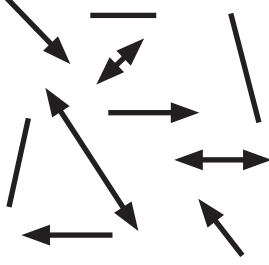
3. SINIF KONU KAZANIM TESTİ

MATEMATİK DERSİ

1. Aşağıdaki çizgi modellerinden hangisi ışını ifade eder?

- A) 
- B) 
- C) 

2.






Yandaki modelde kaç tane doğru parçası vardır?

- A) 4
B) 3
C) 2

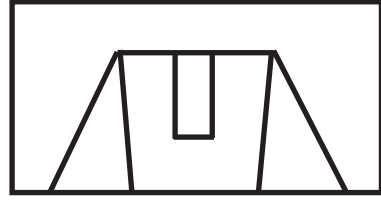
3. Bir noktadan kaç tane doğru geçer?

- A) 1
B) 8
C) Sonsuz

4. Aşağıda verilen şekillerden hangisinde paralel doğrulara örnek yoktur?

- A) 
- B) 
- C) 

5.



Yukarıdaki salıncak modelinde kaç tane eğik doğru modeli vardır?

- A) 4 B) 3 C) 2

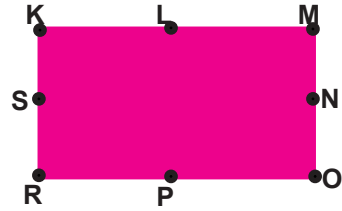
6. Aşağıdaki sayılardan hangisinin tüm rakamları simetrik olarak ayrılabilir?

- A) 305 B) 408 C) 308

7. Aşağıdaki seçeneklerden hangisinde verilen tüm harfler simetrikdir?

- A) Ö, V, R, E
B) A, C, D, P
C) M, H, O, T

8.



Yanda verilen dikdörtgende hangi noktardan geçecek olan doğrular, şeklin simetri doğrularını oluştururlar?

- A) SN ve LP noktaları
B) RM ve KO noktaları
C) LP ve RM noktaları

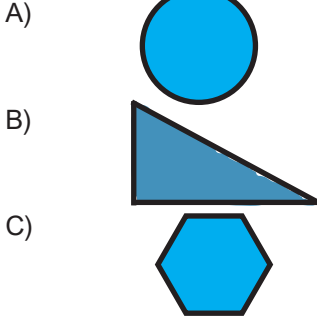
9.

YAT

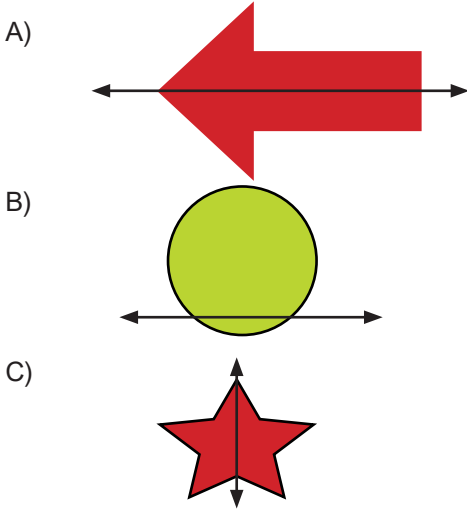
Yanda verilen kelimenin simetriği aşağıdakilerden hangisidir?

- A) **YAT** B) **YTA** C) **TAY**


10. Aşağıdaki şekillerden hangisinin simetri doğrusu çizilemez?



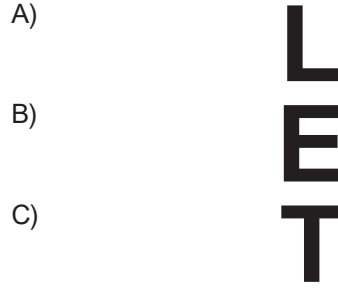
11. Aşağıdaki şekillerden hangisinin simetri doğrusu yanlış çizilmiştir?



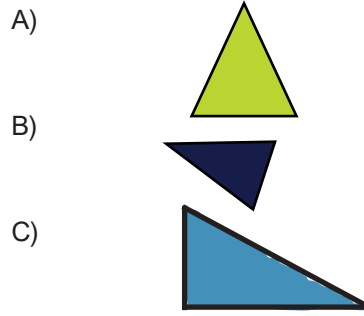
12. Aşağıdaki nesnelere hangisinin açısı yoktur?



13. Aşağıdaki harflerin hangisinde daha fazla açı modeli vardır?



14. Aşağıdaki üçgenlerin hangisinde dik açı vardır?



15. *Ölçüsü 90 derece olan açılara..... açı denir.
*Ölçüsü dik açıdan büyük olan açılara açı denir.
*Ölçüsü 90 dereceden küçük olan açılara açı denir.

Yukarıdaki boşluklara sırasıyla hangi kelimeler getirilmelidir?

- A) dik, geniş, dar
B) dar, dik, geniş
C) geniş, dik, dar

3. SINIF KONU KAZANIM TESTİ

İNGİLİZCE DERSİ

1. Transportation

- *Plane
- *Car
- *Garage
- *Ship

Yukarıdakilerden hangisi transportation ile ilgili değildir?

- A) Plane
- B) Garage
- C) Ship

2. Aşağıdaki soru cevap eşleştirmelerinden hangisi yanlıştır?

- A) -How can I get to İstanbul?
-I'm fine.
- B) -Where is your father?
-He is at the museum.
- C) -Where is the car?
-It is over there

3. How do you go to school?

- A) I go to school by plane.
- B) I go to school by helicopter.
- C) I go to school on foot.

In the air	On the sea
•Helicopter	*
•.....	* Boat

Hangisi tabloyu tamamlar?

- A) • Car-*Bus
- B) • Plane-*Ship
- C) • Plane-*Motorbike

5. E-L-Y-C-C-B-I

Karışık halde verilen kelimenin doğru yazılışı aşağıdakilerden hangisidir?

- A) BICCLEY
- B) BICYCLE
- C) BICYLEC

6.



What is this?

- A) A helicopter
- B) A plane
- C) A train

7.



Where is the ship?

- A) It is on the sea.
- B) It is on the air.
- C) It is on the road.

8.



Resimlerle eşleşmeyen ifade aşağıdakilerden hangisidir?

- A) Plane
- B) Car
- C) Bike

9. "How can I go to Ankara?" sorusunun cevabı aşağıdakilerden hangisi olamaz?

- A) By plane
- B) By car
- C) By ship

10. Ali: is the train?

Ela:It is over there.

Diyaloğu tamamlayan ifade aşağıdakilerden hangisidir?

- A) When
- B) Where
- C) How

3. SINIF KONU KAZANIM TESTİ

HAYAT BİLGİSİ DERSİ

1. Herkes ulusal görevini ve sorumluluğunu bilmeli, memleket meseleleri üzerinde o düşünceyle, düşünüp çalışmayı görev edinmelidir?

Bu Atatürk'ün hangi kişisel özelliği ile ilgilidir?

- A) Vatan ve Millet Sevgisi
B) Sanat Severliği
C) İleri Görüşlülüğü

2. Aşağıdaki cümleleri verilen sözcüklerden uygun olan ile tamamlayalım.

sabırlı – iyi bir asker – vatanını

- I.** Atatürk,güçlü bir komutandı.
II. Atatürk, yaptığı işe inanan, ve mücadelecisi bir liderdi.
III. Atatürk, ve milletini seven bir liderdi

3. Aşağıdakilerden hangisi Atatürk'ün kişisel özelliğidir?

- A) Zeki – çağdaş – mavi gözlü
B) Yenilikçi – çalışkan – sarı saçlı
C) Cesaretli – disiplinli – sabırlı

4. Aşağıdakilerin hangisi yanlıştır?

- A) Atatürk sabırlı ve disiplinliydi.
B) Atatürk 29 Ekim'i çocuklara armağan etti.
C) Atatürk sanata çok önem verirdi.

5. Aşağıdakilerden hangisi Atatürk'ün kişisel özelliği değildir?

- A) İleri görüşlü bir liderdi.
B) Vatan ve miller sevgisi olan bir liderdi.
C) Yaptığı işten sıkılır ise yarım bırakan bir liderdi.

6. **I.** Zorluklar ile mücadele etmiştir.
II. Plansız iş yapmazdı.
III. Kararlarını çabuk değiştirirdi.

Yukarıdaki ifadelerden hangisi doğru değildir?

- A) III
B) I
C) II

7. Atatürk 19 Mayıs' ta Kurtuluş Savaşı'nı başlatmış zafere kadar hiç durmamıştır.

Atatürk'ün bu yaptığı onun hangi kişilik özelliği ile doğrudan ilgilidir?

- A) Eğitime önem vermesiyle
B) Çocukları çok sevmesiyle
C) Azimli olmasıyla

8. "Çanakkale savaşı esnasında düşman donanmasının nereden çıkarma yapacağını önceden sezip gerekli olan tedbiri alması içinde savaşın sonucunu değişmesini sağladı."

Yukarıdaki ifade Atatürk'ün hangi kişisel özelliğini belirtmektedir?

- A) Akıl ve bilimden yana olması.
B) İleri görüşlülüğünü.
C) Açık sözlülüğü.

9. I. Atatürk kazandığı zaferlerden hava atmayı severdi.

II. Atatürk gerçeğe akıl ve bilim yoluyla ulaşılacağına inanırdı.

III. Atatürk, gerçekleri millete açıkça ifade etmekten çekinmezdi.

Yukarıdaki ifadelerden hangileri doğrudur?

A) I – II – III

B) I – II

C) II – III

10. Aşağıdaki ifadelerden doğru olanların başına (D) yanlış olanların başına (Y) yazınız.

(...) Atatürk, eğitim ve öğretime çok önem vermiştir.

(...) Atatürk, iyi bir yönetici ve devlet adamıdır.

(...) Atatürk, sanatçılara önem vermezdi.

(...) Atatürk, hiç düşünmeden karar veren bir liderdi.

(...) Atatürk, olayların gelişmesinden sonucunun ne olabileceğini kestirebilirdi.

11. 1 Hırslı

2 Çok Yönlü

3 Vatan Sever

4 Yenilikçi

5 Bencil

6 Savaşçı

Yukarıdaki özelliklerden hangileri Atatürk'ün kişilik özelliklerinden değildir?

A) 3,4,6

B) 1,5,6

C) 2,3,4

12. “Başarı, başlayacağım diye başlayanın ve başardım diyebilenindir.”

Yukarıdaki ifadede Atatürk'ün hangi kişisel özelliği anlatılmaktadır?

A) Kararlılığı

B) Doğa sevgisi

C) İyi kalpliliği

13. Aşağıdaki bilgilerden hangisi Atatürk ile ilgili yanlış bir bilgidir?

A) Hayatı boyunca rahatlık içinde yaşamıştır.

B) Güçlükler karşısında yılmadan çalışmıştır.

C) Kendini her zaman ulusuna adamıştır.

14. Atatürk'ün kişisel özelliklerinden birisi de yenilikçi olmasıdır.

Aşağıdakilerden hangisi bu özelliğini gösteren bir örnektir?

A) Atatürk çocukları çok severdi.

B) Sabırlı ve disiplinli bir liderdi.

C) Kılık ve kıyafet gibi birçok alanda değişiklikler yapmıştır.

15. Atatürk'ün hangi özelliği sayesinde Kurtuluş Savaşı kazanılmış ve Türkiye Cumhuriyeti kurulmuştur?

A) Sabırlı olması

B) Lider olması

C) Sanatsever olması

3. SINIF KONU KAZANIM TESTİ

FEN BİLGİSİ DERSİ

1. Aşağıda verilen bilgilerden hangisi yanlıştır?

- A) Canlı varlıklar kendiliğinden hareket eder, cansız varlıklar hareket etmezler.
B) Canlı ve cansız varlıklar soluk alıp verirler.
C) Canlı varlıkların enerjiye ihtiyaçları vardır. Cansız varlıklar enerjiye ihtiyaç duymazlar.

2. Aşağıdaki verilenlerden hangisinde bulunan varlıkların tamamı canlı varlıklardan oluşmuştur?

- A) Kedi, köpek, koyun, kek
B) Ağaç, araba, at, ayı
C) Çiçek, çimen, çam, çekirge

3. Aşağıdakilerden hangisi canlıların özelliklerinden biri olamaz?

- A) Kendi kendilerine hareket edebilirler.
B) Çoğalıp üreyemezler.
C) Besin ve enerjiye ihtiyaçları vardır.

4. Canlıların vücutlarındaki zararlı maddeleri dışarı atmalarına ne denir?

- A) Boşaltım
B) Sindirim
C) Beslenme

5. Ayçiçeği Güneş'e doğru yönelir. Yukarıdaki cümle hangisine örnektir?

- A) Canlı varlıklar boşaltım yapar.
B) Canlı varlıklar hareket eder.
C) Canlı varlıklar solunum yapar.

6. Eli ile çok sıcak suya dokunan bir insan irkilerek hemen elini çeker.

Bu olay bitkilerin aşağıdaki özelliklerinden hangisi ile benzerlik gösterir?

- A) Kökleriyle toprağa bağlı olma
B) Yapraklarıyla kendi besinini kendi yapma
C) Çiçek ve yapraklarıyla güneşe yönelme

7. Aşağıdaki ifadelerden hangisi yanlıştır?

- A) Canlı varlıklar büyür ve gelişir.
B) Toprak, su ve hava cansız varlıktır.
C) Toprakta canlılar yaşadığı için toprak da canlıdır.

8. Aşağıda verilen elektrikli araçların hangisinin kullanım amacı yanlış verilmiştir?

- A) Telefon → Soğutma
B) Tost makinası → Isıtma
C) Radyo → Haberleşme

9. Aşağıdaki elektrikli araçların hangisi "soğutma" amacıyla kullanılır?

- A) Buzdolabı
B) Cep telefonu
C) Fırın

10. Aşağıda verilen eşleştirmelerden hangisi yanlıştır?

- A)Klima → Isınma - Soğuma
 B)Projeksiyon → Eğitim
 C)Bulaşık makinesi → Haberleşme

11. Aşağıdakilerden hangisi elektrikli ev araç gereçlerinden değildir?

- A)Fırın
 B)Bulaşık makinesi
 C)Akıllı tahta

12. Aşağıdakilerden hangisi mutfakta kullanılan elektrikli araç gereçlerdendir?

A) Fırın



B) Saç kurutma makinesi



C) Ütü



13. I – Ampul – aydınlatma
 II – Fırın – ısıtma
 III – Televizyon – haberleşme

Yukarıdaki elektrikli araçların hangilerinin kullanım amaçları doğru verilmiştir?

- A) I, II ve III
 B) I ve II
 C) II ve III

14. Aşağıdakilerden hangisi hem ses, hem görüntü hem de haberleşme amacıyla kullanılan elektrikli araçtır?

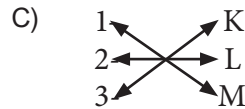
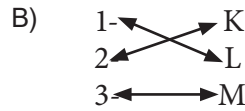
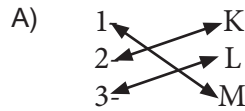
- A) Hoparlör
 B) Televizyon
 C) Müzik seti

15.

1-Florasan lamba
 2-Bulaşık makinesi
 3-Elektrikli soba

K- Isınma
 L- Temizlik
 M- Aydınlanma

Yukarıdaki elektrikli araçlar ve kullanım alanları eşleştirildiğinde aşağıdaki şekillerden hangisi oluşur?



3. SINIF 20-24 NİSAN KAZANIM PEKİŞTİRME ÇALIŞMASI CEVAP ANAHTARI

Türkçe	Matematik	İngilizce	Hayat Bilgisi	Fen B.
1.B	1. C	1.B	1. A	1.B
2.B	2. B	2.A		2.C
3.A	3. C	3.C	2. I- iyi bir asker	3.B
4.B	4. B	4.B	II- sabırlı	4.A
5.B	5. A	5.B	III- vatanını	5.B
6.C	6. C	6.A		6.C
7.B	7. C	7A	3. C	7.C
8.B	8. A	8.C	4. B	8.A
9.A	9. C	9.C	5. C	9.A
10.C	10.B	10.B	6. A	10.C
11.C	11.B		7. C	11.C
12.A	12.A		8. B	12.A
13.C	13.B		9. C	13.A
14.B	14.C		10. (D)	14.B
15.C	15.A		(D)	15.C
			(Y)	
			(Y)	
			(D)	
			11. B	
			12. A	
			13. A	
			14. C	
			15. B	