

ADİYAMAN İL MİLLİ EĞİTİM MÜDÜRLÜĞÜ

KAZANIM PEKİŞTİRME ÇALIŞMASI



1. SINIF
20-24 NİSAN

BU KİTAPÇIKTA

TÜRKÇE 10 SORU

MATEMATİK 10 SORU

HAYAT BİLGİSİ 9 SORU

Yer almaktadır.

Bu çalışmada yer alan Borsa İstanbul İlkokulu, Cumhuriyet İlkokulu, Mehmetçik İlkokulu, Menderes İlkokulu idareci ve öğretmenlerine teşekkürler..

**ADİYAMAN MEM
2020**

DÜNYA ÇOCUK BAYRAMI

Kiminin saçı siyah,
Kiminin saçı sarı...
Ankara'da buluştu,
Dünyanın çocukları.

Bu kocaman dünyada
Ülke sayısı çoktur.
Oysa ki hiç birinin
Çocuk bayramı yoktur.

Her Yirmi Üç Nisan'da
Tekrarlanır bu olay.
Buluşma nedenini,
Açıklamak çok kolay.

Türkiye konuklarla,
Kalpler sevgiyle dolsun.
Dünya Çocuk Bayramı
Herkesine mutlu olsun!

Altan ÖZYÜREK

Aşağıdaki 1, 2 ve 3 soruyu yukarıda verilen şiire göre cevaplayalım.

1. Dünya çocukları hangi bayramı kutluyor?

- A) 23 Nisan Ulusal Egemenlik ve Çocuk Bayramı
- B) 29 Ekim Cumhuriyet Bayramı
- C) 19 Mayıs Gençlik ve Spor Bayramı

2. Türkiye'ye konuk gelenler kimlerdir?

- A) Türk çocukları
- B) Yabancı çocuklar
- C) Dünya çocukları

3. Dünya Çocuk Bayramı ne zaman tekrarlanır?

- A) 23 Mart'ta
- B) 23 Nisan'da
- C) 23 Mayıs'ta

4. bana/ top/ aldı/ sarı/ Babam **cümlesi kurallı hale getirilirse baştan üçüncü kelime hangisi olur?**

A) Babam

B) Sarı

C) Top

5.



Yukarıdaki görseli ifade eden zıt anlamlı kelimeler hangi şıkta doğru verilmiştir?

A) Eski-Yeni

B) Zayıf-Şişman

C) Yaşlı-Genç

6. Sayfayı defterden ile ayırdım.

Yukarıdaki boşluğa hangi cümle yazılamaz?

A) Makas

B) Bıçak

C) Kopararak

7. Ali eve geldi mi

Cümlesinin sonuna hangi noktalama işareti getirilir?

A) (!) ünlem işareti

B) (.) nokta

C) (?) soru işareti

8. 'İstenen veya hoşla giden bir şeyin olmasıyla duyulan mutluluk.'

Bu açıklama aşağıdaki hangi kelimenin anlamıdır?

A) Üzüntülü

B) Sevinçli

C) Heyecanlı

9. 1- defter

2- kitab

3- silgi

Hangi numaralı kelime doğru yazılmıştır?

A) 3

B) 2

C) 1

10. Aşağıdaki kelimelerden hangisi hecelerine doğru ayrılmıştır?

A) A-ta-türk

B) Sel-an-ik

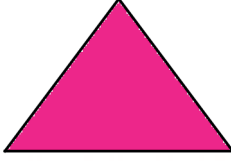
C) Ad- ıya-man

1. SINIF KONU KAZANIM TESTİ

MATEMATİK

1. Bir geometrik şeklin dört kenarı varsa aşağıdakilerden hangisi bu şekil olamaz?

A)



Üçgen

B)



Kare

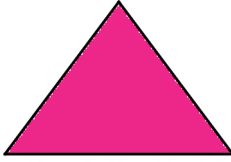
C)



Dikdörtgen

2.  Yandaki üç kibrit çöpünü kullanarak aşağıdaki geometrik şekillerden hangisini oluşturabiliriz?

A)



Üçgen

B)



Kare

C)



Dikdörtgen

3. Aşağıdaki şekillerden hangisinin kenar sayısı diğerlerinden farklıdır?

A)



B)



C)



4.  Yandaki resim çerçevesi aşağıdaki hangi geometrik şekle benzemektedir?

A) Üçgen

B) Kare

C) Dikdörtgen

5. Aşağıdaki nesnelere hangisinin bir yüzünü mavi boyaya batırıp beyaz yüzeye koyarsak kare olur?

A)



B)



C)



6. Aşağıdakilerden hangisinin daireye benzeyen yüzü vardır?

A)



B)



C)



7. Aşağıdakilerden hangisinin köşe sayısı diğer ikisinin köşe sayısından farklıdır?


A)



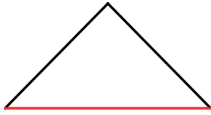
B)



C)



8. Yukarıdaki geometrik şekil üzerindeki kırmızı işaretli kısmın adı nedir?



A) Köşe

B) Açı

C) Kenar

9. Yukarıdaki geometrik şekil üzerindeki kırmızı işaretli kısmın adı nedir?



A) Açı

B) Köşe

C) Kenar

10. hangi geometrik şekle benzemektedir?



A) Çember

B) Dikdörtgen

C) Üçgen

1. SINIF KONU KAZANIM TESTİ

HAYAT BİLGİSİ

1. 23 Nisan'daBayramı'nı kutlarız.
Yukarıdaki noktalı yere aşağıdakilerden hangisi yazılmalıdır?

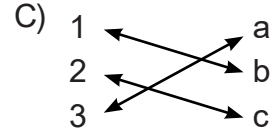
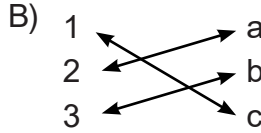
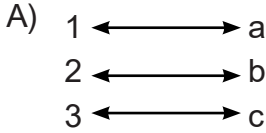
- A) Cumhuriyet Bayramı
- B) Atatürk'ü Anma ve Gençlik Spor Bayramı
- C) Ulusal Egemenlik ve Çocuk Bayramı

2. 23 Nisan Ulusal Egemenlik ve Çocuk Bayramı'nda aşağıdakilerden hangisi **yapılmaz**?

- A) Sınıfımızı süsleriz.
- B) Büyüklerimizin elini öperiz.
- C) Şiir okuruz.

3. Aşağıdaki bayramları kutlandığı günlerle eşleştirdiğimizde hangi şekil oluşur?

1	Cumhuriyet Bayramı	a	23 Nisan
2	Ulusal Egemenlik ve Çocuk Bayramı	b	30 Ağustos
3	Zafer Bayramı	c	29 Ekim



4. Aşağıdakilerden hangisi Milli Bayramlarımızdan **değildir**?

- A) 29 Ekim Cumhuriyet Bayramı
- B) 23 Nisan Ulusal Egemenlik ve Çocuk Bayramı
- C) Kurban Bayramı

5. Kurtuluş savaşını başlatan lider kimdir?

- A) Mustafa Kemal ATATÜRK
- B) Mehmet Akif ERSOY
- C) Seyit Onbaşı

6. Atatürk'ün, Samsun'a çıktığı ve Milli Mücadele'yi başlattığı gün hangisidir?

A) 29 Ekim

B) 19 Mayıs

C) 23 Nisan

7. Dini Bayramlarda ilk önce hangisi yapılır?

A) Komşular ziyaret edilir.

B) Hastalar ziyaret edilir.

C) Aile bireyleri ile bayramlaşılır.

8. Aşağıdaki ifadelerden hangisi 23 Nisan Ulusal Egemenlik ve Çocuk Bayramı ile ilgili doğrudur?

A) Sadece Türk Çocuklarına armağan edilmiştir.

B) Her yıl 23 Nisan'da kutlanır.

C) Büyüklerimizin elini öper harçlık alırız.

9. Dini bayramlarımız hangi şıkta doğru verilmiştir?

A) Zafer Bayramı-Kurban Bayramı

B) Ramazan Bayramı- Kurban Bayramı

C) Ramazan Bayramı-Cumhuriyet Bayramı

1. SINIF KAZANIM PEKİŞTİRME ÇALIŞMALARI CEVAP ANAHTARI					
TÜRKÇE		MATEMATİK		HAYAT BİLGİSİ	
1	A	1	A	1	C
2	C	2	A	2	B
3	B	3	B	3	B
4	B	4	C	4	C
5	B	5	B	5	A
6	C	6	C	6	B
7	C	7	C	7	C
8	B	8	C	8	B
9	A	9	B	9	B
10	A	10	B	10	