

ADİYAMAN İL MİLLİ EĞİTİM MÜDÜRLÜĞÜ

KAZANIM PEKİŞTİRME ÇALIŞMASI



4. SINIF
20-24 NİSAN

BU KİTAPÇIKTA

TÜRKÇE	15 SORU
MATEMATİK	15 SORU
FEN BİLİMLERİ	15 SORU
SOSYAL BİLGİSİ	15 SORU
İNGİLİZCE	10 SORU
DİN KÜLTÜRÜ VE AHLAK BİLGİSİ	10 SORU

Yer almaktadır.

Bu çalışmada yer alan Borsa İstanbul İlkokulu, Cumhuriyet İlkokulu, Mehmetçik İlkokulu, Menderes İlkokulu idareci ve öğretmenlerine teşekkürler..

4. SINIF KONU KAZANIM TESTİ

TÜRKÇE DERSİ

Alışveriş merkezlerinde vakit geçirmeyi çok seviyorum. Kalabalığın içine karışınca alışveriş yapanları izlerim. Tişörtün fiyatı nedir? Taksit olur mu? Değiştirebiliyor muyuz? Sonra mağazaları gezerim. Sinemaya girip çıkanlar, oyun alanları, süslü vitrinler her biri eğlenceli gelir bana.

1. 2. ve 3. Soruları paragrafa göre cevaplayınız.

1. Paragrafa göre yazar alışveriş merkezinde alışverişten önce ne yapmıştır?

- A)Kahve içermiş.
B) Yemek yemiştir.
C)Kalabalığın içerisine karışıp mağazaları gezermiş.
D)Oyun alanlarında oyun oynamıştır.

2. Aşağıdakilerden hangisi alışveriş yapanların konuşmalarından biri **değildir**?

- A)İndirim yapar mısınız?
B)Değiştirebilir miyiz?
C) Tişörtün fiyatı nedir?
D)Taksit olur mu?

3. Yazar alışveriş merkezinde gezerken nasıl bir duygu içerisindedir?

- A)Sıkılgan B) Heyecanlı
C)Mutlu D) Endişeli

4. Kitap en iyi arkadaş,
Bana ne sorsam söyler.
Ne anlatsa en sonunda,
'Çalış, iyi doğru ol der.'

Yukarıda yer alan dördlüğün ana duygusu aşağıdakilerden hangisidir?

- A)Okul sevgisi B) Vatan sevgisi
C)Bahar sevinci D) Kitap sevgisi

5.Aşağıdakilerden hangisi bir metnin ana fikri olabilir?

- A)Ali ve Ozan'ın yaşadıkları kaza
B)Annemle beraber pazara gittik.
C)Zamanımızı doğru ve verimli kullanmalıyız.
D)Keloğlan ve Devlin Maceraları

6. Aşağıda kutucuklarda verilen kelimeleri cümlelerdeki noktalı kısımlara uygun şekilde yerleştirelim.

Kahramanlar	bilgilendirici	hayal
aynı	dörtlüklerden	şiir

a	Duygu ve düşünceleri akıcı bir dille, uyum içinde aktarıldığı anlatım biçimine denir.
b	Hikaye edici metinler gerçek ya da ürünü bir olayı anlatabilir.
c	Bilgi verme amacı taşıyan metinlere..... metin denir.
d	Şiirler dize ve oluşur.
e	Hikaye edici metinlerde belli bir olay örgüsü içinde anlatılır.
f	Bilgilendirici metinlerde okuyucular yazılardan sonucu çıkarır.

7. Aşağıda verilen metin türlerinin taşıdığı özellikleri eşleştirerek gösterelim.

1	Hikaye Edici Metinler
2	Bilgilendirici Metin
3	Şiir

a	Birbiri ile uyumlu dizelerden oluşur.
b	Okuyucuyu belli bir konuda aydınlatır.
c	Gerçek ya da hayali unsurlar vardır.

1	2	3

8. 23 nisan 1920'de Türkiye Büyük millet meclisi açıldı. Mustafa kemal atatürk ve arkadaşları alkışlarla kürsüye yürüdü.

Yukarıdaki metinde büyük harfle yazılması gerekirken yanlış yazılan kaç kelime vardır?

- A)2 B) 3
C)4 D) 5

9. Horoz çöplükte gezinirken bir inci bulmuş() “Ne kadar da şanssızım() Bu benim ne işime yarar ki () Keşke bir buğday tanesi bulsaydım() ”

Yukarıdaki metinde () yerine gelmesi gereken noktalama işaretleri hangi şıkta doğru verilmiştir?

- A)(.)(!)(.)(. B) (,)(!)(,)(?)
C)(!)(!)(,)(?) D) (!)(:)(?)(.)

10. I Ablamın çalıştığı plazada yüzlerce ofis var.

II.Babam eve gelirken bariyerlere takıldığını ve düştüğünü söyledi.

III Abim elindeki kumanda ile zaping yapıp durdu.

IV Anneannem her sabah bize peynir ekmek dürümünü yapardı.

Yukarıdaki cümlelerin hangilerinde dilimize henüz yerleşmemiş kelimeler vardır?

- A)Yalnız IV B) I,II ve IV
C)II,IV D) I,II,III

11. Aşağıdaki kısaltmaların doğru eşleşmesi hangi şıkta verilmiştir?

1	AKUT	a	Türk Hava Yolları
2	LÖSEV	b	Türk Standartları Enstitüsü
3	TSE	c	Lösemili Çocuklar Sağlık ve Eğitim Vakfı
4	THY	d	Arama Kurtarma Derneği

- A)1-d 2-c 3-b 4-a B) 1-a 2-b 3-c 4-d
C)1-b 2-d 3-a 4-c D) 1-c 2-a 3-d 4-b

12. Aşağıda verilen ifadelerden doğru olanların başına (D), yanlış olanların başına (Y) yazalım.

- () İmza kişiye özeldir.
() İmza, atıldığı yerdeki ifadenin ya da metnin redde dildiğini gösterir.
() İmzada kişinin adının baş harfi ve soyadının tamamının sembolize edilmesi gerekir.
() İmza, farklı zamanlarda farklı şekillerde atılabilir.
() Başkasının imzasını taklit etmek suçtur.
() İmza, kişinin kendi eliyle atılmalıdır.

13. Aşağıda verilen dilimize henüz yerleşmemiş yabancı kelimeler ile Türkçe karşılıklarını eşleştirelim.

1	SELFIE	a	GERÇEK
2	REEL	b	KUŞAK
3	JENERASYON	c	ÖZÇEKİM
4	DEPARTMAN	d	KÜRESEL
5	DEKLARE ETMEK	e	BÖLÜM
6	GLOBAL	f	BİLDİRMEK

1	2	3	4	5	6

14. 1-Eli sıkı olmak
2-Elinden geleni yapmak
3-Elini çabuk tutmak
4-Eli açık olmak

Yukarıda verilen deyimlerden hangisi birbiri ile zıt anlamlıdır?

- A)1 ve 2 B) 1 ve 4
C)2 ve 3 D) 3ve 4

15. Aşağıdaki sözcükleri eşleştirdiğinizde oluşan anahtar sözcüğü tabloya yazınız.

1	SELFIE	a	GERÇEK
2	REEL	b	KUŞAK
3	JENERASYON	c	ÖZÇEKİM
4	DEPARTMAN	d	KÜRESEL
5	DEKLARE ETMEK	e	BÖLÜM

1	2	3	4	5	6

4. SINIF KONU KAZANIM TESTİ

MATEMATİK DERSİ

1. Aşağıdaki ifadelerden doğru olanlarının başına “D”, yanlış olanlarının başına “Y” yazınız.

(.....)	Cep telefonunun uzunluğunu santimetre ile ölçeriz.
(.....)	Parmaklarımızın uzunluğunu milimetre ile ölçeriz.
(.....)	Metreyi santimetreye çevirirken sayının sağına 2 sıfır ekleriz.
(.....)	789 cm ip, 23 m ipten daha uzundur.
(.....)	Santimetre ile milimetre, metrenin as katlarıdır.

2. Tabloda verilen sayı ve kelimeleri kullanarak uygun olanları ilgili boşluklara yazınız.

standart	695	çarpma
kilometre	135	

a	Dördüncü sınıfa giden Ayşe'nin boyu ... cm'dir.
b	Kilometre, metre, santimetre ve milimetre ölçme birimleridir.
c	Adıyaman ile Ankara arası km'dir.
d	En büyük uzunluk ölçme birim dir.
e	Büyük olan uzunluk ölçme birimi kendinden küçük olan uzunluk ölçme birimine çevrilirken işlemi yapılır.

3. Aşağıdaki ifadeleri eşleştiriniz.

a	11 cm	1	2 m 5 cm
b	76075 m	2	110 mm
c	205 cm	3	12350 m
d	12 km 350 m	4	76 km 75 m

1	2	3	4

4. Aşağıdaki işlemlerin sonuçlarını bulunuz.

$$8 \text{ m } 47 \text{ cm} + 5 \text{ m } 19 \text{ cm} = \dots\dots\dots \text{cm}$$
$$524 \text{ cm } 104 \text{ mm} + 17 \text{ cm } 79 \text{ mm} = \dots\dots\dots \text{m}$$
$$9 \text{ km} - 386 \text{ m} = \dots\dots\dots \text{m}$$
$$39 \text{ cm} - 17 \text{ cm } 48 \text{ mm} = \dots\dots\dots \text{mm}$$

5. $4 \text{ km} = \text{S m}$

$$\text{S m} + 309 \text{ m} = \text{R m}$$

verilen eşitliklere göre **S+R** nin değeri cm cinsinden hangi seçenekte doğru verilmiştir.

- A) 8309 B) 83 900
C) 830 900 D) 830 090

6. Aşağıdaki uzunluklardan hangisi 3070 mm'den daha uzundur?

- A) 307 cm B) 30 cm 7 mm
C) 30 cm 70 mm D) 308 cm

7. Aşağıdaki uzunluklardan hangisi diğerlerinden farklıdır?

- A) 7 km 450 m B) 7450 m
C) 74 500 cm D) 745 000 cm

8. Aşağıdaki ifadelerden hangisi yanlıştır?

- A) $35 \text{ mm} = 3 \text{ cm } 5 \text{ mm}$
- B) $88 \text{ m } 8 \text{ cm} = 8 \text{ 808 cm}$
- C) $53 \text{ 520 m} = 535 \text{ km } 20 \text{ m}$
- D) $215 \text{ cm } 350 \text{ mm} = 250 \text{ cm}$

9. Ömer'in evi ile okulu arası 820 m'dir. Ömer okula giderken yol üzerindeki kırtasiyeye uğrayarak resim dersi için malzeme alıyor. Kırtasiye ile okul arası 85 m olduğuna göre kırtasiye ile evi arası **kaç metre-dir?**

Çözüm:

10. Ahmet bisikletle saatte 14 km yol gitmektedir. Ahmet bisikletiyle **üç buçuk saatte kaç km yol gider?**

Çözüm:

11. Hatice'nin boyu kardeşinden 21 cm uzundur. İki-sinin boy uzunlukları toplamı 303 cm olduğuna göre Hatice'nin boyu **kaç metre kaç santimetredir?**

Çözüm:

12. Adıyaman Belediyesi şehir içinde 18 km yol asfaltlayacaktır.

Belediye ekipleri

1. hafta 3 km 155 m,

2. hafta 4 km 75 m yol asfaltlıyor.

Belediyenin asfaltlaması gereken **ne kadar yol kalmıştır?**

Çözüm:

13. Bir terzi aldığı 12 m kumaştan; 2 m 75 cm'si ile bir elbise, her birinin uzunluğu 85 cm olan üç etek diyor.

Terzinin **kaç metre kaç cm** kumaşı kalmıştır?

Çözüm:

14. Aralarındaki mesafenin 718 km olduğu iki şehir-den; saatteki hızları 75 km ve 88 km olan iki araç aynı anda karşılıklı olarak hareket diyor. Yola çıktık-tan 4 saat sonra iki araç arasındaki mesafe **kaç km** kalmıştır?

Çözüm:

15. Ali 17 mm uzunluğundaki ataş ile kalemin boyu-nu 8 defada ölçüyor. Arkadaşı Emir'in kalemi ise Ali'nin kaleminden 14 mm daha uzun olduğuna göre Emir'in kaleminin uzunluğu **kaç cm'dir?**

Çözüm:

4. SINIF KONU KAZANIM TESTİ

İNGİLİZCE DERSİ

1. It is rainy outside. Take your.....



- A) sunglasses B) dress
C) gloves D) umbrella

2. What is the weather like in Adiyaman?



- A) sunny B) rainy
C) foggy D) snowy

3. What is the weather like in Ankara?



- A) windy B) snowy
C) cloudy D) rainy

4. It is Put on your gloves.



- A) windy B) snowy
C) cloudy D) rainy

5. . It is hot and sunny. I need my

- A) umbrella B) gloves
C) sunglasses D) boots

6. What season is it?



- A) spring B) summer
C) autumn D) winter

7. What season is it?



- A) winter B) summer
C) autumn D) spring

8. I wear my in summer.

- A) raincoat B) gloves
C) boots D) sunglasses

9. Find the correct order of clothes.



- A) Coat, jeans, gloves, shoes
B) Shoes, coat, jeans, gloves
C) Shoes, gloves, coat, jeans
D) Shoes, coat, gloves, jeans

10. It is..... outside. Take your coat.



- A) hot B) warm
C) cold D) cloudy

4. SINIF KONU KAZANIM TESTİ

FEN BİLİMLERİ DERSİ

1. Aşağıdaki boşlukları verilen kelimelerden uygun olanları ile tamamlayınız.

işitme cihazı	ses kirliliği	geri dönüşüm
tutumluluk	fonograf	

a	Hoşa gitmeyen ve insanlar üzerinde olumsuz etki yapan seslere denir.
b	Sesin kaydedilip tekrar dinlenilmesini sağlayan Thomas Edison tarafından bulunmuştur.
c	Kaynakların gerektiğinde ihtiyaç olduğu kadar kullanılmasına denir.
d	Atıklardan değerlendirilebilir olanların çeşitli yöntemlerden geçip işlenerek tekrar kullanılmasına denir.
e	Duyuma problemi yaşayan insanlar kullanırsa hayatları kolaylaşır

2. Aşağıda verilen soruların doğru olanın önüne (D), yanlış olanın önüne (Y) harfini yazınız.

- (....) Yüksek ses insanlarda korku, yorgunluk, kaygı gibi birçok olumsuzluğa sebep olur.
(....) Mikrofon ve megafon sesin şiddetini azaltır.
(....) Şiddeti yüksek, düzensiz sesler ses kirliliği olarak adlandırılır.
(....) Elektrik, su ve besin, tükenmeyen kaynaklarımızdandır.
(...) Bilinen en eski aydınlatma aracı gaz lambasıdır.

3. Göz sağlığımızı korumak için ne yapmalıyız?

- A) Çıplak gözle güneşe bakmalıyız. B) Fazla ışıklı ortamlarda bulunmalıyız.
C) Çıplak gözle güneşe bakmamalıyız. D) Az ışıklı ortamlarda bulunmalıyız.

4. 1879 yılında icat edilen ampulün mucidi aşağıdakilerden hangisidir?

- A) Graham Bell B) Emile Berliner
C) Thomas Edison D) Nicola Tesla

5. Aşağıdakilerden hangisi ses kirliliğine örnek olarak söylenemez?

- A) Bir piyanistin konseri. B) Motorlu taşıtların sesleri.
C) Sınıfta öğrencilerin aynı anda konuşması. D) İş makinelerinin sesleri.

6. "Günümüzdeki aydınlatma araçlarının çoğuile çalışmaktadır.

Yukarıdaki cümlede boş bırakılan yere yazılabilecek sözcük hangisidir ?





- A) Mum B) Elektrik
C) Güneş D) Gaz yağı

7.ses kirliliğinin yoğun olduğu yerlerden biridir.

Bu cümledeki boşluk hangi kelime ile doldurulursa yanlış cevap verilmiş olur?

- A) Havaalanı B) Stadyum
C) Kütüphane D) Çocuk parkları

8. Aşağıdaki sembollerden hangisi "Geri dönüşümün" sembolüdür?

- A)  B) 
C)  D) 

9. Aşağıdaki görsellerden hangisi sesin şiddetini değiştiren aletlerden değildir?

A)



B)



C)



D)



10. Bir sesin çıkmaya başladığı canlı ya da cansız varlık, sesin hangi ögesidir?

A) Sesin şiddeti

B) Sesin yansıması

C) Ses kaynağı

D) Ses dalgası

11. Aşağıdakilerden hangisi sesi ve görüntüyü aynı anda kaydedebilen bir cihazdır?

A) Hoparlör

B) Kamera

C) Megafon

D) Mikrofon

12. Ses çıkaran bütün aletlerde kullanılan maden hangisidir?

A) Çinko

B) Mıknatıs

C) Bor

D) Demir

13. Hava alanlarında, uçakların iniş kalkışların uçaklara yön gösteren kişilerin kulaklık taktığını görürüz, bunun nedeni ne olabilir? Açıklayınız.

14. Bazı ses teknolojileri faydalıdır, bazıları ise bize zarar verebilir. Faydalı ve zararlı olanlara ikişer tane örnek yazınız.

Faydalı

1-

2-

Zararlı

1-

2-

15. Evimizde kullandığımız ses teknolojisi aletlerine dört tane örnek yazınız.

1-

2-

3-

4

4. SINIF KONU KAZANIM TESTİ

DİN KÜLTÜRÜ VE AHLAK BİLGİSİ DERSİ

1. Cebrail (a.s)'in Hz. Muhammed (s.a.v)'e getirdiği Alak Suresi'nin ilk ayeti ne ile başlıyordu?

- A) Dinle B) Oku C) Yaz D) Ezberle

2. Kur'an- ı Kerim'in indirildiği gecenin ismi nedir?

- A) Kadir Gecesi B) Cuma Gecesi
C) Berat Kandili D) Miraç Kandili

3. Aşağıdakilerden hangisi Hz. Muhammed (s.a.v)'e ilk inanan kişilerden biri **değildir**?

- A) Hz Hatice (r.a) B) Hz. Ali (r.a)
C) Hz Ömer (r.a) D) Hz. Ebu Bekir (r.a)

4. Peygamberimiz Hz Muhammed (s.a.v) Taif'e gidip insanları İslama çağırırdı. Ancak Taifliler İslama daveti kabul etmedi. Üstelik O'na kötü davrandılar ve taşlattılar. Peygamberimiz onlara beddua etmedi.

Bu durum O'nun hangi yönüne işaret ediyor?

- A) Adaletli olması B) Çalışkan olması
C) Cesaretli olması D) Merhametli olması

5. Aşağıdakilerden hangisi Hicretin sonuçlarından (faydalarından) biri **değildir**?

- A) Müslümanlar özgür ortama kavuştu.
B) Müslümanlar rahatça yaşama imkânına kavuştu.
C) Müslümanların okuma yazma oranları azaldı.
D) Müslümanlar baskı ve eziyetten kurtuldu.

Verilen kavramlardan uygun olanı 6. 7. 8. 9. ve 10. sorulardaki ilgili boşluklara yazarak cevaplayınız.

ALAK	RAMAZAN	CEBRAİL(A.S)	İSRA	622
------	---------	--------------	------	-----

6. Kur'an-ı Kerim'in ilk indirilen suresi suresidir

7. Kur'an-ı Kerim ayında indirildi

8. Kur'an-ı Kerim adlı melek vasıtası ile Peygamberimize indirildi.

9. Peygamberimiz yılında Mekke'den Medine'ye hicret etti.

10. Yüce Allah, Peygamberimizi bir gece vakti Mescid-i Haram'dan alıp Mescid-i Aksa'ya götürmüştü. Bu olaya denir.

4. SINIF KONU KAZANIM TESTİ

SOSYAL BİLGİLER DERSİ

1. Aşağıdaki boşlukları kutucuklarda verilen kelimelerden uygun olanlarıyla dolduralım.

verdiğimiz sözleri	Yaşımız	hareket etmek
sorumlulukları	başarılı	Çocukların
a	İnsanlar toplu halde yaşarlar ve toplum içinde yaşayan insanların birbirlerine karşı	vardır.
b arttıkça sorumluluklarımız da artar.	
c	Arkadaşlarımıza	tutmak bizim sorumluluğumuzdur.
d	Hayatta	olmak için aldığımız sorumlulukları yerine getirmeliyiz.
e da evde üstlenebilecekleri sorumluluklar vardır.	
f	Görev ve sorumluluklarımızı bilerek	bizi mutlu eder.

2. Aşağıdaki cümlelerden doğru olanlara (D), yanlış olanlara (Y) yazalım.

- (...) Üstlendiğimiz görevi yerine getirmek bizim sorumluluğumuzdur.
- (...) Ailede ev işlerinden yalnız aile büyükleri sorumludur.
- (...) Çocukların çevreye karşı hiçbir sorumluluğu yoktur.
- (...) Okul araç ve gereçlerini kullanmak hakkımızdır ancak onları özenli kullanmak sorumluluğumuzdur.
- (...) Haklarımızı kullanmak için sorumluluklarımızı yerine getirmeliyiz.
- (...) Okula zamanında gelmek ve kurallara uymak en önemli sorumluluklarımızdandır.

3. Verilenlerden hangileri okuldaki sorumluluklarımızdandır?

- I - Derslere hazırlıklı gelmek
II- Arkadaşlarımızın haklarına saygı göstermek
III- Okul panosuna katkı sağlamak

- A) Yalnız I
B) I ve II
C) II ve III
D) I, II, III

4. Verilenlerden hangisi evdeki sorumluluklarımızdandır?

- A) Ütü yapmak
B) Yatağımızı düzeltmek
C) Bulaşıkları yıkamak
D) Camları silmek

5. Serpil 4. sınıf öğrencisidir. Aşağıdakilerden hangisi Serpil' in okuldaki sorumluluklarından biridir?

- A) Odasını toplamak
B) Oyun oynamak
C) Kıyafetlerini düzenlemek
D) Derslere zamanında gelmek

6. Aşağıdakilerden hangisi evdeki sorumluluklarımızdan biri değildir?

- A) Sınıfımızı temiz tutmak
B) Odamızı toplamak
C) Oyuncaklarımızı toplamak
D) Kıyafetlerimizi düzenlemek

7. Kulüplere katılan öğrencilerin bilinci gelişir.

Boşluk bırakılan yere hangisi gelmelidir?

- A) Gezi ve gözlem B) Kulüpler
C) Dayanışma D) Sorumluluk

8. Kendimize ve başkalarına karşı yerine getirmemiz gereken yükümlülükler.....denir.

Cümlede boş bırakılan yere aşağıdakilerden hangisi gelmelidir?

- A) hak B) egemenlik
C) sorumluluk D) saygı

9. Burak, sorumluluk sahibi bir çocuktur. Kendisine, ailesine ve arkadaşlarına karşı dürüst, saygılı ve adil davranır. Ortak çalışmalarda onların fikirlerini dinler, onlarla birlikte hareket etmeye özen gösterir. Her zaman kendi ihtiyaçlarını karşılar.

Anlatımda sözü edilen Burak'ın özellikleri dikkate alındığında eksik cümle aşağıdakilerden hangisi ile tamamlanamaz?

- A) Tasarruf ederek B) Kaynakları tutumlu kullanarak
C) Aile bütçesini dikkate alarak D) Kişisel çıkarlarını gözeterek

10. Verilenlerden hangileri sorumluluklarımızdandır?

- I. Oyun oynamak**
II. Çevremizi temiz tutmak
III. Derse zamanında girmek
IV. Başkalarının haklarına saygı göstermek

- A) I ve II B) I ve IV
C) I, II ve III D) II, III ve IV

11. Her zaman düşünerek konuşmalıyız. Sözlerimiz doğru olmalı. Bir davranışta bulunmadan önce de sonucunun neler olabileceğini düşünüp ona göre yapmalıyız. Böyle davranmak bizi üzecek sonuçlarla karşılaşmamızı engeller. Sözlerimizin ve yaptıklarımızın sorumluluğu bize aittir.

Paragraftaki anlatım aşağıdaki yargılardan hangisinin açıklamasıdır?

- A) Söz ve davranışlarımızın sorumluluğu vardır.
B) Düşünerek hareket etmek bizi tehlikelerden korur.
C) Dürüst olursak çevremizdekilerin güvenini kazanırız.
D) Bir işin sonuçlarını tahmin etmek başarıyı artırır.

12. Esin ödevini yaparken evdeki ve okuldaki sorumluluklarını birbirine karıştırmıştır. Ödevini tamamlamasında Esin'e yardımcı olalım. Sorumlulukları numaralarını kullanarak uygun bölüme yerleştirelim.

Evdeki Sorumluluklarım	Sorumluluk Listesi	Okuldaki Sorumluluklarım
	1. Ailemize saygılı davranmak 2. Ödevlerimizi yapmak 3. Dersleri sessiz dinlemek 4. Evde iş bölümünde üzerimize düşenleri yapmak 5. Eve zamanında gelmek 6. Sınıfımızı temiz tutmak 7. Odamızı düzenli kullanmak 8. Okul bahçesini temiz tutmak	

13. Sorumluluklarımızı yerine getirdiğimizde karşılaşılabileceğimiz durumları boyayalım.

Güven duygumuz artar	Karşılıklı ilişkilerimiz güçlenir.	Kavgalar ve çatışmalar artar.
Sorumluluk duygumuz gelişir.	Toplumsal çatışmalar artar.	Kişiliğimiz olumlu yönde gelişir.

14. Aşağıdakilerden hangisi sorumluluk sahibi bir öğrencinin davranışı olabilir?

- A) Düzenli ödev yapmak.
- B) Çalışmaları özensiz yapmak.
- C) Ders kitaplarını evde unutmak.
- D) Projeleri zamanında teslim etmemek.

15. Sorumluluk duygusu çocuklara aşağıdaki becerilerden hangisini kazandırmaz?

- A) Karar verme
- B) Çıkarıcı olma
- C) Kendine güvenme
- D) Eldeki kaynakları verimli kullanma

4. SINIF CEVAP ANAHTARI

TÜRKÇE	MATEMATİK	İNGİLİZCE	FEN BİLİMLER	DİN KÜLTÜRÜ VE AHLAK BİLGİSİ	SOSYAL BİLGİLER
1. C	1.D-Y-D-Y-D	1. D	1) a- ses kirliliği	1-B	1) a)Sorumlulukları,
2.A	2. a. 135	2. A	b- fonograf	2-A	b)yaşımız,
3.C	b. standart	3. C	c- tutumluluk	3-C	c)verdiğimiz sözleri,
4.D	c. 695	4. B	d- geri dönüşüm	4-D	d)başarılı,
5.C	d. kilometre	5. C	e- işitme cihazı	5-C	e)çocukların,
6. a. Şiir	e.çarpma	6. A	2) D	6-ALAK	f)hareket etmek.
b. hayal	3. 1. c	7. B	Y	7-RAMAZAN	2) D-Y-Y-D-D-D
c. bilgilendirici	2. a	8. D	D	8-CEBRAİL(A.S)	3) D
d. dörtlüklerden	3. d	9. B	Y	9- 622	4) B
e. kahramanlar	4. b	10. C	Y	10-İSRA	5) D
f. aynı	4. 1366 cm		3) C		6) A
7. 1. c	5593 mm		4) C		7) D
2. b	8614 m		5) A		8) C
3. a	172 mm		6) B		9) D
8. D	5. C		7) C		10) D
9. A	6. D		8) A		11) A
10. D	7. C		9) D		12) Evdeki sorumluluklarımız: 1-4-5-7
11. A	8. C		10) C		Okuldaki sorumluluklarımız: 2-3-6-8
12. D-Y-D-Y-D-D	9. 734 m		11) B		13)
13. 1.c	10. 49 km		12) B		Güven duygumuz artar.
2.a	11. 1 m 62 cm		13) Bilgi ve Yorum		Karşılıklı ilişkilerimiz güçlenir.
3.b	12. 10 km 770m		14) Bilgi ve Yorum		Sorumluluk duygumuz gelişir.
4.e	Yada		15) Bilgi ve Yorum		Kişiliğimiz olumlu yönde gelişir.
5.f	10770 m				14) A
6.d	13. 6 m 70 cm				15) B
14-B	14. 66 km				
15- İPTAL	15. 15 cm				